

PARALARIMIZ

- Kağıt paralarımız.
(Para miktarlarını resimlerin altlarına yazınız.)



1.) 3 tane 5TL ile 2 tane 10 TL'nin toplamı kaç lira eder?

2.) 4 tane 1TL ile 2 tane 20TL'nin toplamı kaç lira eder?

3.) 3 tane 1TL ile 2 tane 50Kr'un toplamı kaç lira eder?

4.) 8 tane 25Kr ile 6 tane 50 Kr'nin toplamı kaç lira eder?






5.) 5 tane 10Kr ile 3 tane 50Kr'un toplamı kaç lira eder?

6.) 10 tane 5Kr ile 2 tane 25Kr'nin toplamı kaç lira eder?

- Madeni Paralarımız
(Para miktarlarını resimlerin altlarına yazınız.)



Para birimimiz

| Ürünler | Fiyatı |
|---|--------|
|  | 1 TL |
|  | 5 TL |
|  | 10 TL |
|  | 50 Kr |
|  | 25 Kr |

Soruları tabloya göre yanıtlayınız.

1.) 5 kitap ile 4 sakız alan biri kaç lira öder?

2.) 8 silgi ile 2 ekmek alan biri kaç lira öder?

3.) 3 top ile 2 sakız alan biri kaç lira öder?

4.) 30 lirası olan biri 1 kitap ve 2 3 top alıyor. Kaç lira para üstü alır?

5.) 20 lirası olan biri 2 ekmek, 4 silgi ve 1 sakız alıyor. Kaç lira para üstü alır?

6.) Ahmet 1 kitap ve 2 silgi alıyor. Veli 8 ekmek ve 8 sakız alıyor. Ahmet ve Veli'nin ödeyeceği para miktarlarının farkı kaçtır?

7.) Nuran 2 top, 4 sakız, 1 kitap ve 4 silgi alıyor. Nuran'ın 50 lirası varsa kaç lira para üstü alır?

8.) Can tüm ürünlerden 1'er tane alıyor. Can kaç liralık ödeme yapar?