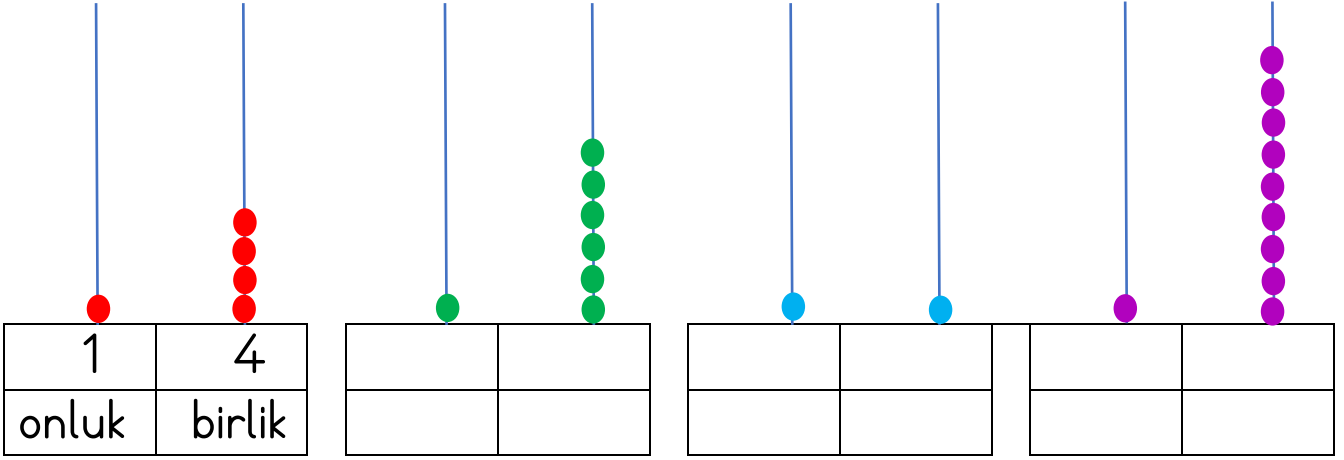
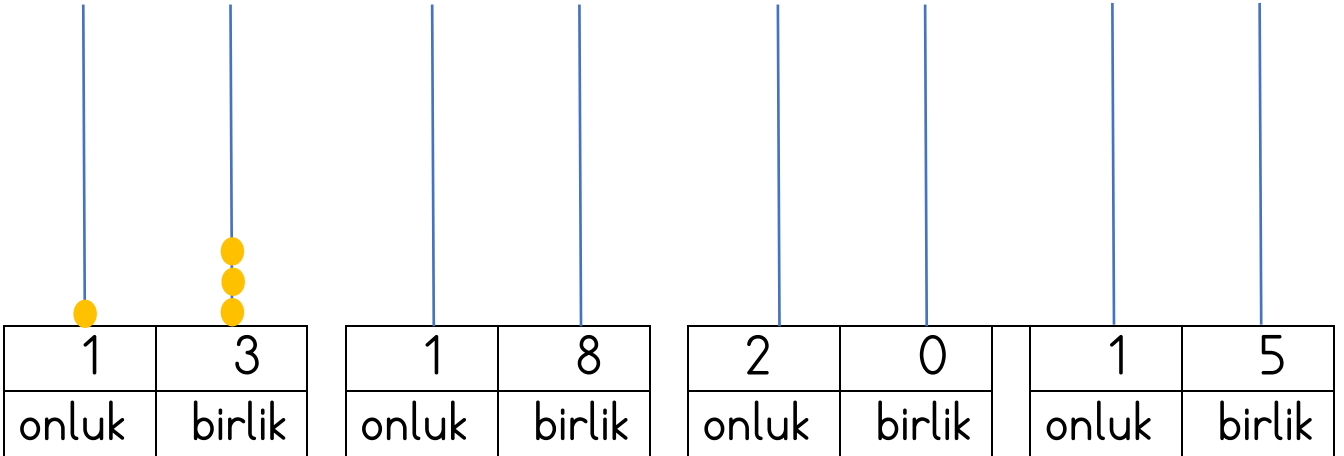


MATEMATİK TEKRAR ETKİNLİKLERİ - 2


1. Abaküslerde gösterilen sayıları örnekteki gibi yazalım.



2. Onluk ve birliklerine ayrılan sayıları abaküs üzerinde boncuk çizerek örnekteki gibi gösterelim.




3. Verilen nesnelerin sayılarını onluk ve birliklerine ayırarak yazalım.



1 onluk, 1 birlik



.....



.....




.....

4. Noktalı yerleri, kutucuklardaki kelimelerden uygun olanıyla tamamlayalım.



daha çoktur

daha azdır


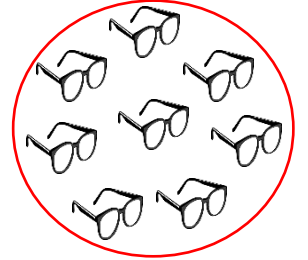
eşittir



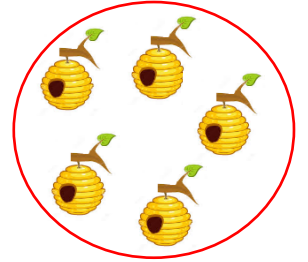
Tavşanlar, havuçlardan




Çocuk sayısı ile gözlük sayısı



Arılar, kovandan



5. yönergelere göre maymunları boyayalım.



Muza göre beşinci maymunu kahverengiye boyayalım.

En sondaki maymunu yeşile boyayalım.


Muza göre üçüncü maymunu turuncuya boyayalım.

En baştaki maymunu siyaha boyayalım.


6. Saatlerin kaçı gösterdiğini yazalım.




.....



.....

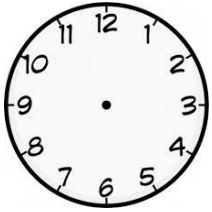


.....

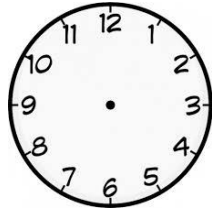


.....


7. Okunuşları verilen saatlerin akrep ve yelkovanlarını çizelim.



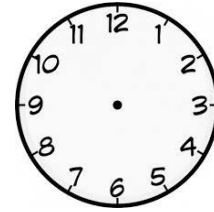
saat 8



saat 9 buçuk



saat 11



saat 7 buçuk

8. Gün içinde yaptığımız işlerin saatlerini noktalı yerlere yazalım.





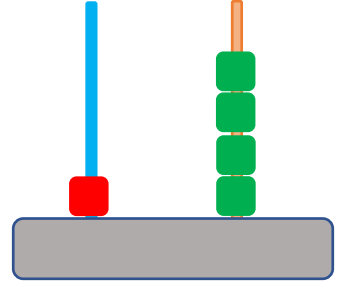




Doğru seçeneği işaretleyelim.


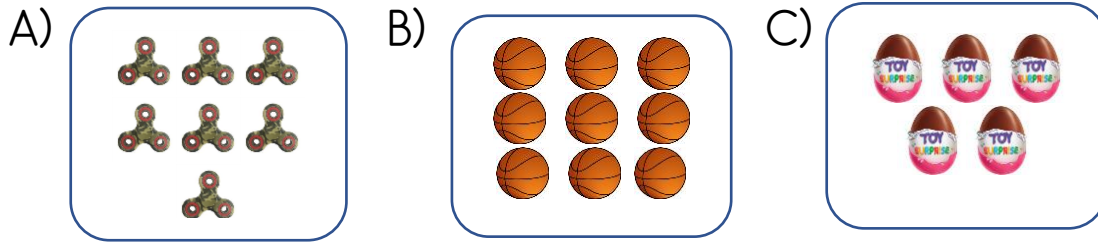
9. Yandaki abaküste gösterilen sayı kaçtır?

- A) 13
B) 14
C) 15



10. Görseldeki varlıkların onluk, birlik olarak gösterilişi hangi seçenekte doğru verilmiştir?

- A) 1 onluk, 5 birlik
B) 5 onluk, 1 birlik
C) 1 onluk, 5

11. Varlıklardan hangisinin nesne sayısı en azdır?

12.



Görselle ilgili verilen bilgilerden hangisi yanlıştır?

- A) Zürafa en öndeki vagonadır.
B) Aslan ikinci vagonadır.
C) 5. vagona tavşan ailesi vardır.

13. Göktürk sabah saat 7.30'da uyanır.

Göktürk'ün uyandığı saat hangisinde doğru gösterilmiştir?

