


Adı , Soyadı :

Onluk ve Birlikler

1)



Resimdeki bilyeler için
söylenenlerden hangisi yanlıştır?

- A) Resimdeki bilyelerle 1 onluk, 6 tane birlik oluşturulabilir.
- B) Resimde 16 tane bilye vardır.
- C) Resimdeki bilyelerden 2 tane onluk oluşturabiliriz.

2) Aşağıdakilerden hangisinde 47 sayısı onluk ve birliklerine doğru olarak ayrılmıştır?

A)

Onluk	Birlik
40	7
47	

B)

Onluk	Birlik
7	4
47	

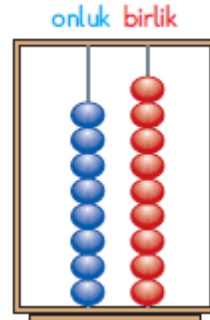
C)

Onluk	Birlik
4	7
47	

3) Onlar basamağında 7, birler basamağında 6 bulunan sayı aşağıdakilerden hangisidir?

- A) 67 B) 76 C) 66

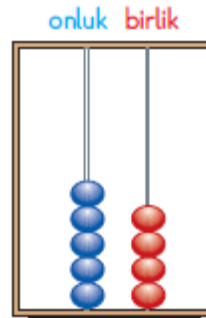
4)



Yukarıdaki abaküsteki boncukların gösterdiği sayı aşağıkilerden hangisidir?

- A) 98 B) 89 C) 79

5)




Yukarıdaki abaküsteki boncukların gösterdiği sayı ile ilgili söylenenlerden hangisi yanlıştır?

- A) 5 tane onluğu vardır.
- B) 4 tane birliği vardır.
- C) 65 sayısını göstermektedir.



Adı , Soyadı :


6)



Yukarıdaki lalelerle ilgili söylenenlerden hangisi yanlıştır.

- A) 3 tane onluktan oluşmaktadır.
- B) 30 tane lale vardır.
- C) 30 tane onluğu vardır.

7)



Yukarıdaki papatyalardan kaç onluk kaç birlik oluşturulabilir ?

- A) 1 onluk 5 birlik
- B) 5 onluk 1 birlik
- C) 15 onluk , 15 birlik

8) 5 birlik , 8 onluktan oluşan sayı kaçtır ?

- A) 58
- B) 85
- C) 55

9) 95 sayısı ile ilgili söylenenlerden hangisi yanlıştır ?

- A) 9 tane onluğu vardır.
- B) Birler basamağında hiç sayı yoktur.
- C) Onluk sayısı birlik sayısından fazladır.

10)



Yukarıdaki muzlardan kaç onluk , kaç birlik oluşturabiliriz ?

- A) 12 tane onluk
- B) 10 tane onluk, 2 tane birlik
- C) 1 onluk , 2 birlik

