

## Kesir Problemleri

1.)

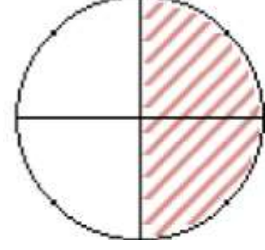
$$\frac{2}{4}$$

kesri ile ilgili ař. hang.

yanlıřtır?


- a) Payı 2'dir.
- b) Kesrin anlamı "yarım"dır.
- c) Kesir "ikide drt" diye okunur.

4.)



- řeklin adı "yarım"dır.
- řekli  $\frac{2}{4}$  diye okuyabiliriz.
- řeklin adı "eyrek"tir.

2.)



Verilen řekille ilgili ař. hang.

doęrudur?

- a) řeklin anlamı btndr.
- b) řekli ikide bir diye okuruz.
- c) řekli  $\frac{1}{4}$  olarak yazarız.

Yukarıdaki řekil iin yazılanlardan ka tanesi doęrudur?

- a) 3
- b) 2
- c) 1

5.)



Sedef, doęum gn pastasını 4 eřit paraya bld ve 1 parasını yedi. Sedef pastanın ne kadarını yedi?

3.) Kesirlerde "eyrek" iin ař. hang. doęrudur?

- a) Pay 4, payda 1 olabilir.
- b) řekli 4 eř paraya blebiliriz.
- c) "Ikide bir" diye okuruz.

- a) Yarısını
- b) eyreęini
- c) Btnn

6.) Ahmet kesir çizgisinin altına 2 rakamını, üstüne de 1 rakamını yazdı.

Yukarıdaki bilgiye göre doğru-yanlış sorularını cevaplayınız.

- ( ) Kesir “bütün”ü ifade eder.
- ( ) Kesri ikide bir diye okuruz.
- ( ) Kesrin paydası 1’dir.
- ( ) Kesir “yarım”ı ifade eder.
- ( ) Kesrin payı 1’dir.

7.) Verilenleri doğru biçimde eşleştiriniz.

Dörtte bir kesri




Payı 1, paydası 2 olan model



“Bütün” modeli

$$\frac{1}{4}$$

$\frac{2}{4}$  modeli



8.) “Yarım” modeli çiziniz. Kesri ve kesrin okunuşunu yazınız.

9.) “Bütün” modeli çiziniz. Kesri ve kesrin okunuşunu yazınız.

10.) “Çeyrek” modeli çiziniz. Kesri ve kesrin okunuşunu yazınız.

11.)



Ayten aldığı ekmeği 4 eşit parçaya böldü. Önce 1 parçasını yedi. Ayten sonra 1 parça daha yedi. Ayten ekmeğin ne kadarını yedi?

a) Bütününü

b) Yarısını

c) Çeyreğini