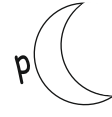


Adı- Soyadı:

# KESİRLERİ ÖĞRENDİM!



Selman  
Amca  
diyor ki: )

AY YUKARIDADIR. pAY yukarıdadır.  
PAYDA alttadır. Haydi alttadır.

> Kesri okuma, yazma, boyama, anlama

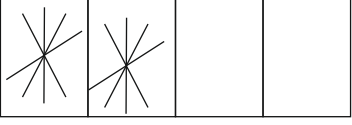

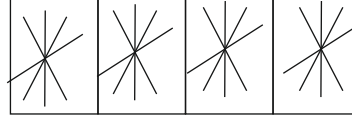

Kesre göre şeklini boyayınız. "Pay" ve "Payda" bilgisini yazınız. Kesirlerin okunuşunu yazınız. Kaça bölünüp kaçının alındığını belirtiniz.

- |  |                                  |  |   |  |
|--|----------------------------------|--|---|--|
| 1)   | $\frac{1}{4}$ → pay<br>→ payda   |  | → | Okunuşu: 1 bölü 4 veya 4 de 1<br>4 parçaya bölünmüş ve 1 parçası alınmış.                |
| 2)   | $\frac{2}{4}$ → pay<br>→ payda   |  | → | Okunuşu: .... bölü ....veya .....de ....<br>... parçaya bölünmüş ve ... parçası alınmış. |
| 3)   | $\frac{3}{4}$ → .....<br>→ ..... |  | → | Okunuşu: .... bölü ....veya .....de ....<br>... parçaya bölünmüş ve ... parçası alınmış. |
| 4)   | $\frac{4}{4}$ → .....<br>→ ..... |  | → | Okunuşu: .... bölü ....veya .....de ....<br>... parçaya bölünmüş ve ... parçası alınmış. |
| 5)   | $\frac{1}{2}$ → .....<br>→ ..... |  | → | Okunuşu: .... bölü ....veya .....de ....<br>... parçaya bölünmüş ve ... parçası alınmış. |
| 6)   | $\frac{2}{2}$ → .....<br>→ ..... |  | → | Okunuşu: .... bölü ....veya .....de ....<br>... parçaya bölünmüş ve ... parçası alınmış. |
| <b>Aşağıdakileri kesire göre bölüp, boyar mısın?</b> |                                  |  |   |  |
| 7)   | $\frac{1}{4}$ → .....<br>→ ..... |  | → | Okunuşu: .... bölü ....veya .....de ....<br>... parçaya bölünmüş ve ... parçası alınmış. |
| 8)   | $\frac{1}{2}$ → .....<br>→ ..... |  | → | Okunuşu: .... bölü ....veya .....de ....<br>... parçaya bölünmüş ve ... parçası alınmış. |
| 9)   | $\frac{3}{4}$ → .....<br>→ ..... |  | → | Okunuşu: .... bölü ....veya .....de ....<br>... parçaya bölünmüş ve ... parçası alınmış. |
| 10)  | $\frac{2}{2}$ → .....<br>→ ..... |  | → | Okunuşu: .... bölü ....veya .....de ....<br>... parçaya bölünmüş ve ... parçası alınmış. |





ÜST katta evimiz var. Kaç dilim pasta alırsak PAYımız budur. YUKARI yazarız. → pay

Alt katımız PASTANE. Pastayı orada bölerler. Kaça böldüklerini ALTA yazarız. PAYDA budur. → payda

Şekle göre kesrini yazınız. "Pay" ve "Payda" bilgisini kısmına yazınız. Kesirlerin okunuşunu yazınız. Eksik bilgileri belirtiniz.

- 11) → pay  
→ payda  → Okunuşu: ..... bölü .....veya .....de .....  
... parçaya bölünmüş ve ... parçası alınmış.
- 12) → pay  
→ payda  → Okunuşu: ..... bölü .....veya .....de .....  
... parçaya bölünmüş ve ... parçası alınmış.
- 13) → .....  
→ .....  → Okunuşu: ..... bölü .....veya .....de .....  
... parçaya bölünmüş ve ... parçası alınmış.
- 14) → .....  
→ .....  → Okunuşu: ..... bölü .....veya .....de .....  
... parçaya bölünmüş ve ... parçası alınmış.
- 15) → .....  
→ .....  → Okunuşu: ..... bölü .....veya .....de .....  
... parçaya bölünmüş ve ... parçası alınmış.
- 16) → .....  
→ .....  → Okunuşu: ..... bölü .....veya .....de .....  
2 parçaya bölünmüş ve 1 parçası alınmış.

Aşağıdakileri açıklamalara göre **şekli bölüp** boyayınız. Kesrini yazınız. Eksik bilgileri tamamlayınız.

- 17) → .....  
→ .....  → Okunuşu: 1 bölü 4 veya .....de .....  
... parçaya bölünmüş ve ... parçası alınmış.
- 18) → .....  
→ .....  → Okunuşu: ..... bölü .....veya 4 de 3  
... parçaya bölünmüş ve ... parçası alınmış.
- 19) → .....  
→ .....  → Okunuşu: 1 bölü 2 veya .....de .....  
... parçaya bölünmüş ve ... parçası alınmış.
- 20) → .....  
→ .....  → Okunuşu: ..... bölü .....veya 2 de 2  
... parçaya bölünmüş ve ... parçası alınmış.