

- 1 Bir sınıfta futbol oynayan 12, basketbol oynayan 6, voleybol oynayan 9, tenis oynayan 3 öğrenci var.




Aşağıdakilerden hangisi yukarıda verilen bilgilerin nesne grafiğidir?

**A**

Oynanan Spor Dalları	
Futbol	
Basketbol	
Voleybol	
Tenis	





Her Şekil 3 kişiyi gösterir.

**B**

Oynanan Spor Dalları	
Futbol	
Basketbol	
Voleybol	
Tenis	

Her Şekil 3 kişiyi gösterir.

**C**

Oynanan Spor Dalları	
Futbol	
Basketbol	
Voleybol	
Tenis	

Her Şekil 3 kişiyi gösterir.

**2**





Oyuncakçıda Satılan Oyuncaklar	
Bisiklet	
Bebek	
Kepçe	
Dinozor	
Robot	

Her şekil 5 oyuncakı gösterir

Yukarıdaki grafik ile ilgili verilen bilgilerin hangisi yanlıştır?

- A** 25 Adet robot satılmış.
- B** En az dinozor satılmış.
- C** En çok bisiklet satılmış.

**2-D Sınıfı En Çok Sevilen Meyveler**

Elma	
Muz	
Kiraz	
Üzüm	

3 Aşağıdakilerden hangisi yandaki çetele tablosunun şekil grafiğine çevrilmiş halidir.

**2-D Sınıfı En Çok Sevilen Meyveler**

**A**

Elma	
Muz	
Kiraz	
Üzüm	

Her Şekil 2 kişiyi gösterir.





**2-D Sınıfı En Çok Sevilen Meyveler**

**B**

Elma	8
Muz	16
Kiraz	12
Üzüm	3

**2-D Sınıfı En Çok Sevilen Meyveler**






**C**

Elma	
Muz	
Kiraz	
Üzüm	

Her Şekil 2 kişiyi gösterir.

4

**2-A Sınıfı En Çok Sevilen Meyveler**

Portakal	
Çilek	
Elma	
Armut	
Karpuz	

Her şekil 2 kişiyi gösterir

Aşağıdakilerden hangisi yandaki nesne grafiğinin sıklık tablosuna çevrilmiş halidir.

**A**

Portakal	10
Çilek	10
Elma	12
Armut	12
Karpuz	8






**B**

Portakal	10
Çilek	10
Elma	14
Armut	12
Karpuz	8

**C**

Portakal	10
Çilek	8
Elma	12
Armut	12
Karpuz	8

### Bahçede Bulunan Ağaç Türleri

Ceviz	
Kiraz	
Badem	
Kavak	
Fıstık	

#### Her şekil 5 kişiyi gösterir

Aşağıdaki 5,6,7 ve 8. soruları yukarıdaki grafikte verilen bilgilere göre yapınız.

- 5 Yukarıdaki grafik ile ilgili verilen bilgilerin hangisi doğrudur?

- (A) Yukarıdaki grafik, nesne grafiğidir.  
(B) Bahçede 30 tane kiraz ağacı var.  
(C) Bahçede en az kavak ağacı var.

- 6 Yukarıdaki grafik ile ilgili verilen bilgilerin hangisi yanlıştır?

- (A) Yukarıdaki grafik, şekil grafiğidir.  
(B) Fıstık ağacı daha fazladır.  
(C) Ceviz ağacı badem ağacından fazladır.

- 7 Yukarıdaki grafik ile ilgili verilen bilgilerin hangisi doğrudur?

- (A) Bahçede toplam 100 ağaç var.  
(B) Fıstık ile kavak ağacı toplamı 25'tir  
(C) Ceviz ile badem ağacı toplamı 50'dir.

- 8 Yukarıdaki grafik ile ilgili verilen bilgilerin hangisi yanlıştır?

- (A) Bahçede 25 tane ceviz ağacı var.  
(B) Bahçede 10 tane fıstık ağacı var.  
(C) Bahçede 15 tane badem ağacı var.

### 2-B Taraftar Grafiği

Beşiktaş	
Fenerbahçe	
Galatasaray	
Trabzonspor	
Niğdespor	

#### Her şekil 2 kişiyi gösterir

Aşağıdaki 9,10,11, ve 12. soruları yukarıdaki grafikte verilen bilgilere göre yapınız.

- 9 Yukarıdaki grafik ile ilgili verilen bilgilerin hangisi yanlıştır?

- (A) Yukarıdaki grafik, nesne grafiğidir.  
(B) Sınıfta en çok Galatasaray taraftarı var  
(C) Her resim 5 öğrenciyi gösterir.

- 10 Yukarıdaki grafik ile ilgili verilen bilgilerin hangisi yanlıştır?

- (A) Yukarıdaki grafik, şekil grafiğidir.  
(B) Niğdespor'un taraftarı en azdır.  
(C) Galatasaray'ın 16 taraftarı var.

- 11 Yukarıdaki grafik ile ilgili verilen bilgilerin hangisi doğrudur?

- (A) FB taraftarı GS taraftarından daha çok.  
(B) BJK taraftarı FB taraftarından daha çok.  
(C) Sınıfta toplam 44 öğrenci var.

- 12 Yukarıdaki grafik ile ilgili verilen bilgilerin hangisi doğrudur?

- (A) BJK ve FB taraftarları toplamı 22'dir  
(B) GS ve TS taraftarları toplamı 22'dir  
(C) Trabzonpor'un 6 taraftarı var.



ilkokuletkinlik

