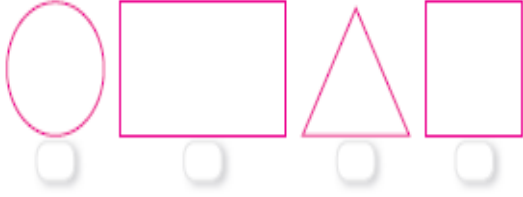
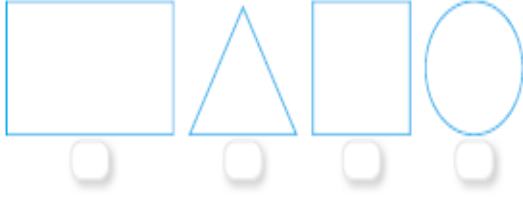


Adı: \_\_\_\_\_ Tarih: ...../...../2018  
Soyadı: \_\_\_\_\_

5.Ünite Bölüm Değerlendirmesi

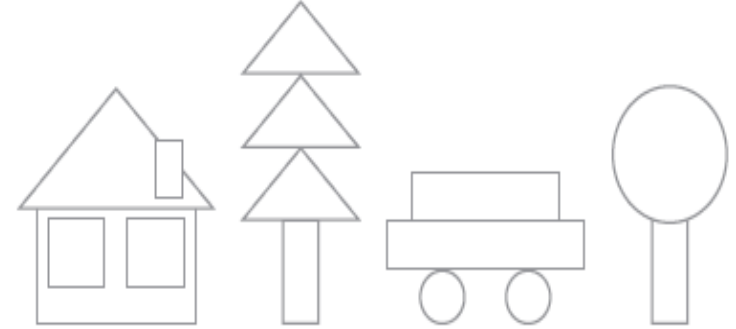
Aşağıdaki trafik levhalarının hangi geometrik şekle benzediğini bulunuz. Şeklin altındaki kutucuğu işaretleyiniz.



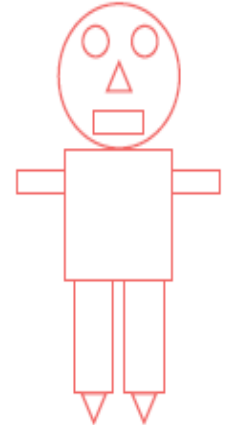
Aşağıdaki ifadelerden doğru olanların yanına "D", yanlış olanların yanına "Y" yazınız.

- a. ☐ Şekiller kenar sayılarına göre adlandırılır.
- b. ☐ Kare ve dikdörtgen birer dörtgendir.
- c. ☐ Üçgenin ve çemberin kenar sayısı eşittir.
- ç. ☐ Karenin kenar sayısı bazen 6 olabilir.

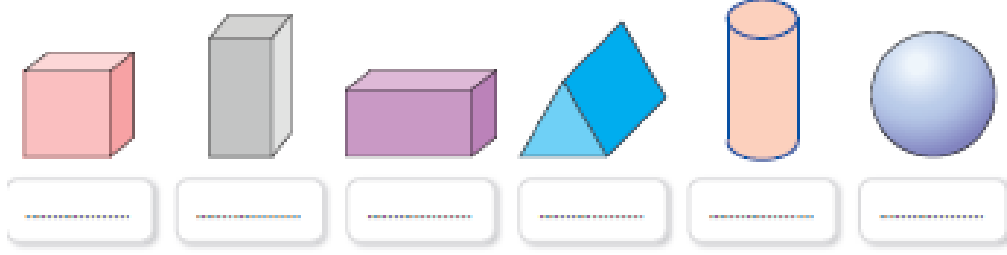
Resimdeki geometrik şekilleri belirtilen renklere boyayınız.



Yandaki robotu boş kâğıda çizebilmek için hangi geometrik şekilleri kullanacağınızı belirtiniz.



1. Aşağıdaki geometrik cisimlerin isimlerini altlarına yazınız.



2. Dikdörtgen prizmaya benzeyeni yuvarlak içine alınız.



3. Kare prizmaya benzeyeni yuvarlak içine alınız.




4. Küpe benzeyeni yuvarlak içine alınız.



Enes SERT

2/F Sınıfı Çalışmaları

5. Aşağıdaki nesnelerin hangi geometrik cisme benzediklerini altlarına yazınız.



.....

Adı:

Tarih

Soyadı:

...../...../2018

### 5.Ünite Bölüm Değerlendirmesi



#### Bölüm Değerlendirmesi

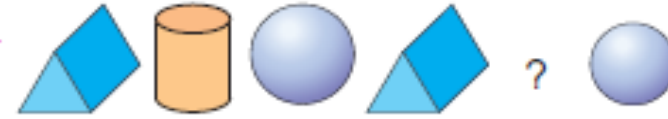
1. Aşağıdaki örüntüleri bir adım devam ettiriniz.



2. Aşağıdaki örüntülerde ? yerine getirilmesi gereken şekilleri çiziniz.




3.



Yukarıdaki örüntüde ? olan yere hangi geometrik cisim gelmelidir?

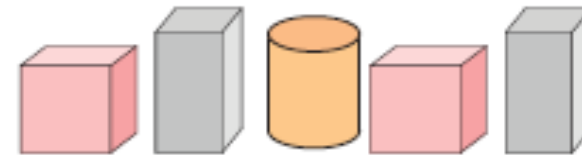


4.

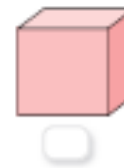


Yukarıdaki örüntüde ? olan yere getirilmesi gereken şekli çiziniz.

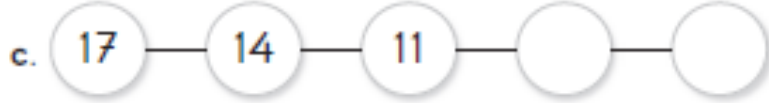

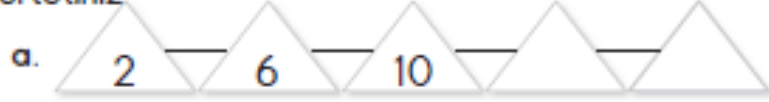
5.



Yukarıdaki örüntüde sıradaki cisim aşağıdakilerden hangisi olmalıdır?



1. Aşağıda verilen sayı örüntülerini ikişer adım daha ilerletiniz



2. Aşağıdaki kibrit çöplerinden oluşturulan örüntüyü inceleyiniz. Sıradaki adımda kaç tane kibrit çöpünün kullanılacağını belirtiniz.



1. adım



2. adım



3. adım



Yukarıdaki örüntüde ? ile gösterilen yere gelmesi gereken şekli çiziniz.



## 5. Ünite Değerlendirme Soruları

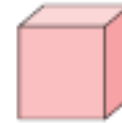
1. Aşağıdakilerden hangisinin kenar ve köşe sayısı diğerlerine göre daha azdır? İşaretleyiniz.



2. Hangi geometrik şeklin 3 köşesi vardır? İşaretleyiniz.



3. Aşağıdaki geometrik cisimlerden hangisi yandaki hediye paketine benzemektedir? İşaretleyiniz.



4. Aşağıdakilerden hangisi silindire benzer? İşaretleyiniz.

