

Adı Soyadı:.....

MATEMATİK GEOMETRİK CİSİMLER DEĞERLENDİRME

1-Aşağıdaki boşlukları uygun sayı ve sözcüklerle tamamlayalım.

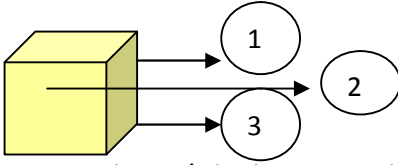
*6 tane eş kareden oluşan cisim:

*Dikdörtgen prizmanın köşe sayısı:.....

*Köşesi olmayan cisimler: ve

*Silindirin yüz sayısı:.....

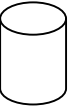
*Karşılıklı iki yüzü üçgen, diğer yüzleri dikdörtgen olan prizma:.....




2- Yukarıdaki küpte rakamlarla gösterilen bölümlerin isimleri hangi seçenekte doğru verilmiştir?

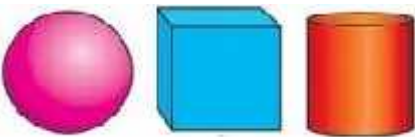
- A) 1-Köşe
2-Ayrıt
3-Yüz
- B) 1-Ayrıt
2-Yüz
3-Köşe
- C) 1-Yüz
2-Ayrıt
3-Köşe

3- Aşağıdakilerden hangisi yanlıştır?

A)  ⇒ Koniye benzer

B)  ⇒ Küpe benzer


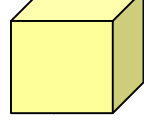

C)  ⇒ Silindire benzer.





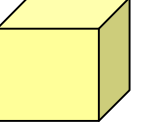
4- Yukarıdaki geometrik cisimlerin köşelerinin toplamı kaçtır?

- A)4 B)6 C)8

5-Aşağıdaki cisimlerden hangisinin ayrıtı yoktur?

- A)  B)  C) 

6-Yüzlerinin tamamı karesel bölgeden oluşan geometrik cisim hangisidir?

- A)  B)  C) 

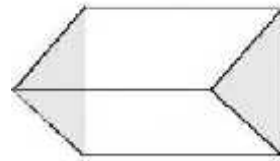
7-Köşesi ve ayrıtı olmayan, sadece tek yüzü olan geometrik şekil hangisidir?

- A)Kare B)Koni C)Küre



8-Yukarıdaki cisimlerden hangilerini kullanarak daire yapabiliriz.

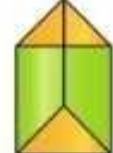

- A)1 ve 2 B)1 ve 3 C)2 ve 3



9- Hangisi yukarıdaki geometrik cismin yüzeylerinden biridir?

- A) Çember B)Üçgen C)Kare

10- Aşağıdaki geometrik cisimlerden hangisinin köşe ve ayrıt sayısı en azdır?

- A)  B)  C) 