


# GEOMETRİK ŞEKİLLER

Verilen şekillerin adlarını yazınız.




1.) Kare çizip karenin kenar ve köşelerini gösteriniz.

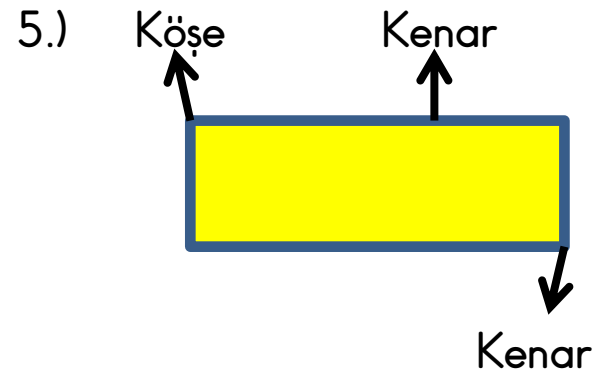
2.) Çember çizip çemberin kenar ve köşelerini gösteriniz.



3.) Dikdörtgen çizip dikdörtgenin kenar ve köşelerini gösteriniz.




4.) Üçgen çizip üçgenin kenar ve köşelerini gösteriniz.



Yukarıda yanlış gösterilen özelliği yuvarlak içine alınız.

## GEOMETRİK CİSİMLER

Verilen geometrik cisimlerin adlarını altlarına yazınız.



.....  
.....

.....

- Dikdörtgen prizmanın yüz sayısı:.....
- Kürenin yüz sayısı:.....
- Küpün yüz sayısı:.....
- Kare prizmanın yüz sayısı:.....
- Üçgen prizmanın yüz sayısı:.....
- Silindirin yüz sayısı:.....

1.) Dünyamız hangi geometrik şekle benzemektedir?

- a) Küp    b) Küre    c) Kare prizma

2.) Tekerlek hangi geometrik şekle benzemektedir?

- a) Silindir    b) Küre  
c) Dikdörtgen prizma

3.) Matematik kitabımız hangi geometrik şekle benzemektedir?

- a) Küp    b) Küre  
c) Dikdörtgen prizma

4.) Evimizin çatısı hangi geometrik şekle benzemektedir?

- a) Dikdörtgen prizma    b) Küp  
c) Üçgen prizma

- Küpün köşe sayısı:.....
- Üçgen prizmanın köşe sayısı:.....
- Dikdörtgen prizmanın köşe sayısı:.....
- Silindirin ve kürenin köşe sayısı:...
- Kare prizmanın köşe sayısı:.....