

Matematik 2/M yazılısı

1-Şekilleri inceleyip sizden istenenleri yapınız.

Aşağıdaki varlıkları bir **deste**ye tamamlayın.



Aşağıdaki varlıkları bir **düzine**ye tamamlayın.

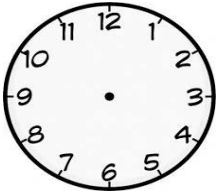


2-Tablolardaki boşlukları doldurunuz.

Sayı	85	
Basamak Adı		
Bas. Değeri		
Sayı Değeri		

3-32'den ileriye doğru ikişer ikişer sayarken **4. saymada** hangi sayıyı söylerim?

4- 76 sayısının onlar basamağındaki rakamın basamak değeri kaçtır?



5- Yandaki saat kaçtır?



6-



Yukarıdaki paraların toplamı ne kadar eder?

7-) 73-77-81-85-89-?

? yere hangi sayı gelmelidir?



Yukarıdaki örüntünün kuralı nedir?

9- Bir düzine kalem, bir deste kalemden kaç fazladır?

10- 3 deste çiçeğe 7 çiçek daha koyarsak kaç çiçek olur.

11- **4 'ten başlayarak** üçer üçer sayarsak 5. Saymada hangi sayıyı söyleriz?

12- İki basamaklı en küçük sayının birler basamağında hangi sayı vardır?

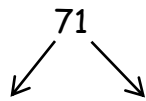
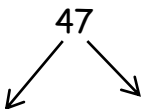
13- 5 birlik 6 onluk sayısının 13 fazlası kaç yapar?

14- Küçük Ayşe'nin ayakkabı numarası 1 deste ile 1 düzinenin toplamı kadar olan doğal sayıya eşittir. Küçük Ayşe'nin ayakkabı numarası kaçta eşittir?

15- Hangi sayıyı hem 3'er hem de 4'er ritmik saymada söyleriz?
A-20 B-24 C-28

16-32'den başlayıp 5'er 5'er geriye doğru sayarken 7. Saymada hangi sayıya ulaşırız?

17- 47 ve 71 sayısının basamak değerlerini yazın.



18- 76 - 74 - 72 - 70 - ? - 66
sayı örüntüsünde ? yerine hangi sayı gelmelidir?

19- Aşağıdaki sayıların okunuşlarını yazın.

87:.....

46:.....

69:.....

90:.....

20- Onluk ve birlikleri verilen sayıları yazınız.

7 onluk + 8 birlik =

4 onluk =

1 onluk + 9 birlik =

3 onluk + 5 birlik =

21- Aşağıdaki sayıları onluk ve birliklerine ayırınız:

65 =+

81 =+

10 =+

9 =+

Hazırlayan: Ümit DAĞ