



ÇIKARMA İŞLEMİNİ BÖLME İŞLEMİNE ÇEVİRİYORUM

İstenilen işlemleri önce çıkarma işlemi ile yapın. Ardından bölme işlemi ile yapın.



Her çiçeğe 2 uğur böceği konacaktır.
Kac tane cicek gerekir?



ÇIKARMA İŞLEMİ

BÖLME İŞLEMİ

Her arabaya 4 kişi binmektedir.
Herkesin binmesi için kac araba gerekir?




ÇIKARMA İŞLEMİ

BÖLME İŞLEMİ

Gürkan ÇELEBİ

Her köpek 3 kemik yemektedir.
Kac köpeğe kemik verebiliriz?



ÇIKARMA İŞLEMİ

BÖLME İŞLEMİ

Her pastaya 5 mum dikilecektir.
Kac pastaya mum dikebiliriz?



ÇIKARMA İŞLEMİ

BÖLME İŞLEMİ