










Problemleri çözelim. Bulduğumuz sonucun yazılı olduğu parçaları uygun yerlere yapıştıralım. Bakalım ortaya ne çıkacak?

<p>Özlem'in kitabı 75 sayfadır. Özlem kitabının 36 sayfasını okursa geriye kaç sayfa kitabı kalır?</p> 	<p>Muharrem'in kümesinde 83 tane tavuk ve horoz vardır. Kümeste 76 tane tavuk varsa kaç tane horoz vardır.?</p> 	<p>Esra Öğretmen'in 46 tane öğrencisi vardır. Öğrencilerin 28 tanesi kız ise kaç tane erkek öğrencisi vardır?</p> 
<p>Demet, kitaplığındaki 69 tane kitabın 27 tanesini Funda'ya verdi. Demet'in kaç kitabı kalır?</p> 	<p>İbrahim, cebindeki parasının 32 lirasını Şafak'a verdi. Cebinde 59 Lirası kaldığına göre İbrahim'in cebinde kaç lirası vardı?</p> 	<p>Hatice ile Osman'ın yaşlarının toplamı 70'tir. Osman 44 yaşında olduğuna göre Hatice kaç yaşındadır?</p> 
<p>Pekşen Manav'da bir haftada 41 kasa meyve satıldı. Geriye 39 kasa meyve kaldığına göre Pekşen Manav'da kaç kasa meyve vardı?</p> 	<p>Habibe'nin 42 tokası vardı. Tokalarının bir kısmını Rabia'ya verdi. Elinde 19 tokası kaldı. Habibe, Rabia'ya kaç tane toka vermiştir?</p> 	<p>Uras'ın 63 tane misketi vardır. Misketlerinin kaç tanesini Serdar'a verirse elinde 34 tane misketi kalır?</p> 

39

7

18

42

91

26

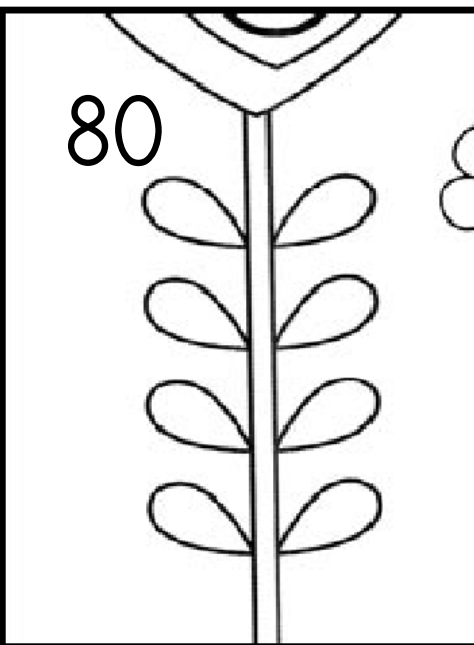
80

23

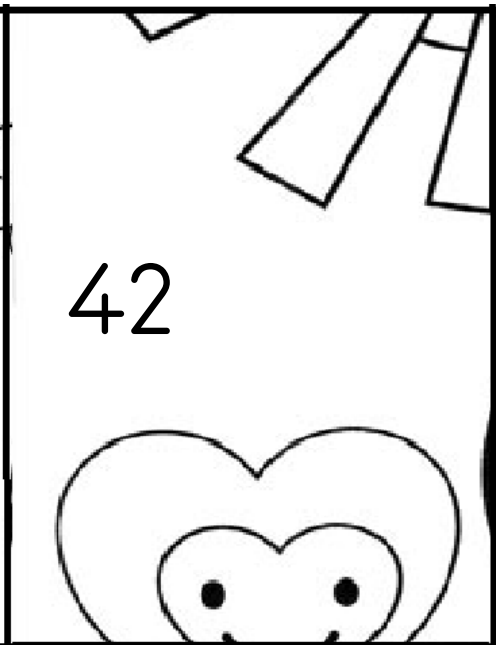
29




91



80



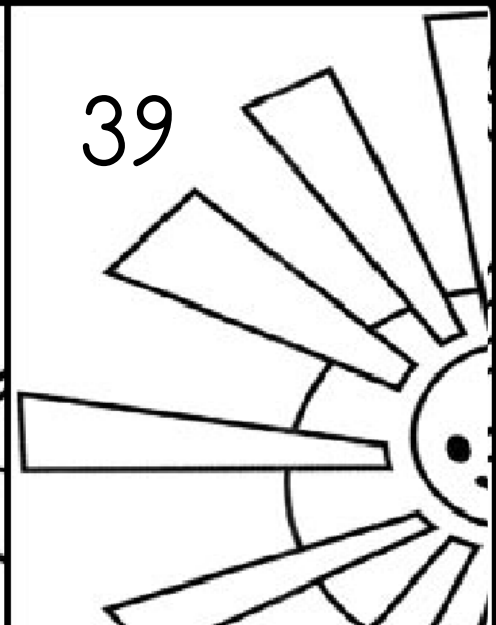
42



7




23




39



26



29



18