






Çarpma İşlemi Etkinlikleri ve Problemleri - 2

1.) Tablonun altında verilen soruları tabloya göre cevaplayınız.

Hayvanlar	Nesne
Fil	
Tavuk	
Aslan	
Horoz	
At	

Not: Her nesne 4 hayvanı göstermektedir.

➤ Kaç fil vardır?

➤ Kaç horoz vardır?


➤ Kaç aslan vardır?

➤ Kaç at vardır?

➤ Kaç tavuk vardır?

➤ Horozların ayak sayıları toplamı kaçtır?

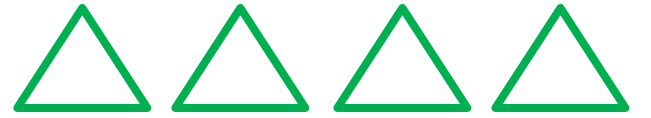
2.) Aşağıda verilen soruları cevaplayınız.




Yukarıdaki atların ayak sayıları toplamı kaçtır?



Yukarıdaki yıldızların köşeleri toplamı kaçtır?



Yukarıdaki üçgenlerin köşeleri toplamı kaçtır?



Yukarıdaki tavukların ayak sayıları toplamı kaçtır?



3.) Mahmut Hoca'nın kitaplığı 6 raftan oluşmaktadır. Her rafta 3 kitap vardır. Mahmut Hoca'nın toplam kaç kitabı vardır?

4.) Kaç tane 4, 28 eder?

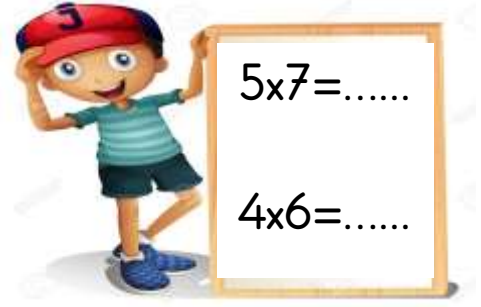
5.) Kaç kere 5, 40 eder?



6.) Adile'nin 9 tane tabağı vardır. Tabakların her birinde 2 elma vardır. Tabakalarda toplam kaç elma vardır?

7.) 3 sayısının kaç katı 21'dir?

8.)



Noktalı yerlere gelecek sayıların farkı kaçtır?

9.) Aşağıdaki işlemlerden hangisinin sonucu farklıdır?
a) 10×3 b) 5×6 c) 7×4

10.) Aş. işlemlerden hangisinin sonucu 45'tir?
a) 5×9 b) 4×10 c) 3×8

11.) Aş. işlemlerden hangisinin sonucu 20 değildir?
a) 10×2 b) 3×7 c) 4×5

12.) Sonuçları eşit olan çarpma işlemlerini eşleştiriniz.

$$7 \times 2$$

$$6 \times 4$$

$$3 \times 9$$

$$5 \times 8$$

$$9 \times 3$$

$$2 \times 7$$

$$10 \times 4$$

$$3 \times 8$$