



Aşağıdaki nesneleri örnekteki gibi paylaşınız.



10 tane çileği **ikişerli** paylaşırsak 5 grup oluşur.



..... tane üzümü **dörderli** paylaşırsak grup oluşur.



..... tane topu **üçerli** paylaşırsak grup oluşur.



Üçerli 9 gruba ayrılmış elmaların sayısıtanedir.

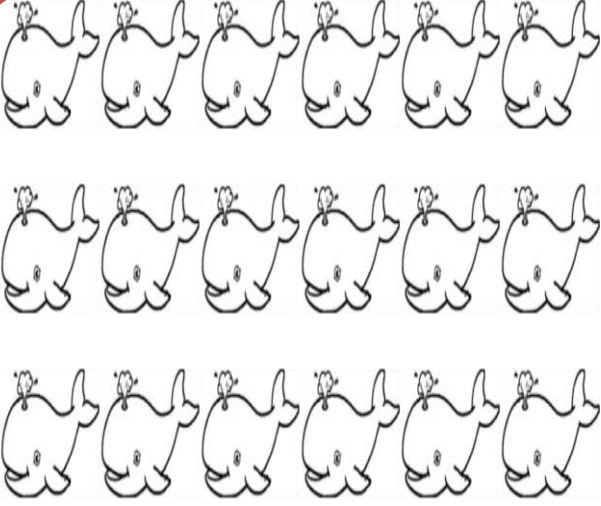


..... tane arabayı **beşerli** paylaşırsak grup oluşur.



..... tane çiçeği **dörderli** paylaşırsak grup oluşur.

Aşağıdaki yunusları 3'erli gruplara ayırınız ve sorulara cevap veriniz.

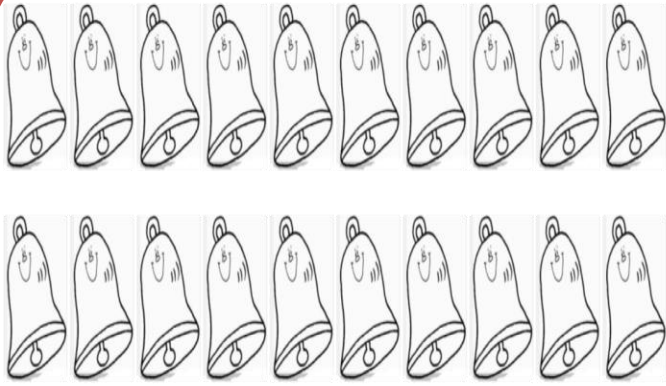


Kaç grup oluşur?

Tolam kaç tane yunus var?

Her grupta kaç tane yunus var?

Aşağıdaki yunusları 2'şerli gruplara ayırınız ve sorulara cevap veriniz.



Kaç grup oluşur?

Tolam kaç tane zil var?

Her grupta kaç tane zil var?



Yukarıdaki dört deste kalemi 5 arkadaş eşit olarak paylaşırsa her birinin kaç kalemi olur?