



## BÖLME İŞLEMİNİ ÖĞRENIYORUM-2

Aşağıdaki hayvanları kulübelere eşit şekilde paylaşınız. Yaptığınız dağıtımı çıkarma işlemi ile gösteriniz.



..... - ..... = .....

..... - ..... = .....



..... - ..... = .....

..... - ..... = .....

..... - ..... = .....

..... - ..... = .....



..... - ..... = .....


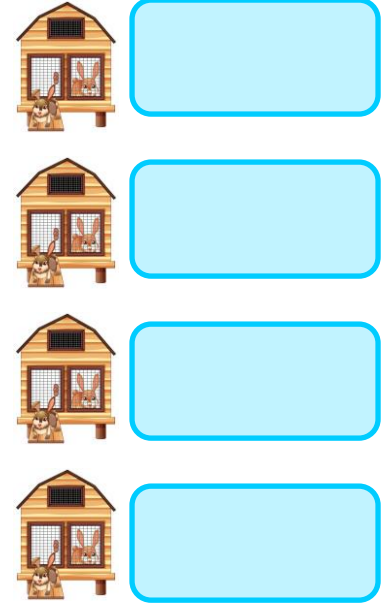
..... - ..... = .....

..... - ..... = .....

..... - ..... = .....

..... - ..... = .....

..... - ..... = .....



..... - ..... = .....

..... - ..... = .....

..... - ..... = .....



..... - ..... = .....

..... - ..... = .....

..... - ..... = .....

..... - ..... = .....

..... - ..... = .....

