

Bölme İşlemi


Aşağıdaki yiyecekleri çocukların sayılarına göre eşit bir şekilde paylaşalım,




$$\begin{array}{r|l} 10 & 2 \\ \hline \end{array}$$




$$\begin{array}{r|l} 12 & 3 \\ \hline \end{array}$$



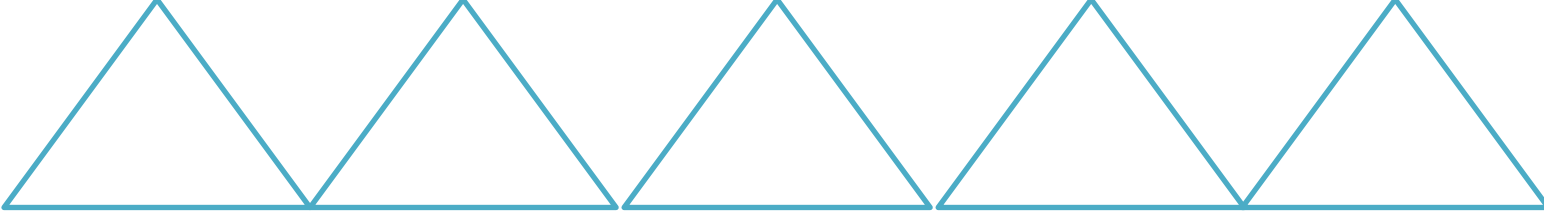
$$\begin{array}{r|l} 15 & 5 \\ \hline \end{array}$$



Yukarıdaki topları aşağıdaki kutulara eşit şekilde paylaştırınız.



Yukarıdaki çiçekleri aşağıdaki kutulara eşit şekilde paylaştırınız.



Yukarıdaki arabaları aşağıdaki kutulara eşit şekilde paylaştırınız.

