


## BÖLME İŞLEMİ ETKİNLİKLERİ VE PROBLEMLERİ - 1

Verilen soruları çözerken  
sadece çizim yapınız.



Balıkları 3'erli gruplandırırsak  
kaç grup oluşur?.....



Elmaları ikili gruplandırırsak  
kaç grup oluşur?.....



Mantarları 5'li gruplandırır-  
sak kaç grup oluşur?.....



Kedileri dörderli gruplandırır-  
sak kaç grup oluşur?.....



Çiçekleri 10'lu gruplandırır-  
sak kaç grup oluşur?.....





Elmaları birli gruplandırırsak  
kaç grup oluşur?.....

Verilen soruları çözerken çizim ve ardışık çıkarma işlemi yapınız.



Topları dörderli gruplarsak kaç grup oluşur?



Arıları 3'erli gruplarsak kaç grup oluşur?



Kuşları ikili gruplarsak kaç grup oluşur?



Verilen armutlar 3'lü gruplanırsa;  
- Kaç grup oluşur:.....  
- Her grupta kaç armut olur:.....



Verilen kalemler 5'li gruplanırsa;  
- Kaç grup oluşur:.....  
- Her grupta kaç kalem olur:.....