

## SAYILARDA KARŞILAŞTIRMA

Tabloda verilen sayılardan büyük olanını işaretleyiniz.

45	48
71	69
37	39
23	15

89	98
65	56
32	23
41	50

Tabloda verilen sayılardan küçük olanını işaretleyiniz.

47	70
13	9
85	75
52	59

8	12
28	17
78	79
11	7

Verilen sayıları büyükten küçüğe sıralayınız.

68 - 86 - 92 - 75

78 - 87 - 71 - 85

Verilen sayıları küçükten büyüğe sıralayınız.

42 - 7 - 16 - 28

60 - 42 - 50 - 47

Verilen sayıları sembol kullanarak büyükten küçüğe sıralayınız.

32 - 23 - 29 - 48

78 - 71 - 79 - 80

Verilen sayıları sembol kullanarak küçükten büyüğe sıralayınız.

90 - 82 - 88 - 79

54 - 49 - 48 - 50

1.) "69 - 96 - 75 - 57" sayılarını büyükten küçüğe sıralarsak 3. sayı kaç olur?

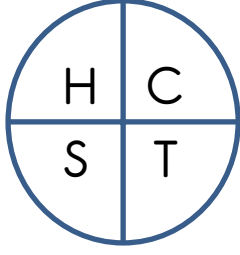
a) 69    b) 75    c) 57

2.) "34 - 44 - 40 - 30" sayılarını küçükten büyüğe sıralarsak 2. sayı kaç olur?

a) 40    b) 30    c) 34

## YER, YÖN, HAREKET

Şekil



Yukarıdaki şekil saat yönünde 1 çeyrek dönerse oluşan şekli harfleri ile beraber çiziniz.


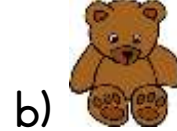

En üstteki şekil saat yönünde 2 çeyrek dönerse oluşan şekli harfleri ile beraber çiziniz.

En üstteki şekil saat yönünde 3 çeyrek dönerse oluşan şekli harfleri ile beraber çiziniz.


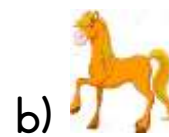
En üstteki şekil saat yönünde 4 çeyrek dönerse oluşan şekli harfleri ile beraber çiziniz.



1.) Yukarıdaki şekilde Ali kediye bakmaktadır. Ali saat yönünde yarım dönüş yaparsa hangi hayvana bakmış olur?



2.) Ali ilk başta koyuna bakmaktadır. Ali saat yönünde tam dönüş yaparsa hangi hayvana bakmış olur?



3.) Ali saat yönünde 3 çeyrek dönünce karşısında kedi oluyor. Ali ilk başta hangi hayvana bakmaktaydı?

