

MATEMATİK 1. DÖNEM 1. DEĞERLENDİRME SINAVI1-Aşağıdaki kutuya **bir deste** kare çiziniz.

3P

2-Aşağıdaki kutuya **bir düzine** üçgen çiziniz.

3P

3-Aşağıdaki sayıların basamak adlarını ve basamak değerlerini yazınız. (2x5=10P)

92

	<u>Basamak adı</u>	<u>Basamak değeri</u>
9	Onluk	90
2	Birlik	2

48

	<u>Basamak adı</u>	<u>Basamak değeri</u>
4	Onluk	40
8	Birlik	8

4-Basamak tablosundaki boşlukları uygun şekilde doldurunuz. (2x5=10P)

	Onluk	Birlik
	2	8
Sayı	
Okunuşu	
Basamak adları	Onlar Basamağı	Birler Basamağı
Rakamın Basamak Değeri

	Onluk	Birlik
	9	4
Sayı	
Okunuşu	
Basamak adları	Onlar Basamağı	Birler Basamağı
Rakamın Basamak Değeri

5-Aşağıdaki soruların cevabını sorunun sonundaki noktalı yere yazınız. (4x2=8P)

-2 onluk, 5 birlikten oluşan sayı kaçtır? →

-9 birlik, 3 onluktan oluşan sayı kaçtır? →

- 36 sayısındaki 6 rakamının basamak değeri nedir? →- 53 sayısındaki 5 rakamının basamak değeri nedir? →6- 12'den başlayarak ileriye doğru 3'er ritmik sayma yaptığımızda 4. söylediğimiz sayı kaçtır?

3P

7- 16'dan başlayarak ileriye doğru 4'er ritmik sayma yaptığımızda 5. söylediğimiz sayı kaçtır?

3P

8-Aşağıdaki sayılardan tek sayı olanların yanına "T", çift sayı olanların yanına "Ç" harfi yazınız.

(5x2=10P)

-15 → -24 → -37 → -90 → -69 →

9-Aşağıdaki sayıları en yakın onluğa yuvarlayınız. (5x2=10P)

-43 → -57 → -64 → -75 → -34 →

10- Aşağıdaki sayıların arasına **büyüktür-küçüktür** sembollerinden uygun olanı yazınız. (4x2=8P)

17 35 → okunuşu:.....

58 43 → okunuşu:.....

79 85 → okunuşu:.....

49 40 → okunuşu:.....

11-Aşağıda karışık olarak verilen sayıları **büyükten küçüğe** doğru sembol kullanarak sıralayınız.

45 - 62 - 24 - 74 → (3P)

12- Aşağıda karışık olarak verilen sayıları **küçükten-büyüğe** doğru sembol kullanarak sıralayınız.

52 - 19 - 87 - 24 → (3P)

13-Aşağıdaki soruları yandaki resme bakarak cevaplayınız. (5x2=10P)

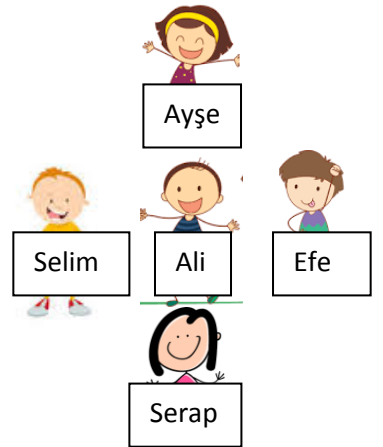
-Ali saat yönünde çeyrek tur dönerse kimi görür?.....

-Ali saat yönünde yarım tur dönerse kimi görür?.....

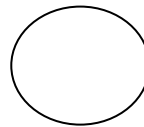
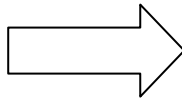
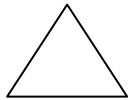

-Ali saat yönün tersine çeyrek tur dönerse kimi görür?.....

-Ali saat yönün tersine yarım tur dönerse kimi görür?.....

-Ali saat yönünde üç çeyrek tur dönerse kimi görür?.....



14-Aşağıdaki şekillerin simetri eksenini çiziniz. (5x2=10P)



15-Aşağıdaki şekillerin simetriğini çizerek içini kurşun kalemle boyayınız.(2x3=6P)

