

Aşağıdaki metni dikkatle okuyunuz. İlk üç soru bu metin ile ilgilidir.



Merhaba benim adım Mustafa.Biz köyde yaşıyoruz. Leylekler ilkbaharda köyümüze gelirler. Dedemin onlara yaptığı yuvada kalırlar. Leylekler kurbağa , solucan hatta yılan bile yerler. Sonbahar gelince de sıcak ülkelere giderler.

1. Leylekler aşağıdakilerden hangisini yemezler?

- ☐ a) Karınca
- ☐ b) Yılan
- ☐ c) Solucan

2. Leylekler köye ne zaman gelirlermiş?

- ☐ a) İlkbaharda
- ☐ b) Sonbaharda
- ☐ c) Gece vaktinde

3. Leylekler ne zaman sıcak ülkelere giderler?

- ☐ a) Sonbaharda
- ☐ b) İlkbaharda
- ☐ c) Kışın

4. Sesli (ünlü) harfler hangi seçenekte doğru olarak verilmiştir?

- ☐ a) k-l-m-n-o
- ☐ b) a-e-ı-i
- ☐ c) a-e-ı-i-o-ö-u-ü

5. Yoksul sözcüğünün zıt anlamlısı nedir?

- ☐ a) Fakir
- ☐ b) Zengin
- ☐ c) Yaşlı

6. Aşağıdaki sözcüklerden hangisi hecelerine yanlış ayrılmıştır?




- ☐ a) ö-nem-li
- ☐ b) bil-gis-a-yar
- ☐ c) por-ta-kal

7. Aşağıdaki cümlelerin hangisinin sonuna soru işareti konulmalıdır?

- ☐ a) Ödevini yaptın mı
- ☐ b) Dün balık tuttum
- ☐ c) Karnımı iyice doyurdum



8. Aşağıdakilerden hangisi sözlükte en sonda yer alır?

- ☐ a)  ayı
- ☐ b)  timsah
- ☐ c)  zebra

9. Aşağıdaki cümlelerden hangisinde yazım yanlışı vardır?

- ☐ a) Dayım Ankarada yaşar.
- ☐ b) Annem İstanbul'dan geldi.
- ☐ c) Bursa'da kar yağdı.

10. "Televizyon" sözcüğü kaç heceden oluşur?

- ☐ a) 3
- ☐ b) 4
- ☐ c) 5

11. Aşağıdaki sözcüklerden hangisi doğru yazılmıştır?

- ☐ a) Herkez
- ☐ b) kibrit
- ☐ c) öğretmen

12. Atatürk hakkında aşağıdaki bilgilerden hangisi yanlıştır?

- ☐ a) Annesinin adı Zübeyde'dir.
- ☐ b) Babasının adı Ali Rıza'dır.
- ☐ c) Selanik'te ölmüştür.



13. Atatürk aşağıdaki okullardan hangisine gitmemiştir?

- ☐ a) Mahalle Mektebi
- ☐ b) İstanbul Üniversitesi
- ☐ c) Şemsi Efendi İlkokulu

14. Annemizin erkek kardeşine ne deriz?

- ☐ a) Teyze
- ☐ b) Dayı
- ☐ c) Amca

15. Akşam yemeğinde aşağıdakilerden hangisini yersem sağlıklı beslenmiş olurum?

- ☐ a) çorba-salata-kola
- ☐ b) çorba-salata-ayran
- ☐ c) cips-kola-çikolata



16. Aşağıdakilerden hangisini yapan çocuk görgü kurallarına uymamıştır?

- a) Bazı yemekleri elimle yerim.
- b) Yemekte anneme yardım ederim.
- c) Yemek yerken konuşmam.

17. Aşağıdaki davranışlardan hangisi yanlıştır?

- a) Tuvaletten sonra ellerimi yıkarım.
- b) Sadece dişim ağrırsa dişimi fırçalarım.
- c) Elbiselerimi kirletmem.

18. Dengeli beslenen biri hangisini yemez?

- a)  kola
- b)  yumurta
- c)  peynir

19. 5 onluk 7 birlikten oluşan sayıdan 3 onluk 5 birlikten oluşan sayıyı çıkarırsam sonuç ne olur?

- a) 25
- b) 22
- c) 27

20. 4 deste kalemim vardı 14 tanesini kardeşime verdim, kaç kalemim kaldı?

- a) 14
- b) 24
- c) 26

21. 2-4-6-▲-10-12-◇

Yukandaki örüntüde ▲ve ◇ yerine gelecek sayıların toplamı kaçtır?

- a) 20
- b) 22
- c) 24


22.



Yukanda verilen paraların toplamı kaç liradır?

- a) 28
- b) 27
- c) 26

23. En küçük kağıt paramız aşağıdakilerden hangisidir?



24. Aşağıdaki nesnelerden hangisi simetrik değildir?



25. 76 sayısını en yakın onluğa yuvarlarsam sonuç ne olur?

- a) 70
- b) 80
- c) 75

26. Aşağıda verilenlerden hangisinin tamamı çift sayıdır?

- a) 71-13-27
- b) 42-51-39
- c) 22-64-88

27. Bir gemide 92 yolcu vardı. bunlardan 65 tanesi inerse geriye kaç yolcu kalır?

- a) 22
- b) 27
- c) 37

28. Aşağıdakilerden hangisi eldeli toplama işlemidir?

- a) 23+32
- b) 35+39
- c) 41+55

29. 35-96-48-55 Sayılarının büyükten küçüğe sıralanışı aşağıdakilerden hangisidir?

- a) 96>55>48>35
- b) 35>48>55>96
- c) 96>48>55>35

30. Aşağıdakilerden hangisi en yakın onluğa yanlış yuvarlanmıştır?

- a) 27 → 30
- b) 69 → 60
- c) 58 → 60