

# 2. SINIF 6. DENEME SINAVI



ADI SOYADI

Sınıfı: .../...

No :...

HAZIRLAYAN  
SALİH ÖZENÇ

## TÜRKÇE

1) "Annem yine her zamanki gibi mutfakta harika bir yemek yapıyor, kokusundan belli."

Aşağıdaki resimlerden hangisi yukarıdaki cümleye uygundur?



A



B



C

2) Aşağıdaki resimlerdeki varlıkların hangisi sözlükte en sondadır?



A



B



C

Semiha ile Kadem fotoğraf çekildiler.

3) Yukarıdaki cümlede aşağıdaki hangi sorunun cevabı **yoktur**?

A) Kimler B) Ne C) Nerede

4) "Akın mahalle maçında son dakikada harika bir gol atarak takımının maçı 1-0 kazanmasını sağladı. Bütün takım sevinçten havalara uçtu."

Yukarıdaki cümleye uygun olan resim hangisidir?



A



B



C

Semiha ( ) İlknur ( )un okula neden gelmediğini biliyor musunuz ( )

5) Yukarıdaki boşluklara hangi noktalama işaretleri **yazılmalıdır**?

A) (.)(')(?) B) (.)(')(?) C) (.)(')(?)



## 2. SINIF 6. DENEME SINAVI

6) Aşağıdaki cümlelerin hangisinde yazım yanlışı yapılmıştır?

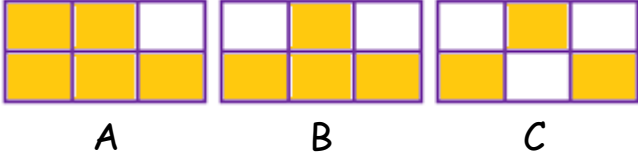
A) Kadem, Türkiye'nin başkenti Ankara'dır dedi.

B) Semiha, İlknura hediye aldı.

C) Melis, Defne ile oyun oynadı.

fular	paralar	mantar
cevizler	Yular	odunlar

7) Betül yukarıdaki kelimelerin çoğul olanları boyarsa nasıl bir şekil elde edilir?



Ahmet kahvaltıda bir bardak çay içti.

8) Yukarıdaki altı çizili kelime aşağıdaki cümlelerden hangisinde farklı anlamda kullanılmıştır?

A) Semiha çaya iki şeker attı.

B) İlknur çaydan geçerken ayakları ıslandı.

C) Kadem garsondan açık çay istedi.

Cesur	Alçak
Çürük	Güçlü
Yüksek	Korkak
	Sağlam

9) Yukarıdaki kelimeleri zıt anlamlılarıyla eşleştirdiğinde hangisi dışarıda kalır?

A) Güçlü B) Sağlam C) Çürük

10) "Onur eşi İlknur ve kızı ile havanın güzel olduğu bir hafta sonu piknik yapmaya gittiler. Havada kelebekler uçuşuyordu, ağaçlar çiçek açmıştı."

Bu parçaya uygun resim hangisi olabilir?



aldım şemsiyemi yağmur yağınca

11) Yukarıdaki karışık kelimelerin düz cümle hali hangisidir?

A) Şemsiyemi yağınca yağmur aldım.

B) Yağmur yağınca şemsiyemi aldım.

C) Yağmur yağınca aldım şemsiyemi.

### DEFNE'NİN RESMİ

Defne bu sene ikinci sınıfa gidiyordu. En sevdiği ders resim dersiydi. Bugün öğretmeni en sevdiğiniz hayvanı çizin dedi; ama Defne karar veremedi. Çünkü tavşan çizmeyi bilmiyordu. Karınca çizebiliyordu; ama karıncayı da sevmiyordu.

( 12,13,14,15. Soruları yukarıdaki parçaya göre cevaplayınız.)

12) Defne kaçınıcı sınıfa gitmektedir?

A) Birinci B) İkinci C) Üçüncü

13) Defne'nin en sevdiği ders hangisidir?

A) Resim B) Matematik C) Müzik

14) Defne'nin en sevdiği hayvan hangisidir?

A) Karınca B) Kedi C) Tavşan

15) Aşağıdaki hayvanlardan hangisine okuma parçasında bahsedilmemiştir?



A




B



C

### MATEMATİK



1) Dört arkadaş yukarıdaki kirazları paylaşacaklardır. Her birine kaç tane kiraz düşer?

A) 3

B) 4

C) 6



2) Öğretmeni Defne'den papatyaların yaprak sayılarını çarpma işlemi ile bulmasını istiyor. Defne hangi işlemi yapmalıdır?

A)  $3 \times 7$

B)  $7 \times 7$

C)  $8 \times 3$

3) Aşağıdaki hangi palyaçonun balonlarındaki sayıların toplamı daha büyüktür?

23 7 4



A)

15 11 11



B)

27 7 5



C)

## 2. SINIF 6. DENEME SINAVI



4) Kadem yukarıdaki oyuncakları alıp 50 Lira verdiğine göre helikopter kaç liradır?

- A) 22 B) 28 C) 32

$$\begin{array}{c} \text{Orange} + \text{Orange} = 16 \\ \text{Strawberry} + \text{Orange} = 15 \end{array}$$


5) Yukarıdaki verilene göre

$$\text{Strawberry} \times \text{Strawberry} = \text{toplamı kaç eder?}$$

- A) 42 B) 49 C) 36

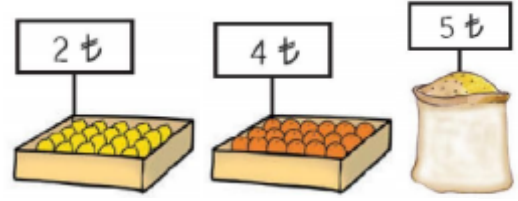
Ben 43 kiloyum.  
Ya sen

Ben de senden 15 kilo daha azım.



6) Yukarıdaki bilgilere göre kedi ile köpeğin kiloları toplamı kaç eder?

- A) 61 B) 58 C) 71



İlknur  
3kg limon  
4kg domates  
1kg buğday


7) İlknur alışveriş listesindeki ürünlere kaç lira öder?

- A) 11TL B) 27TL C) 25TL

KİTAPLAR	SAYISI
HİKAYE	HHH HHH
MASAL	HHH HHHI
ROMAN	HHH II

8) Yukarıdaki grafiğe göre aşağıdaki-lerden hangisi doğrudur?


- A) En çok roman kitabı vardır.  
B) Hikaye ve roman kitabı toplamı 17 tanedir.  
C) Masal kitabı sayısı 9 tanedir.



9) Yukarıdaki iki kalemin uzunlukları toplamı kaç eder?

- A) 19 B) 12 C) 16

## 2. SINIF 6. DENEME SINAVI




10) Yukarıdaki geometrik şekilde hangi hayvanlar şeklin yüzünde bulunmak tadır?

- A) Uğur böceği - tırtıl  
B) Kuş - salyangoz  
C) Uğur böceği - salyangoz

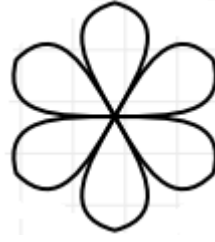
11) Aşağıdaki çocuklardan hangisinin söylediği kesir yanlıştır?

- A)  $\frac{1}{3}$   
B)  $\frac{3}{6}$   
C)  $\frac{4}{7}$

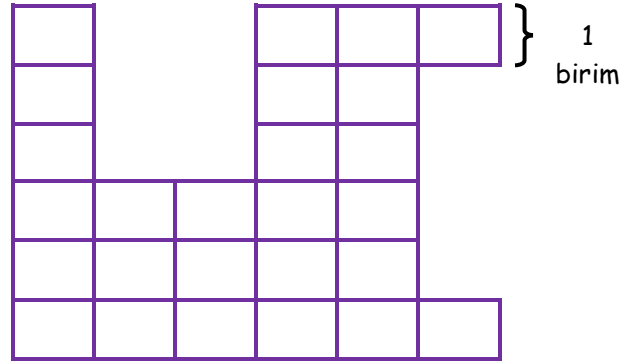


12) Yukarıdaki kiviler yarıma bölünürse kaç yarım kivi elde edilir?

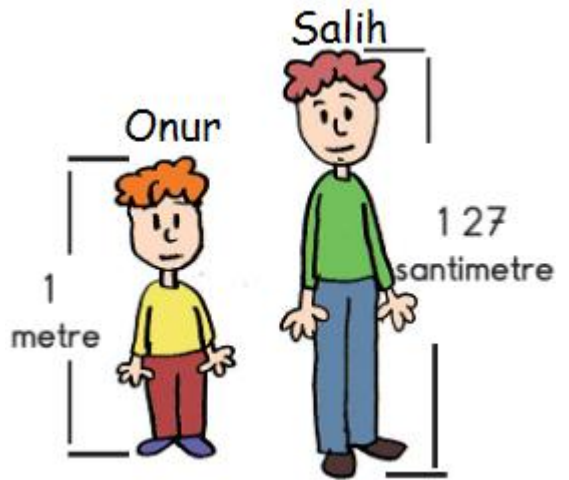
- A) 6 B) 8 C) 12



13) 30 elmanın  $\frac{2}{6}$  sini satarsak kaç elmamız kalır?  
A) 10 B) 20 C) 8



14) Yukarıda her bir aralık 1 birim ise şeklin çevresi kaç birimdir?  
A) 22 B) 32 C) 26



15) Yukarıdaki verilene göre Salih Onur'dan kaç santimetre uzundur?  
A) 1 B) 126 C) 27



### HAYAT BİLGİSİ

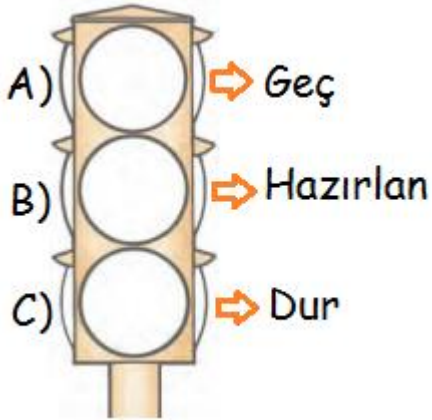
1) Aşağıdakilerden hangisi milli bir bayramımızdır?

- A) Kurban bayramı.
- B) Cumhuriyet bayramı.
- C) Ramazan bayramı.

2) Aşağıdakilerden hangisi bağımsızlığımızın sembollerinden biri değildir?

- A) İstiklal marşımız
- B) Bayrağımız
- C) Onuncu yıl marşı

3) Aşağıdaki trafik ışıklarından hangisinin anlamı **doğru** verilmiştir?



4) "Ahmet evden işe gitmek için çık tığında arabasının camının kırık olduğunu ve lastiklerinin patlatıldığını gördü." Bu durumda Ahmet hangi numarayı aramalıdır?



A

B

C

5) Aşağıdaki resimlerden hangisi dini bir bayram gününe ait olabilir?



A)



B)



C)

6) "Salih dolapta çok güzel görünen elmanın tadına bakmak istedi. Ancak kötü koktuğu için vazgeçti."

Buna göre Salih hangi duyu organını kullanmamıştır?



A

B

C

## 2. SINIF 6. DENEME SINAVI



7) Melis yukarıdaki gibi seyahat etmektedir. Melis ne yaparsa **doğru** bir davranış örneği göstermiş olur?

- A) Melis ön koltuğa oturmalı.
- B) Oturup arkasına yaslanmalı.
- C) Arka koltuğa oturup kemerini takmalı.



8) Yukarıdaki Türkiye haritasında numaralandırılmış yerlerin adı hangi seçenekte **doğru** olarak verilmiştir?

	①	②	③
A)	Karadeniz	Akdeniz	Ege Denizi
B)	Ege Denizi	Karadeniz	Akdeniz
C)	Karadeniz	Ege Denizi	Akdeniz

9) Aşağıdakilerden hangisi bizim bayrağımızdır?



A

B

C


- 1) Düğünden önce kına gecesi yapılır.
- 2) Kına gecesi geline kına yakılır.
- 3) Kına gecesi gelin bindallı giyer.

10) Geleneksel düğünlerimiz ile ilgili yukarıdaki bilgilerden hangileri **doğrudur**?

- A) 1-2
- B) 2-3
- C) 1-2-3

### İNGİLİZCE

1) Aşağıdaki görsellerden hangisinin ismi **yanlış** işaretlenmiştir?



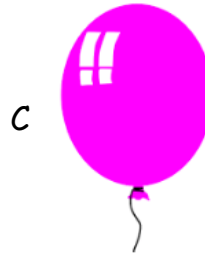
A

This is a **lemon** / banana




B

This is a television / **radio**



C

This is a balloon / **guitar**



2) Yukarıda kaç tane kalem vardır?

**nine** **seven** **ten**




A

B




C



3) Aşağıdaki organlardan hangisinin ismi **yanlış** verilmiştir?

- A)  your nose.
- B)  to your head.
- C)  your hand.

4) Aşağıdaki durumların hangisi **yanlış** ifade edilmiştir?

- A)  dance
- B)  sing
- C)  slide



5) Yukarıdaki durum için aşağıdaki cümlelerden hangisini söyleyebiliriz?

- A) Turn left.
- B) Stand up.
- C) Open the door.

## 2. SINIF 6. DENEME SINAVI

TÜRKÇE			
1	(A)	(B)	(C)
2	(A)	(B)	(C)
3	(A)	(B)	(C)
4	(A)	(B)	(C)
5	(A)	(B)	(C)
6	(A)	(B)	(C)
7	(A)	(B)	(C)
8	(A)	(B)	(C)
9	(A)	(B)	(C)
10	(A)	(B)	(C)
11	(A)	(B)	(C)
12	(A)	(B)	(C)
13	(A)	(B)	(C)
14	(A)	(B)	(C)
15	(A)	(B)	(C)
16	(A)	(B)	(C)
17	(A)	(B)	(C)
18	(A)	(B)	(C)
19	(A)	(B)	(C)
20	(A)	(B)	(C)

MATEMATİK			
1	A	B	C
2	A	B	C
3	A	B	C
4	A	B	C
5	A	B	C
6	A	B	C
7	A	B	C
8	A	B	C
9	A	B	C
10	A	B	C
11	A	B	C
12	A	B	C
13	A	B	C
14	A	B	C
15	A	B	C

HAYAT BİLGİSİ			
1	(A)	(B)	(C)
2	(A)	(B)	(C)
3	(A)	(B)	(C)
4	(A)	(B)	(C)
5	(A)	(B)	(C)
6	(A)	(B)	(C)
7	(A)	(B)	(C)
8	(A)	(B)	(C)
9	(A)	(B)	(C)
10	(A)	(B)	(C)
İNGİLİZCE			
1	(A)	(B)	(C)
2	(A)	(B)	(C)
3	(A)	(B)	(C)
4	(A)	(B)	(C)
5	(A)	(B)	(C)

ADI :

**SOYADI :**

**SINIFI :**

NO :

**TÜRKÇE**

**Doğru Sayısı : .....**

**Yanlış Sayısı :** .....

# MATEMATİK

**Doğru Sayısı :** .....  
.....

**Yanlış Sayısı :** .....

## HAYAT BİLGİSİ

**Doğru Sayısı :** ●●●●●●●●

**Yanlış Sayısı :** .....

**Veli İmzası:**

**Öğretmen İmzası:**