

TÜRKÇE DENEME SINAVI-

Bir yıl dört mevsim var. Bunlar ilkbahar, yaz, sonbahar ve kışdır. Her mevsimin kendine özgü özellikleri vardır. Benim en sevdiğim mevsim ilkbahardır. Bu mevsimde karlar erir, doğa yeniden canlanır. Kırıldaki otlar yeşerir, börtü böcek gezinir. Ağaçlar açtıkları bembeyaz çiçekler ile bir geline benzer. Her tarafta kuşların neşe ile söyledikleri şarkıları duyarız. Çocuklar, uçurtmaları gökyüzüne salarak oyunlar oynarlar. Kısacası ilkbaharda herkes mutlu olacak bir yol bulur. Bundan dolayı ben en çok ilkbahar mevsimini severim.



İlk üç soruyu metne göre cevap verelim.

1 Metne göre ilkbaharda ağaçlar neye benzer?

- A** Kuşlara **B** Böceğe **C** Geline

2 Metne göre çocuklar ilkbaharda hangi oyunu oynar?

- A** Uçurtma **B** Körebe **C** Saklambaç

3 Aşağıdakilerden hangisi ilkbaharda olmaz?

- A** Yapraklar sararak düşer.
B Kırıldaki otlar yeşerir.
C Ağaçlar çiçek açar.




4 Aşağıdakilerden hangisi bir hayal üründür?

- A** Keloğlan'ın balık avlaması.
B Keloğlan'ın çok zengin olması.
C Sihirli tistan altın akması.



Öğretmen öğrencilere ödev verdi. ●●● 1
Efe ödevini öğretmenine teslim etti. ●●● 2
Efe internette araştırma yaptı. ●●● 3

5 Yukarıdaki olayları, oluş sırasına göre karşısındaki numaralarla eşleştirdiğimizde hangi şekil oluşur?



6 Görsele göre aşağıdakilerden hangisini söylemek doğru olur?

- A** Ayşe, kişisel temizliğine dikkat eder.
B Ayşe, derslerine çok çalışır.
C Ayşe, beslenmesine çok dikkat eder.



Olay

Kişiler

Nerede?

Kim?

Zaman

Yer

7 Yukarıdakilerden kaç tanesi hikayenin temel unsurlarındandır?

- A** Altı **B** Beş **C** Dört

8 Aşağıdaki resimlerdekinden hangisi eşsesli bir kelime değildir?

at
A



maymun
B



kaz
C



9 "Zeynep, kırıldaki mis gibi kokan çiçeklere ve kuşların civıltısına hayran olmuştu." Aşağıdakilerden hangisi metinde anlatılan duyu organları ile ilgili değildir?

kulak
A



burun
B



dil
C



10 Aşağıdaki cümlelerde altı çizili isimlerden hangisi tekil addır?

- A** Öğretmenimiz iyi futbol oynar.
B Bu çocuklar çok akıllı.
C Son ders çantalarımızı topladık.



11 Aşağıdaki cümlelerde altı çizili sözcüklerin hangisi özel addır?

- A** Bu çocuk matematikte çok iyi
B Yaz tatilinde Mersin'e gideceğiz.
C Kitap okumak hoşuma gidiyor.



12 Aşağıdakilerden hangisi çoğul olmadığı halde çokluk ifade eden bir topluluk ismi vardır?

- A** Dolar **B** Ordu **C** Kalemlik

TÜRKÇE DENEME SINAVI

13 Aşağıdakilerden hangisi sözlükte daha önce yer alır?

A zürafa



B geyik



C deve



14 Aşağıdaki cümlelerin hangisinde karşıt (zıt) anlamlı sözcükler bir arada kullanılmıştır?

- A Sahanın sonuna kadar koştu.
- B Bu konuyla uzaktan yakından alakam yok.
- C Onların evi çok uzakta.

15 Aşağıdaki cümlelerin hangisinde "fayda" kelimesinin eş anlamlısı vardır?

- A Bu yemek bana fazla.
- B Annem iyi kek yapar.
- C Bu bilgiler çok yararlı.



16 Aşağıdaki cümlelerin hangisinde bir heceli sözcükler vardır?

- A Büyümemiz için düzenli uyumalıyız.
- B Dengeli beslenmek önemlidir.
- C Üst geçit güvenli geçiş yoludur.

çi-

ke-

lek-

men-

17 Yukarıda verilen hecelerle aşağıdaki kelimelerden hangisini oluşturamayız?

- A çimen
- B çilek
- C çiçek

18 "Yaşasın, sınavdan yüz aldım" cümlesinin sonuna hangi noktalama işareti konulmalıdır?

- A ?
- B !
- C 😊

19 Aşağıdakilerden hangisi cümle değildir?

- A Ali okumasını geliştirdi
- B O geldi
- C Sana bu kitabı uzun uzun anlatmak



20 1. Şiirler dizelerden oluşur.

2. Şiirde dizeler alt alta yazılır.

3. Dizeler nokta ile biter.

Yukarıdaki bilgilerden hangileri doğrudur?

A 1-2

B 1-3

C 2-3

21 Hayat Bilgisi kitabımı unutmuşum. Yukarıdaki cümlede noktalı yere yazılacak kelime "Nerede?" sorusunun cevabıdır. Buna göre noktalı yere aşağıdakilerden hangisi yazılmalıdır?

A havuzda

B sınıfta

C arabayı

22 Aşağıdaki sözcük çiftlerinden hangisi eş anlamlı sözcüklerdir?

A az-çok

B ev-konut

C aç-tok

23 Aşağıdaki sözcüklerden hangisinin ilk harfi her zaman büyük yazılır?

A Gazete

B Öğretmen

C Ömer

24 Aşağıdaki yazılan özel isim ve özel isme gelen eklerden hangisi doğru yazılmamıştır?

A Türkçe

B Ayşe'ler

C Fatmagil

25 Aşağıdakilerden hangisi ismin yerine kullanılan sözcüktür?

A Ben

B Nerede?

C Nasıl?

Her Soru 4 Puandır. BAŞARILAR DİLERİM...

Adı-Soyadı: _____

☐ Çok İyi

☐ İyi

☐ Geliştirilmeli

1	2	3	4	5	6	7	8	9	10
11	12	13	14	15	16	17	18	19	20
21	22	23	24	25	Puan			Veli İmza	

MATEMATİK DENEME SINAVI

1 $18 + \text{10} = 52$ işleminde 10 yerine hangi sayı gelmelidir?

- A 24 B 34 C 72

$$26 + 43 =$$

2 Yukarıdaki işlemin tahmini sonucu kaçtır?

- A 70 B 80 C 60

3 “
A - 10 = 10
15 - B = 10” ise A-B kaçtır?

- A 5 B 10 C 15

Bir çıkarma işleminde eksilen sayı 32 fark ise 17'dir.

4 Verilenlere göre işlemde çıkan kaçtır?

- A 16 B 15 C 14

5 64 elma toplayan Ali, 5 tanesini yedi. 32 tanesini de komşuya verdi. Geriye kaç elması kaldı?

- A 32 B 27 C 37

6 İzzettin, 25 TL'ye çanta, 15 TL 'ye kitap aldı. 70 parası olan İzzettin'in kaç Türk lirası kaldı?

- A 40 B 30 C 20

7 4 onluk ve 6 birlikten oluşan sayıya, 7 birlik ve 3 onluktan oluşan sayıyı eklersem hangi sayıyı bulurum?

- A 83 B 113 C 119

8 3 düzine boya kalemimin 2 destesini kardeşime veririm kaç boya kalemim kalır?

- A 36 B 20 C 16

(23) (19) (75) (46)

9 Aşağıdakilerden hangisi yukarıdaki sayıların küçükten büyüğe doğru sıralamasını vermiştir?

- A $23 < 19 < 46 < 75$
B $19 < 45 < 23 < 75$
C $19 < 23 < 45 < 75$

$$\begin{array}{l} 35 \times 0 = 35 \\ 23 \times 1 = 23 \\ 42 \times 0 = 0 \\ 51 \times 1 = 1 \end{array}$$

10 Yukarıdaki işlemlerden kaç tanesinin sonucu doğrudur?


- A 2 B 3 C 4

ilkokuletkinlik



11 10 kuşun ayakları ile 6 koyunun ayakları toplamı kaçtır?

- A 24 B 32 C 16



12 Aşağıdakilerden hangisi yukarıdaki şeklin matematiksel ifadesidir?

- A $5 \times 3 = 15$ B $3 \times 5 = 15$ C $5 \times 5 = 25$

$$5 \times \text{10} = 30$$

$$\text{10} \times 4 = 16$$

ise $\text{10} \times \text{10} = ?$ işleminin sonucu kaçtır?

- A 24 B 20 C 12

MATEMATİK DENEME SINAVI

14 9'un 5 katı, 6 onluk ve 5 birlikten oluşan sayıdan kaç eksiktir?

- A 15 B 20 C 25

15 $7 \times 5 = 7 \times \text{■}$ yandaki işleme göre $\text{■} \times 3 = 3 \times 6$ $\text{■} \times \text{■} = ?$

- A 18 B 35 C 30



16 Yiğit, oyuncaklarını ikişer ikişer gruplandırmıştır. Yiğit'in kaç grup oyuncak arabası olur?

- A 2 B 6 C 8

17 Bölme işleminde sembollerle belirtilen yerlere hangi terimler yazılmalıdır?

- A Bölüm Bölün Bölünen B Bölünen Bölün Bölüm C Bölün Bölüm Bölünen

F $30 \div 5$ R $12 \div 2$ K $21 \div 3$

18 Harflerle verilen işlemlerden hangisinin sonucu diğerlerinden daha büyüktür?

- A F B R C K

19 3 düzine bilyenin 6 tanesini kendime ayırdıktan sonra geri kalanları 5 arkadaşıma paylaştırdım her arkadaşıma kaç bilye düşer?

- A 6 B 7 C 5



20 Yukarıdaki eşitlikteki sembolü kaç kilogramdır?

- A 5 B 6 C 8



Aşağıdaki dört soruyu yandaki tabloya göre çözelim.

21 50 TL param ile kaç tane oyuncak ayı alabilirim?

- A 4 B 5 C 6

22 2 araba ile 1 top alan Ali kaç TL ödeme yapması gerekir?

- A 42 ₺ B 54 ₺ C 66 ₺

23 35 ₺ ile kaç tane oyuncak lego alabilirim?

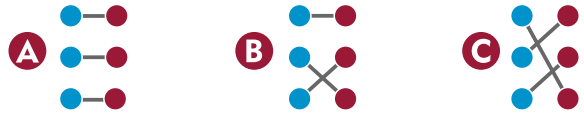
- A 7 B 9 C 10

24 Her üründen birer tane alan İrem kaç ₺ ödemesi gerekiyor?

- A 37 ₺ B 52 ₺ C 42 ₺

$32 \div 4$		6
$18 \div 3$		9
$45 \div 5$		8

25 Yukarıdaki bölme işlemleri ve sonuçları eşleştirildiğinde hangi sonuç elde edilir?



BAŞARILAR DİLERİM...

Her soru 4 puandır.

Cevaplarınızı kontrol ediniz.

Adı-Soyadı: _____

☐ Çok İyi ☐ İyi ☐ Geliştirilmeli

1	2	3	4	5	6	7	8	9	10
11	12	13	14	15	16	17	18	19	20
21	22	23	24	25	Puan		Veli İmza		

HAYAT BİLGİSİ DENEME

- 1 Aşağıdakilerden hangisi güvenli oyun oynayacağımız alan değildir?

- A Okul bahçesi
- B Oyun parkı
- C Evimizin sokağı



Oyun oynarken güvenli oyun alanlarını tercih etmeliyiz. Özellikle ve gibi alanlarda oynamalıyız.

- 2 Yukarıdaki açıklamada boş bırakılan yerlere sırasıyla hangileri yazılmalıdır?

- A park – yol
- B cadde – bahçe
- C park – bahçe



- 3 Merhaba ben Ayça. Bugün tanımadığım bir kişi bana "Ben babanın arkadaşım, seni eve bırakacağım." deyince ona gerekli cevabı verdim. Ayça, bu kişiye hangi cevabı vermiştir?

- A Sizi tanımıyorum, olmaz.
- B Teşekkür ederim, geliyorum.
- C Tamam, hemen gidebiliriz.

- 4 Bisiklet, paten, kaykay kullanırken güvenliğimiz için hangilerini kullanmalıyız?

- A Emniyet kemeri
- B Kask, dizlik
- C Spor ayakkabı, saat



- 5 Aşağıdaki teknolojik araçlardan hangisini aile büyüklerinde birisi olmadan kullanmak çok büyük zararlara yol açabilir?



- 6 Ali 8 yaşında bir çocuktur. Buna göre aşağıdaki davranışların hangisi Ali için tehlikelidir?

- A Gömleğini ütüleyebilir.
- B Oyuncaklarını toplayabilir.
- C Televizyonu kumandadan kapatabilir.



- 7 Aşağıda verilen bilgilerden hangisi yanlıştır?

- A Hastalandığımızda toplum sağlığı merkezlerine ya da hastanelere gideriz.
- B Hemşireler bizi muayene ederek hastalığımızın nedenini anlamaya çalışırlar.
- C Dişlerimizle ilgili hastalıklarda ağız ve diş sağlığı merkezlerine başvururuz.



- 8 Aşağıdakilerden hangisi doğru bir davranıştır?

- A Okul servisinde camlardan sarmak
- B Kaldırımlarda itişip kakışmak
- C Taşıtlarda emniyet kemerini takmak



ilkokuletkinlik



- 9 Trafik ışıklarında hangi renkler vardır?

- A mavi – sarı – kırmızı
- B sarı – kırmızı – gri
- C kırmızı – sarı – yeşil



- 10 Doktorun ilaçları yazdığı kâğıt listeye ne denir?

- A plan
- B reçete
- C liste



- 11 Alo 110 hangi acil durumlarda aranmalıdır?

- A Bir yangın gördüğümüzde
- B Bir kaza olduğunda
- C Hırsızlık olaylarında



HAYAT BİLGİSİ DENEME

12 Yolculuk sırasında aşağıdakilerden hangisi yapılmamalıdır?

- A) Sürücü ile sohbet etmek
- B) Emniyet kemeri takmak
- C) Araç içerisinde alçak sesle konuşmak



13 Aşağıdakilerden hangisi atalarımızdan bizlere miras kalmamıştır?

- A) Folklorumuz
- B) Türkülerimiz
- C) Arabalar



14 Yandaki aracı hangi durumlarda görebiliriz?

- A) Hırsızlık olayı
- B) Orman yangını
- C) Kalp krizi



15 Sınıfla ilgili bir karar alınacağı zaman hangisini yapmamalıyız?

- A) Herkesin fikrini hoşgörüyle dinlemeliyiz.
- B) Hiç görüş bildirmemeliyiz.
- C) Farklı fikrimiz varsa söz alarak söylemeliyiz.

16 Aşağıdakilerden hangisini yaparsak paramızı tasarruflu kullanmış oluruz?

- A) Öncelikle ihtiyaçlarımızı almak.
- B) Pahalı eşya almak.
- C) Canımızın istediğini almak.



17 Ülkemiz hangi iki kıta arasında yer alır?

- A) Asya – Avrupa
- B) Afrika – Amerika
- C) Avustralya – Amerika



18 Aşağıdaki ülkelerden hangisi komşumuz değildir?

- A) İtalya
- B) Irak
- C) İran



19 Aşağıdaki yiyeceklerden hangisi bizim kültürümüze ait bir yemektir?



20 Aşağıdaki durumların hangisinde mutlaka ailemize haber vermemiz gerekir?

- A) Sınavdan yüz aldığımızda
- B) Sıra arkadaşımız ödevini yapmadığında
- C) Tanımadığımız bir kişi bizden istekte bulunduğunda



ilkokuletkinlik



Adı-Soyadı:

Puan:

Cevap Formu

1	a	b	c	
2	a	b	c	
3	a	b	c	
4	a	b	c	
5	a	b	c	
6	a	b	c	
7	a	b	c	
8	a	b	c	
9	a	b	c	
10	a	b	c	
11	a	b	c	
12	a	b	c	
13	a	b	c	
14	a	b	c	
15	a	b	c	
16	a	b	c	
17	a	b	c	
18	a	b	c	
19	a	b	c	
20	a	b	c	

Değerlendirme

<input type="checkbox"/>	Mükemmel 95-100
<input type="checkbox"/>	Çok İyi 85-90
<input type="checkbox"/>	İyi 70-75-80
<input type="checkbox"/>	Orta 55-60-65
<input type="checkbox"/>	Geliştirilmeli 0-50

Öğretmen İmzası:

Veli İmzası: