

Aşağıdaki metni dikkatle okuyunuz. İlk üç soru bu metin ile ilgilidir.

Ayça çiçekleri çok severdi. Öğlen yemeğinden sonra annesi onu balkona çağırırdı. Balkonda saksılar vardı. İçlerinde de renk renk çiçekler. Pembe küçük bir saksıyı eline aldı. İçinde karanfiller vardı. Ayça karanfilleri çok severdi. Annesi, bu karanfilleri sana aldım dedi.

1. Ayça'yı annesi ne zaman çağırırdı?

- ☐ a Okuldan gelince.
- ☐ b Öğle yemeğinden sonra.
- ☐ c Akşam yemeğinden sonra.

2. Ayça'nın saksısı hangi renktir?

- ☐ a Mavi
- ☐ b Kırmızı
- ☐ c Pembe

3. Annesi Ayça'ya hangi çiçeği almıştır?

- ☐ a Karanfil
- ☐ b Gül
- ☐ c Papatya

4. Aşağıdaki cümlelerden hangisi doğru yazılmıştır?

- ☐ a Ayşeyi Ankara'da gördüm.
- ☐ b Ayşe'yi Ankara'da gördüm.
- ☐ c Ayşe'yi Ankara'da gördüm?

5.



Yukarıdaki cümlede hangi sorunun cevabı yoktur?

- ☐ a Kim
- ☐ b Ne zaman
- ☐ c Ne kadar

6. Aşağıdaki cümlelerden hangisinde sebep sonuç ilişkisi yoktur?

- ☐ a Kar yağınca çok üşüdüm.
- ☐ b Karnım acıkınca kendime kek yaptım.
- ☐ c Bütün gece dersime çalıştım.

7. Aşağıdaki cümlelerin hangisinin sonuna soru işareti konulmalıdır?



- ☐ a Ödevini yaptın mı
- ☐ b Dün balık tuttum
- ☐ c Karnımı iyice doyurdum




8. Aşağıdaki cümlelerin hangisinde hayal ürünü bir ifade yoktur?

- ☐ a Deniz kızının pulları ne güzeldi.
- ☐ b Tek gözlü dev Keloğlan'ı kovaladı.
- ☐ c Amcam beyaz atına bindi.

9. Aşağıdaki kurumlardan hangisi sağlık alanında hizmet vermez?

- ☐ a Postane
- ☐ b Hastane
- ☐ c Eczane

10. Aşağıda acil durumlarda aranması gereken numaralardan hangisi yanlış yazılmıştır?

- ☐ a  Ambulans 112
- ☐ b  Polis 155
- ☐ c  İtfaiye 156

11. Bisiklet , paten, kaykay kullanırken güvenliğimiz için hangilerini kullanmalıyız.



- ☐ a Emniyet kemeri
- ☐ b Kask, dizlik
- ☐ c Spor ayakkabı, saat




12. Serviste yolculuk yaparken ařağıdakilerden hangisini yapmam yanlış olur?

- a) Servis řoförünün dikkatini dağıtmam.
- b) Emniyet kemerimi takarım.
- c) Bařımı camdan çıkarırım.

13. Ařağıdakilerden hangisi evimizde kullandığımız teknolojik araç değıldir?

- a)  Telefon
- b)  Kepçe
- c)  Televizyon

14. Dengeli beslenen biri hangisini yemez?

- a)  kola
- b)  yumurta
- c)  peynir

15. Yandaki trafik işaretinin anlamı nedir?



- a) Bisiklet girebilir.
- b) Bisiklet giremez.
- c) Otomobil yolu

16. Trafik ışıklarıyla ilgili açağıdaki bilgilerden hangisi yanlıřtır?

- a) kırmızı=geç
- b) sarı=hazırlan
- c) yeřil=geç

17. Ařağıdaki kaplardan hangisi daha çok sıvı alır?

- a) Bardak
- b) Kavanoz
- c) Bidon

18. Ařağıdaki işlemlerden hangisi yanlıřtır?

- a) $2 \times 8 = 18$
- b) $3 \times 4 = 12$
- c) $5 \times 0 = 0$

19. 12 tane tavuğun kaç ayağı olur?

- a) 12
- b) 24
- c) 36

20. 76 sayısını en yakın onluğa yuvarlarsam sonuç ne olur?

- a) 70
- b) 80
- c) 75

21. Ařağıdakilerden hangisinin tamamı çift sayıdır?

- a) 71-13-27
- b) 42-51-39
- c) 22-64-88

22. Bir gemide 92 yolcu vardı. bunlardan 65 tanesi inerse geriye kaç yolcu kalır?

- a) 22
- b) 27
- c) 37

23. Ařağıdakilerden hangisi eldeli toplama işlemidir?

- a) $23 + 32$
- b) $35 + 39$
- c) $41 + 55$

24. 35-96-48-55 Sayılarının büyükten küçüğe sıralanışı ařağıdakilerden hangisidir?

- a) $96 > 55 > 48 > 35$
- b) $35 > 48 > 55 > 96$
- c) $96 > 48 > 55 > 35$

25. Resimdeki karpuzun kütlesi 2 kilogramdır. Ben bu karpuz ile aynı kütlerde 7 karpuz alırsam kaç kilo eder?

- a) 7
- b) 14
- c) 18

