

2017-2018

YARIYIL TATİL ÖDEVİ

ADI SOYADI:.....

1/..... SINIFI

Adı:.....
Soyadı:.....

1. SINIF TÜRKÇE
"yarıyıl tatil ödevi"

ETKİNLİK
-1-

Aşağıdaki soruların cevaplarını işaretleyiniz.

1) Özlem bu sabah kahvaltıda hangisini yemiştir?



A




B



C

2) Hangisi okul çantasında bulunmaz?



A



B



C

3) Pazartesten sonra hangi gün gelir?

A) Pazar

B) Salı

C) Çarşamba

4) Hangi resim kış mevsimine aittir?



A



B



C

5) Aşağıdakilerden hangisi şapkadır?



A



B



C

6) Hangisinin içine su koyarak içeriz?



A



B



C







Adı:.....
Soyadı:.....

1. SINIF TÜRKÇE
"yarıyıl tatil ödevi"



ETKİNLİK
-1-

Aşağıdaki hayvanların isimlerini altına yazınız.



Adı:.....
Soyadı:.....

1. SINIF TÜRKÇE
"yarıyıl tatil ödevi"



ETKİNLİK
-1-

Aşağıdaki talimatlara göre resimleri boyayınız. Yönleri kendinize göre düşünün.




Yarasayı siyah renge boyayınız.

Yarasanın solundaki hayvanı pembe renk ile boyayınız.

Pembe renkli hayvanın önündeki hayvanı yeşile boyayınız.

Baştan dördüncü hayvanı kırmızıya boyayınız.

En sağdaki hayvanı sarı siyah renklere boyayınız.




Baştan ikinci sıradaki hayvanı pembeye boyayınız.

Baykuşun sağındaki hayvanı kırmızıya boyayınız.

Baykuşu mavi renge boyayınız.

Balığın solundaki hayvanı sarıya boyayınız.

Pembe renkli hayvanın arkasındaki hayvanı yeşile boyayınız.



Ördeği sarıya boyayınız.

Üçüncü sıradaki hayvanı pembeye boyayınız.

Kurbağanın solundaki hayvanı kırmızıya boyayınız.

Beşinci sıradaki hayvanı yeşile boyayınız.

Ördeğin sağındaki hayvanı maviye boyayınız.

Adı:.....
Soyadı:.....

1. SINIF TÜRKÇE
"yarıyıl tatil ödevi"




ETKİNLİK
-1-

Aşağıdaki meyve isimlerini yazınız.

























Adı:.....
Soyadı:.....

1. SINIF TÜRKÇE
"yarıyıl tatil ödevi"



ETKİNLİK
-1-

Aşağıdaki soruları resimlere bakarak cevaplayınız.



Kardan adamın boynunda takılı olan şeyin adı nedir?

Sinirli amcanın elindeki eşyanın adı nedir?

Yaşlı teyze hangi hayvanı gezdiriyor?

Kardan adamın burnu hangi meyveden yapılmış?

Çocuk hangi oyuncakını sürüyor?

Yaşlı teyzenin boynunda ne takılı?

Çocuğun oyuncakının içinde ne var?

Yaşlı teyzenin elindeki eşyanın adı nedir?

Kardan adamın başında takılı olan eşyanın adı nedir?

Resimdeki kişilerden hangisi gözlük takıyor?

Yaşlı amca sinirli mi sakin mi?

Çocuk şort mu giymiş pantolon mu?

Kardan adamın düğmeleri neden yapışmış olabilir?

Adı:.....
Soyadı:.....

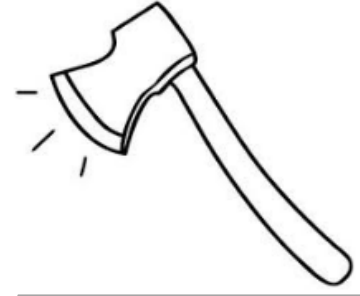
1. SINIF TÜRKÇE
"yarıyıl tatil ödevi"

ETKİNLİK
-1-

Aşağıdaki eşyaların isimlerini yazınız.



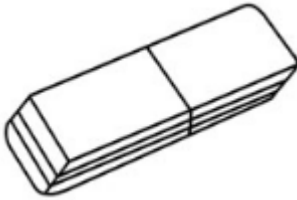




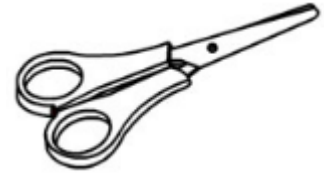




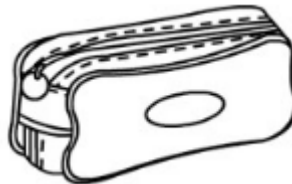


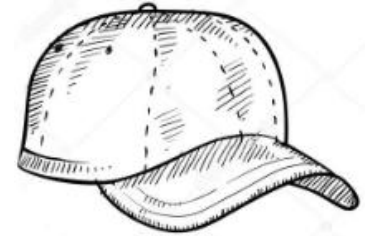












Adı:.....
Soyadı:.....

1. SINIF TÜRKÇE
"yarıyıl tatil ödevi"

ETKİNLİK
-1-

Boşluklara uygun cevapları yazınız.

Annem sabah kızartması yaptı.



Ahmet ile yazı yazdı.



Babamın ceketininsi koptu.



Ali ağaçtan topladı.



Hasan'a doktor yaptı.



Ayşe kar yağınca ile kaydı.



Melis üşüyünce eline taktı.



Akif'in oyuncaksının tekeri çıktı.



Salih koluna yeni bir taktı.



Özge bu sabah suyu içti.



Yavuz yazın..... yemeyi çok seviyor.



Adı:.....
Soyadı:.....




1. SINIF TÜRKÇE
"yarıyıl tatil ödevi"



ETKİNLİK
-1-

Talimatlara göre resimleri boyayınız.

Koyunu kahverengiye boyayınız.
Zürafayı sarıya boyayınız.
Maymunu yeşile boyayınız.
Aslanı kırmızıya boyayınız.
Ördeği turuncuya boyayınız.
Dinozoru pembeye boyayınız.
Kediyi maviye boyayınız.
Fareyi mora boyayınız.
Yılanı maviye boyayınız.
Fili griye boyayınız.
Kaplani turuncuya boyayınız.



Adı:.....
Soyadı:.....

1. SINIF TÜRKÇE
"tatil ödevi okuduğunu anlama"



ETKİNLİK
-1-

ÇİFTLİKTE HAYAT

Çilli horoz her sabah Güneş doğmadan öterdi. Çiftlikteki tüm hayvanlar horozun sesiyle uyanırdı. Sadece tembel ördek Vakvak uyanmazdı. Vakvak, sağır olduğu için horozun sesini duyamıyordu. Onun için geç uyanıyordu. Vakvak'ın sağır olduğunu doktor Gulugulu hindi söylemişti. Gulugulu hindi yanında sürekli kitap taşırdı. Gululu hindi çok bilgiliydi.

1) Çilli horoz ne zaman uyanırmış?

.....

2) Çiftlikteki tüm hayvanlar kimin sesi ile uyanırmış?

.....

3) Hangi hayvan uyanamazmış?

.....

4) Vakvak neden uyanamazmış?

.....

5) Hangi hayvan doktormuş?

.....

6) Doktor Gulugulu yanında sürekli ne taşırmış?

.....

7) Gulugulu hindi nasıl birisiymiş?

.....

8) Okuma parçasındaki horozun ismi neymiş?

.....

KEDİ

Nasrettin Hoca bir gün yolun kenarında kedisini yıkıyormuş. Yoldan geçen arkadaşı Hoca'ya: -"Hocam kediyi yıkama ölür." demiş. Hoca aldırış etmemiş ve yıkamış. Arkadaşı dönüşte Hoca'yı tekrar yolun kenarında görmüş. Kedi ölmüştü.

Adam:

- "Hocam ben size kediyi yıkamayın ölür demedim mi ?" demiş.

Hoca:

- "Ben kediyi yıkarken ölmedi ki sıkarken öldü"

1) Hoca yol kenarında ne yıkıyormuş?

.....

2) Arkadaşı Hoca'ya ne demiş?

.....

3) Kediye ne olmuş?

.....

4) Kedi nasıl ölmüş?

.....

Adı:.....
Soyadı:.....

1. SINIF TÜRKÇE
"tatil ödevi okuduğunu anlama"



ETKİNLİK
-1-

HAYVANLAR ORMANI

Zürafa, fil, aslan ve maymunun yaşadığı çok güzel bir orman varmış. Bu güzel ormanın adı Hayvanlar ormanıymış.

Havanın çok sıcak olduğu bir yaz mevsimi; maymun ormanda gezerken önüne bakmadığı için derin bir kuyuya düşmüş. Kuyudan kurtulmak için yardıma ihtiyacı varmış. Ormanların en uzun olan zürafa başını kuyunun içine sokup maymunu kuyudan çıkarmış. Maymun hayatını kurtaran zürafaya çok teşekkür etmiş.

Zürafa, yardım sever olmasaymış maymuncuk kuyudan çıkmayı tek başına başaramazmış. Yardımseverliğin ne kadar önemli olduğunu daha iyi anlamış.

- 1) Hikayedeki güzel ormanın adı neymiş?
.....
- 2) Hikaye hangi mevsimde geçmiş?
.....
- 3) Kuyuya hangi hayvan düşmüş?
.....
- 4) Ormanın en uzun hayvanı kimmiş?
.....

LEYLEKLER

Merhaba arkadaşlar. Benim adım Mustafa. Biz köyde yaşıyoruz. Leylekler ilkbaharda köyümüze gelir. Dedem onlara yuva yapar. Bazı yaramaz çocuklar leyleklere taş atarlar. Çocuklar onlara taş attığı için leylekler çok üzülür. Leyleklerin çok uzun bacakları var. Onlar kurbağa, solucan hatta yılan bile yerler.

- 1) Hikayemizdeki kahramanımızın adı nedir?
.....
- 2) Mustafalar nerede yaşıyormuş?
.....
- 3) Köylerine hangi hayvanlar gelirmiş?
.....
- 4) Bu hayvanlar hangi mevsimde gelirlermiş?
.....
- 5) Dedesi onlara ne yaparmış?
.....
- 6) Kimler leyleklere taş atarmış?
.....
- 7) Leylekler ne yermiş?
.....

Adı:.....
Soyadı:.....

1. SINIF TÜRKÇE
"tatil ödevi okuduğunu anlama"



ETKİNLİK
-1-

Kurbağa ile Korkak Tavşan

Ormanların en korkak hayvanı tavşanmış. Yaprak kımıldasa hemen saklanacak yer ararmış. Kendisinden çok daha küçük hayvanların ormanda korkusuzca gezdiğini gören tavşan korkaklığına daha bir üzülürmüş.

Bir gün tavşan ormanda gezintiye çıkmış. Korka korka, saklana yürüyormuş. Tam gölün kıyısına geldiğinde vırakvırak diye bağırarak suya atlayan kurbağalar görmüş. Buna çok şaşırmış. Çünkü kurbağalar da kendisinden korktukları için suya atlıyorlarmış. Tavşan o an anlamış ki ormanda kendisinden daha korkak hayvanlar da var.

O günden sonra tavşan korkusunu az da olsa yenmeyi başarmış.

1) Ormanın en korkak hayvanı kimmiş?

2) Tavşan gezintiye çıkınca nereye gitmiş?

3) Göl kenarında hangi hayvanı görmüş?

ODUNCU OSMAN

Oduncu Osman, yaşlı annesi ile birlikte ormanın içinde küçük bir kulübede yaşırdı. Geçimini odun satarak sağladığı için ona Oduncu Osman derlerdi.

Kış mevsimi gelmişti. Her taraf bembeyaz karlar içerisindeydi. Oduncu Osman tavşan avlamak için tüfeğini aldı, yaşlı annesinin elini öptü ve evden ayrıldı. Karlar üzerinde yavaş yavaş ilerlerken, arkasından bir sesin geldiğini duydu. Durdu. Arkasına baktı. Aman Allah'ım, o da ne? Karşısındaki iki ayağı üzerine doğrulmuş kocaman bir boz ayıydı...

1) Osman kim ile yaşıyordu?

2) Osman nerede yaşıyordu?

3) Geçimini ne satarak sağlardı?

4) Osman'a herkes ne dermiş?

5) Hikayemiz hangi mevsimde geçmekteydi?

6) Osman ne avlamaya çıktı?

7) Osman'ın arkasından kim gelmiş?

Cin Ali Kır Gezisinde



İlkbahar gelmiş, her taraf yemyeşil olmuştu. Ağaçlar çiçek açmış, her yer çeşitli kır çiçekleri ile dolmuştu. Havada renk renk kelebekler uçuyordu. Cin Ali'nin okulu mahallenin kenarındaydı. Kır gezmeleri başlamıştı.

1) Parçaya göre hangi mevsimdir?

2) Her yer ne ile dolmuştu?



Nisan ayının bir pazartesi-günü, öğretmen Gülşen Hanım sınıfa girdi. Yoklamayı yaptıktan sonra:

- Çocuklar, bu hafta konumuz kır gezisi. Çarşamba günü sizi kıra götüreceğim! dedi.

1) Nisan ayının hangi günüdür?

2) Öğretmenin adı nedir?



Öğretmen "Sizi kıra götüreceğim." deyince, bütün çocuklar, sevinerek, öğretmeni alkışladılar.

Öğretmen:

- Çocuklar, çarşamba günü yanınızda yiyeceğinizi, ipinizi, topunuzu, uçurtmanızı getirin, dedi.

1) Çocuklar öğretmeni neden alkışladı

2) Sınıf pikniğe ne zaman gidecektir?



Çocuklar çarşamba günü okula gelirken, yiyecek torbalarını almışlar. Erkek çocuklardan bazıları uçurtma, bazıları da top almış. Kızlar da iplerini, toplarını alıp gelmişlerdi. Zil çalınca okulun bahçesinde sıra oldular.

1) Erkekler piknik için ne getirmiş?

2) Kızlar piknik için ne getirmiş?



Öğretmen Gülşen Hanım sıranın başına geçti. Sıra ile okuldan ayrıldılar. Mahallenin sokaklarından geçerek kıra çıktılar

Cin Ali ile Ahmet uçurtmalarını uçurdular. Cin Ali'nin uçurtması çok yükseklere çıktı.

1) Cin Ali ne uçurdu?

2) Kimin uçurtması yükseğe çıktı?



Uçurtmalarını uçura uçura, bir tepenin başına geldiler. Uzakta iki tane ev vardı. Evin bir tarafında yol, bir tarafında da dere vardı. Yoldan bir at arabası ile eşeğe binmiş bir adam gidiyordu.

1) Uzaklarda ne gördüler?

2) Yolda kimler gidiyordu?



Tepenin üstünden etrafı seyretiler. Sonra ağaçlık bir yere geldiler. Burada bir de çeşme vardı. Öğretmen, çocukları serbest bıraktı. Çocuklar etrafa dağıldılar. Çiçek topladılar. Top oynadılar, uçurtma uçurdular.

1) Ağaçlık yerde ne vardı?

2) Çocuklar ne topladılar?



Kızlardan bazıları iplerini çıkartıp ip atlamaya başladılar. Öğretmen Gülşen Hanım da kızı Nesrin'le beraber ip atladi. Cin Ali'nin uçurtması da çok yükseklere çıkmıştı. Yanlarındaki ağaca bir kuş yuva yapıyordu.

1) Öğretmenin kızının adı nedir?

2) Yanlarındaki ağaçta ne vardı?



Epeyce ip atladıktan sonra, öğretmen çocukları halka yaptı. Halkanın ortasına girdi. Sıra ile herkese top atarak, top oynamaya başladılar. Öğretmen, topu Nuri'ye attı. Nuri topu tutayım derken ayağı taşa takılıp düştü.

1) Halkanın ortasına kim girdi?

2) Öğretmen topu ilk kime attı?



Nuri'nin düşmesine herkes güldü. Cin Ali koştu, Nuri'nin kollarından tutup yerden kaldırdı. Top uzaklara doğru yuvarlanmıştı. Cin Ali Nuri'yi kaldırırken Bekir de topa koştu. Topu alıp geldi.

1) Nuri düşünce herkes ne yaptı?

2) Kaçan topu kim almaya koştu?



Top oyunundan sonra, çayırların üzerine küme küme oturdular. Getirdikleri yiyecekleri yemeye başladılar. Her küme kendi yiyeceğinden bir parça diğer kümeye veriyordu. Öğretmenlerini de kümelerine davet ettiler.

1) Top oyunundan sonra ne yaptılar?

2) Her küme kimi davet etti?



Yemek yeme işi bitince, çeşmede ellerini ağızlarını yıkadılar, su içtiler. Çocuklardan bir kısmı atılan kağıtları toplayıp yaktı. Sonra kır çiçekleri toplamaya başladılar. Bir kısmı da, etraftan sopayla çiğdem söktü.

1) Çocuklar yemekten sonra ne yaptılar?

2) Çocuklar etrafta sopayla ne söktü?



Bazı çocuklar kelebek yakalamak için, kelebeklerin arkasından koştu. Havada kır kuşları uçuyor, cıvı cıvı ötüyordu. Uzakta bir leylek tek ayağının üzerinde duruyordu. Kertenkeleler otların altına kaçıyorlardı.

1) Bazı çocuklar ne yakalamak istedi?

2) Hangi hayvan otların altına kaçtı?



Cin Ali ve arkadaşları, kırdan dolaşırken, bir kaplumbağa gördüler. Koşup kaplumbağanın başına toplandılar. Kaplumbağa onlardan korkup başını kabuğunun içine çekti. Bir şey yapmayınca, tekrar yürüdü.

1) Cin Ali kırdan dolaşırken ne gördü?


2) Kaplumbağa çocukları görünce ne yaptı?



Öğretmen, çocukları düz bir yerde topladı. Boy sırası yaptı ve iki gruba ayrıldı. Ortaya bir sopa dikti. Sopaya da bir mendil astı. Mendil kapmaca oyunu oynattı. İlk önce Cin Ali ile Güler oyuna başladı.

1) Çocuklar hangi oyunu oynadılar?

2) İlk kimler oyuna başladılar?



Kırdan daha bir çok oyunlar oynadıktan sonra, toplandılar. Eşyalarını aldılar. Anneleri için topladıkları kır çiçekleri demetlerini de ellerine alarak, şarkı söyleye söyleye, uçurtmalarını uçurarak okullarına döndüler.

1) Çocuklar anneleri için ne topladı?

2) Geziden sonra nereye döndüler?



Adı:.....

Soyadı:.....

1. SINIF MATEMATİK

"yarıyıl tatil ödevi"

Aşağıdaki toplama işlemlerini yapınız.

$\begin{array}{r} 7 \\ + 4 \\ \hline \end{array}$	$\begin{array}{r} 4 \\ + 8 \\ \hline \end{array}$	$\begin{array}{r} 3 \\ + 4 \\ \hline \end{array}$	$\begin{array}{r} 5 \\ + 1 \\ \hline \end{array}$
$\begin{array}{r} 2 \\ + 8 \\ \hline \end{array}$	$\begin{array}{r} 4 \\ + 6 \\ \hline \end{array}$	$\begin{array}{r} 6 \\ + 4 \\ \hline \end{array}$	$\begin{array}{r} 8 \\ + 5 \\ \hline \end{array}$
$\begin{array}{r} 2 \\ + 9 \\ \hline \end{array}$	$\begin{array}{r} 7 \\ + 7 \\ \hline \end{array}$	$\begin{array}{r} 6 \\ + 4 \\ \hline \end{array}$	$\begin{array}{r} 5 \\ + 5 \\ \hline \end{array}$
$\begin{array}{r} 9 \\ + 1 \\ \hline \end{array}$	$\begin{array}{r} 3 \\ + 4 \\ \hline \end{array}$	$\begin{array}{r} 6 \\ + 6 \\ \hline \end{array}$	$\begin{array}{r} 5 \\ + 9 \\ \hline \end{array}$
$\begin{array}{r} 3 \\ + 6 \\ \hline \end{array}$	$\begin{array}{r} 9 \\ + 2 \\ \hline \end{array}$	$\begin{array}{r} 6 \\ + 4 \\ \hline \end{array}$	$\begin{array}{r} 1 \\ + 8 \\ \hline \end{array}$
$\begin{array}{r} 8 \\ + 3 \\ \hline \end{array}$	$\begin{array}{r} 4 \\ + 8 \\ \hline \end{array}$	$\begin{array}{r} 7 \\ + 1 \\ \hline \end{array}$	$\begin{array}{r} 1 \\ + 3 \\ \hline \end{array}$
$6 + 3 =$	$5 + 4 =$	$6 + 4 =$	$7 + 6 =$
$4 + 4 =$	$3 + 4 =$	$4 + 6 =$	$3 + 5 =$
$7 + 4 =$	$8 + 3 =$	$9 + 1 =$	$2 + 6 =$
$6 + 8 =$	$4 + 9 =$	$2 + 6 =$	$7 + 6 =$
$3 + 7 =$	$5 + 3 =$	$2 + 9 =$	$4 + 3 =$



ETKİNLİK: -1-

Adı:.....

Soyadı:.....

1. SINIF MATEMATİK

"yarıyıl tatil ödevi"

Aşağıdaki saatlerin kaç olduğunu altına yazınız.



Aşağıdaki ritmik saymaları tamamlayınız.

1
3
7
8

2
4
6
12
20

5
15
20
40
45

10
40
50
100



ETKİNLİK: -1-

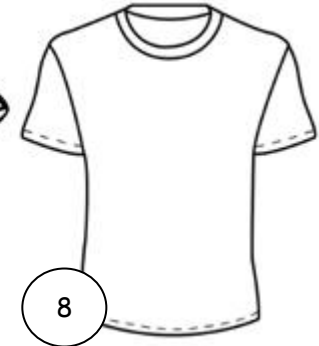
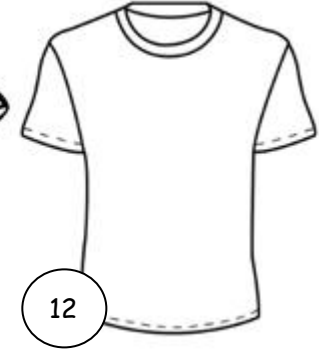


Adı:.....

Soyadı:.....

1. SINIF MATEMATİK

"yarıyıl tatil ödevi"

Aşağıdaki tişörtleri işlemlerin sonuçlarında belirtilen renklere boyayınız.



$$\begin{array}{r} 8 \\ + 4 \\ \hline \end{array}$$

$$\begin{array}{r} 6 \\ + 3 \\ \hline \end{array}$$

$$\begin{array}{r} 5 \\ + 6 \\ \hline \end{array}$$

$$\begin{array}{r} 7 \\ + 6 \\ \hline \end{array}$$

$$\begin{array}{r} 4 \\ + 6 \\ \hline \end{array}$$

$$\begin{array}{r} 9 \\ + 5 \\ \hline \end{array}$$

$$\begin{array}{r} 3 \\ + 5 \\ \hline \end{array}$$

$$\begin{array}{r} 6 \\ + 9 \\ \hline \end{array}$$

$$\begin{array}{r} 14 \\ + 3 \\ \hline \end{array}$$

$$\begin{array}{r} 12 \\ + 4 \\ \hline \end{array}$$

$$\begin{array}{r} 13 \\ + 6 \\ \hline \end{array}$$

$$\begin{array}{r} 11 \\ + 7 \\ \hline \end{array}$$

8:sarı 12:mavi 9:kırmızı
13:yeşil 10:kahverengi
14:pembe 11:lacivert
15:mor 16: açık mavi
17: turuncu 18: gri
19: siyah



Soyadı:.....




Adı:.....

Soyadı:.....


1. SINIF MATEMATİK


"yarıyıl tatil ödevi"


Aşağıdaki toplama işlemlerini yapınız.



$$\begin{array}{r} 2 \\ +0 \\ \hline \end{array}$$


$$\begin{array}{r} 2 \\ +1 \\ \hline \end{array}$$


$$\begin{array}{r} 2 \\ +2 \\ \hline \end{array}$$



$$\begin{array}{r} 2 \\ +3 \\ \hline \end{array}$$



$$\begin{array}{r} 2 \\ +4 \\ \hline \end{array}$$



$$\begin{array}{r} 2 \\ +5 \\ \hline \end{array}$$


$$\begin{array}{r} 2 \\ +6 \\ \hline \end{array}$$


$$\begin{array}{r} 2 \\ +7 \\ \hline \end{array}$$



$$\begin{array}{r} 2 \\ +8 \\ \hline \end{array}$$


$$\begin{array}{r} 2 \\ +9 \\ \hline \end{array}$$



$$\begin{array}{r} 9 \\ +5 \\ \hline \end{array}$$


$$\begin{array}{r} 9 \\ +6 \\ \hline \end{array}$$


$$\begin{array}{r} 9 \\ +7 \\ \hline \end{array}$$



$$\begin{array}{r} 9 \\ +8 \\ \hline \end{array}$$



$$\begin{array}{r} 9 \\ +9 \\ \hline \end{array}$$

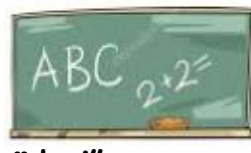

$$\begin{array}{r} 8 \\ +5 \\ \hline \end{array}$$


$$\begin{array}{r} 8 \\ +6 \\ \hline \end{array}$$


$$\begin{array}{r} 8 \\ +7 \\ \hline \end{array}$$


$$\begin{array}{r} 8 \\ +8 \\ \hline \end{array}$$


$$\begin{array}{r} 8 \\ +9 \\ \hline \end{array}$$



1. SINIF MATEMATİK

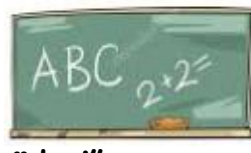
"yarıyıl tatil ödevi"

Aşağıdaki sayıların okunuşlarını yazınız.

12		1	
7		19	
20		13	
11		2	
17		18	
8		15	
16		3	
14		4	
6		5	

Aşağıdaki sayıları rakam ile yazınız.

	Yirmi yedi		Yirmi iki
	On sekiz		On yedi
	Otuz üç		Sekiz
	Yirmi altı		Otuz beş
	On dört		İki
	Yedi		Dokuz
	Yirmi		On bir
	Kırk sekiz		On iki
	Elli		Yirmi dokuz
	Beş		Otuz iki



ETKİNLİK: -1-

Adı:.....

Soyadı:.....

1. SINIF MATEMATİK

"yarıyıl tatil ödevi"

Yan yana toplama işlemlerini yapınız.

5	+	4	=	9
6	+	5	=	
8	+	4	=	
5	+	5	=	
9	+	3	=	
10	+	5	=	
7	+	7	=	
10	+	4	=	
8	+	8	=	
6	+	6	=	

3	+	4	=	
6	+	3	=	
4	+	4	=	
4	+	5	=	
9	+	8	=	
10	+	10	=	
7	+	10	=	
10	+	9	=	
8	+	2	=	
6	+	7	=	



Adı:.....

Soyadı:.....

1. SINIF MATEMATİK

"yarıyıl tatil ödevi"

Aşağıdaki toplama işlemlerini yapınız.

$$\begin{array}{r} 5 \\ + 4 \\ \hline .. \end{array}$$

$$\begin{array}{r} 7 \\ + 4 \\ \hline .. \end{array}$$

$$\begin{array}{r} 4 \\ + 3 \\ \hline .. \end{array}$$

$$\begin{array}{r} 5 \\ + 2 \\ \hline .. \end{array}$$

$$\begin{array}{r} 6 \\ + 5 \\ \hline .. \end{array}$$

$$\begin{array}{r} 7 \\ + 7 \\ \hline .. \end{array}$$

$$\begin{array}{r} 6 \\ + 8 \\ \hline .. \end{array}$$

$$\begin{array}{r} 7 \\ + 2 \\ \hline .. \end{array}$$

$$\begin{array}{r} 8 \\ + 3 \\ \hline .. \end{array}$$

$$\begin{array}{r} 9 \\ + 2 \\ \hline .. \end{array}$$

$$\begin{array}{r} 3 \\ + 3 \\ \hline .. \end{array}$$

$$\begin{array}{r} 4 \\ + 3 \\ \hline .. \end{array}$$

$$\begin{array}{r} 5 \\ + 1 \\ \hline .. \end{array}$$

$$\begin{array}{r} 6 \\ + 3 \\ \hline .. \end{array}$$

$$\begin{array}{r} 7 \\ + 5 \\ \hline .. \end{array}$$

$$\begin{array}{r} 8 \\ + 2 \\ \hline .. \end{array}$$

$$\begin{array}{r} 9 \\ + 1 \\ \hline .. \end{array}$$

$$\begin{array}{r} 4 \\ + 4 \\ \hline .. \end{array}$$

$$\begin{array}{r} 6 \\ + 5 \\ \hline .. \end{array}$$

$$\begin{array}{r} 7 \\ + 5 \\ \hline .. \end{array}$$

$$\begin{array}{r} 8 \\ + 5 \\ \hline .. \end{array}$$

$$\begin{array}{r} 9 \\ + 5 \\ \hline .. \end{array}$$

$$\begin{array}{r} 6 \\ + 6 \\ \hline .. \end{array}$$

$$\begin{array}{r} 7 \\ + 6 \\ \hline .. \end{array}$$

$$\begin{array}{r} 8 \\ + 1 \\ \hline .. \end{array}$$

$$\begin{array}{r} 9 \\ + 1 \\ \hline .. \end{array}$$

$$\begin{array}{r} 2 \\ + 2 \\ \hline .. \end{array}$$

$$\begin{array}{r} 3 \\ + 2 \\ \hline .. \end{array}$$

$$\begin{array}{r} 4 \\ + 2 \\ \hline .. \end{array}$$

$$\begin{array}{r} 5 \\ + 2 \\ \hline .. \end{array}$$

$$\begin{array}{r} 9 \\ + 8 \\ \hline .. \end{array}$$

$$\begin{array}{r} 9 \\ + 9 \\ \hline .. \end{array}$$

$$\begin{array}{r} 1 \\ + 2 \\ \hline .. \end{array}$$

$$\begin{array}{r} 2 \\ + 3 \\ \hline .. \end{array}$$

$$\begin{array}{r} 2 \\ + 4 \\ \hline .. \end{array}$$

$$\begin{array}{r} 2 \\ + 5 \\ \hline .. \end{array}$$

$$\begin{array}{r} 5 \\ + 4 \\ \hline .. \end{array}$$

$$\begin{array}{r} 6 \\ + 4 \\ \hline .. \end{array}$$

$$\begin{array}{r} 7 \\ + 4 \\ \hline .. \end{array}$$

$$\begin{array}{r} 8 \\ + 4 \\ \hline .. \end{array}$$

$$\begin{array}{r} 9 \\ + 4 \\ \hline .. \end{array}$$

$$\begin{array}{r} 5 \\ + 5 \\ \hline .. \end{array}$$