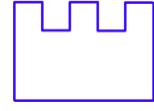


Adı Soyadı:


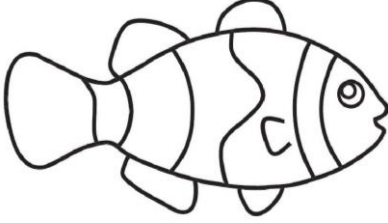
Sınıf: No:



KALE EĞİTİM
KALE GİBİ EĞİTİM
kaleegitim

Hayvanlar

Tavuk, horoz, civciv kümeste yaşar. Balıklar ise suda yaşarlar. Kuşlar ise ağaçlara yaptıkları yuvalarda yaşarlar. Her hayvanın kendine göre bir yuvası vardır.



Resimler alıntıdır.

Dilbilgisi yanlışlarını bul, işaretle. İstekli

Aysel çok istekli bir öğrenciydi. Öğretmeni de öyle. Çarpma ve bölme İşlemlerini öğrenmişlerdi. Eee. Aysel gibi öğrenciler olunca ders yapmak çok zevkliydi. Öğretmeni de Öğrencileri için Farklı kitaplardan çalışmalar yaptıırıyordu. Aysel, sınıfın en iyilerinden olmak için çok çalışıyordu. Sınıfın en iyilerindendi. Öğretmeni de öğrencisine: 'Başarılı, hayırlı insanlardan olursun canım kızım. İşlerine daima besmele ile başla.' diye de dua etti.

TUZ

Bir yanıım tuz,
Bir yanıım Şeker,
Tuzdan yanayım.

Bir yanıım deniz,
Bir yanıım Toprak,
Denizden yanayım.

Bir Yanım sen,
Bir yanıım Ben,
Senden yanayım.

Bedri Rahmi Eyüpoğlu

Kelimelerden cümleler yazalım.

ördek: Suda yüzen ördeklere yem attım.


sınıf:

sıra:

okul:

Düzgün ve Doğru Yaparız, Allah'a Dua Ederiz.

Aşağıdaki şekillerin yarısını gösterip boyayınız.



1-) Elif, şimdi 3 yaşında. 5 yıl sonra Elif'in yaşı kaç olur?

Bilgi:

İşlem:

Sonuç:

2. Dolapta 6 bardak vardı. 6 tanede babam aldı. Dolapta kaç bardak oldu?

Bilgi:

İşlem:

Sonuç:

3. Yunus 9 yıl sonra 16 yaşında olacaktır. Yunus şimdi kaç yaşındadır?

Bilgi:

İşlem:

Sonuç:

4. 20 sayfalık defterimin 7 sayfasını yazdım, 5 sayfasına da resim yaptım. Geriye kaç sayfa kaldı?

Bilgi:

İşlem:

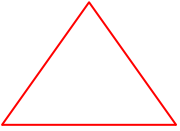
Sonuç:

5. Jiyan'ın 6 tane kalemi vardı. 5 tane ağabeyinden, 3 tane de ablasından aldı. Jiyan'ın kaç tane kalemi oldu?

Bilgi:

İşlem:

Sonuç:



Kenar Köşe



Kenar Köşe



Kenar Köşe

Aşağıdaki şekillerin çeyreğini gösterip boyayınız.



MATEMATİK DEFTERİNE YAZ VE CEVAPLA. (BİLGİ, İŞLEM, SONUÇ olsun.)

1) Emir, 8 yaşında ve kardeşi Emir'den 3 yaş küçük olduğuna göre ikisinin yaşlarının toplamı kaçtır?

2-) 4'ün 5 fazlası kaçtır?

4-)4'ün 3 fazlası kaçtır?

5-)15'in 4 fazlası kaçtır?

$\begin{array}{r} 65 \\ - 25 \\ \hline \end{array}$	$\begin{array}{r} 66 \\ - 21 \\ \hline \end{array}$	$\begin{array}{r} 67 \\ - 04 \\ \hline \end{array}$	$\begin{array}{r} 69 \\ - 31 \\ \hline \end{array}$	$\begin{array}{r} 77 \\ - 04 \\ \hline \end{array}$	$\begin{array}{r} 68 \\ - 42 \\ \hline \end{array}$	$\begin{array}{r} 66 \\ - 31 \\ \hline \end{array}$	$\begin{array}{r} 76 \\ - 30 \\ \hline \end{array}$
.....

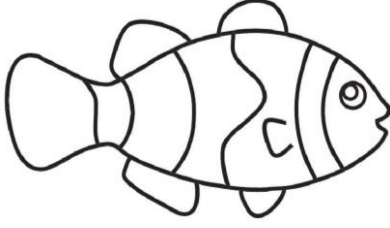
Düzgün ve Doğru Yaparız, Allah'a Dua Ederiz.

Adı Soyadı:
Sınıf: No:


Hayvanlar



..... yaşar



..... yaşar



..... yaşar



..... yaşar

Resimler alıntıdır.

Dilbilgisi yanlışlarını bul, işaretle.

Canım Annem

Mayıs ayında, anneler Günü kutlanır. Çocuklar annelerini çok sever. Çocuklar da annelerini Çok sever. Annelerini üzmezler. Üzmesin de Canım yani. Hiç üzülür mü güler Yüzlü insanlar? Anneme Sarılırım. Canım, diye Seslenirim. Canım annem. Seni çok ama çok seviyorum. Ahlaklı insan Olacağım. Besmele ile Görevlerime başlayacağım. Sizleri utandırmayacağım.

TUZ

Bir Yanım tuz,
Bir Yanım Şeker,
Tuzdan yanayım.

Bir Yanım deniz,
Bir Yanım Toprak,
Denizden yanayım.

Bir Yanım sen,
Bir Yanım Ben,
Senden Yanayım.
Bedri Rahmi Eyüpoğlu

Kelimelerden cümleler yazalım.

ördek: Suda yüzen ördeklere yem attım.

annem:

sevgi:

görev:

1-) Elif, şimdi 4 yaşında. 3 yıl sonra Elif'in yaşı kaç olur?

Bilgi: İşlem: Sonuç:

2. Dolapta 7 bardak vardı. 2 tanede babam aldı. Dolapta kaç bardak oldu?

Bilgi: İşlem: Sonuç:

3. Yunus 9 yıl önce 5 yaşındaydı. Yunus şimdi kaç yaşındadır?

Bilgi:

İşlem:

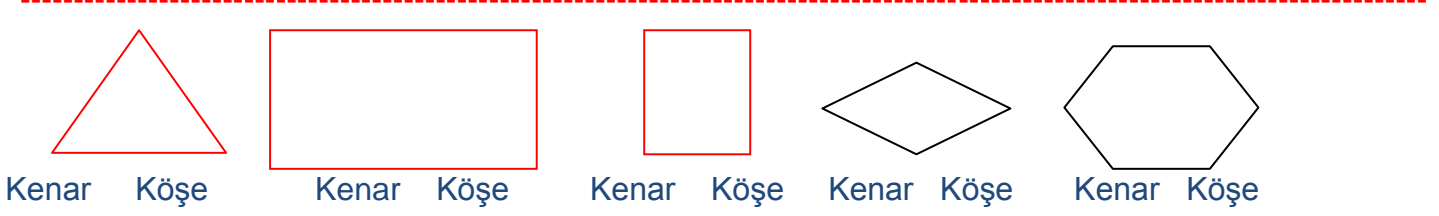
Sonuç:

4. 20 sayfalık defterimin 7 sayfasını yazdım. Geriye kaç sayfa kaldı?

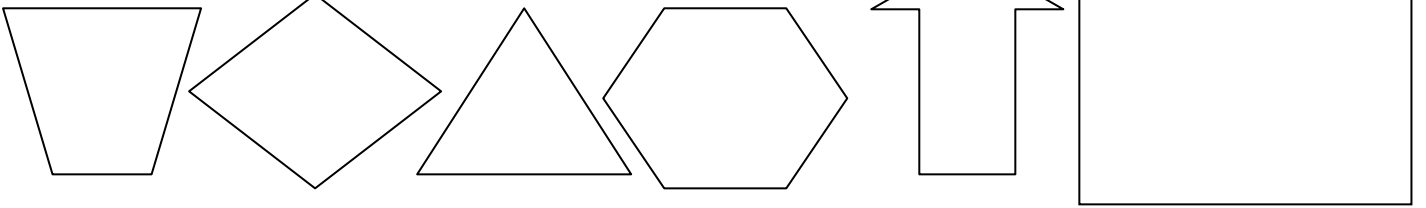
Bilgi:

İşlem:

Sonuç:



Aşağıdaki şekillerin **çeyreğini** gösterip boyayınız.



MATEMATİK DEFTERİNE YAZ VE CEVAPLA. (BİLGİ, İŞLEM, SONUÇ olsun.)

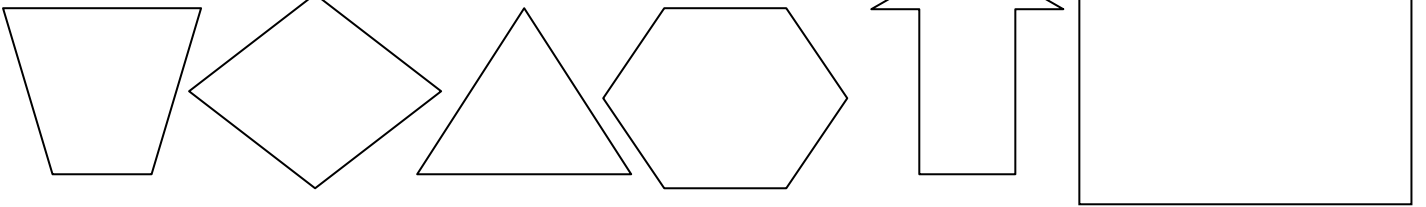
1) Emir, 5 yaşında ve abisi Emir'den 2 yaş büyük olduğuna göre ikisinin yaşlarının toplamı kaçtır?

2-) 4'ün 2 eksiği kaçtır?

4-) 4'ün 1 fazlası kaçtır?

5-) 15'in 2 eksiği kaçtır?

Aşağıdaki şekillerin **çeyreğini** gösterip boyayınız.



9	+	3	+	2	=	
9	+	1	+	4	=	
9	+	4	+	3	=	

5	+	1	+	3	+	2	=	
8	+	4	+	3	+	2	=	
5	+	1	+	3	+	3	=	

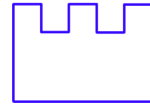
49	27	26	57	38	47	58
+ 48	+ 06	+ 49	+ 09	+ 38	+ 09	+ 38

16			
+ 2	+ 2	+ 4	+ 3

29			
+ 2	+ 3	+ 2	+ 3

Düzgün ve Doğru Yaparız, Allah'a Dua Ederiz.

Adı Soyadı:
Sınıf: No:



KALE EĞİTİM
KALE GİBİ EĞİTİM
kaleegitim

Dilbilgisi yanlışlarını bul, işaretle.

Doğru

Ayben sınava Girdi. Testlerden Cevapları işaretledi. Sonra da optik kağıda İşaretledi. Öğretmenine Verdi. Öğretmen bir soruda iki cevap var mı Diye baktı. Kağıtları topladı. Cep Telefonundan Okumaları yaptı. Hemen Cevapları söyledi. Ayben'in morali bozuldu. Ayben'in Babası, öğretmeni aradı. Boş Olan optik formlardan vermesini İstedi. Herkes Ayben'in Doğru yapması için gayret gösterecekti.

TUZ

Bir Yanım tuz,
bir Yanım Şeker,
Tuzdan yanayım.

Bir Yanım deniz,
bir Yanım Toprak,
Denizden yanayım.

Bir Yanım sen,
bir Yanım Ben,
Senden Yanayım.
bedri Rahmi eyüpoğlu

Kelimelerden cümleler yazalım.

ördek: Suda yüzen ördeklere yem attım.

test:

başarı:

1 Mustafa doğum gününde pastanın üzerindeki 14 mumum üfleyerek 9 tanesini söndürüyor. Sönmeyen kaç kaldı?

Bilgi: İşlem: Sonuç:

2 Bir sınıftaki 20 öğrencinin 11 tanesi kızdır. Bu sınıfta kaç erkek öğrenci vardır?

Bilgi: İşlem: Sonuç:

3 Ayşe'nin 5 tane kalemi vardı. Annesi 4 kalem daha hediye etti. Ayşe'nin kaç kalemi oldu?

Bilgi: İşlem: Sonuç:

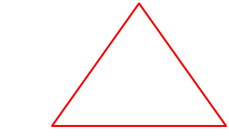
4 Burak'ın 8 tane boya kalemi ile 7 tane kurşun kalemi vardır. Burak'ın kaç tane kalemi vardır?

Bilgi: İşlem: Sonuç:

5 Ahmet Hotamış diyor ki, 15 ile 8'in farkı kaçtır?

Bilgi: İşlem: Sonuç:

Düzgün ve Doğru Yaparız, Adam Gibi Adam Olacağız.



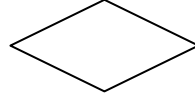
Kenar Köşe



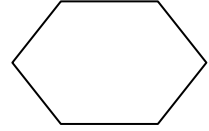
Kenar Köşe



Kenar Köşe

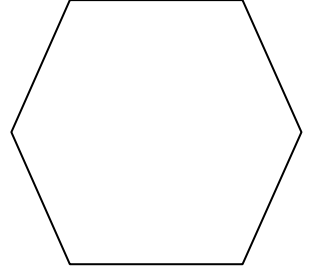
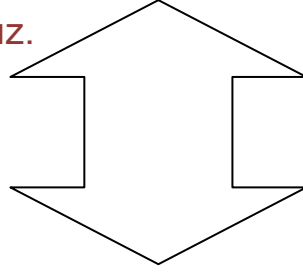
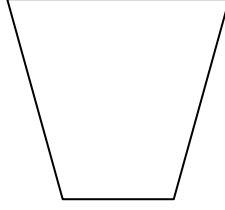
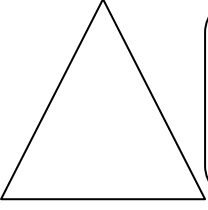


Kenar Köşe



Kenar Köşe

Aşağıdaki şekillerin **çeyreğini** gösterip boyayınız.



MATEMATİK DEFTERİNE YAZ VE CEVAPLA. (BİLGİ, İŞLEM, SONUÇ olsun.)

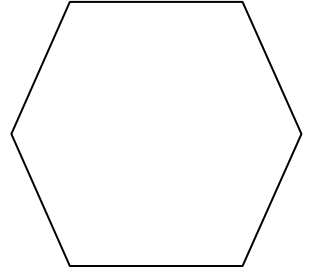
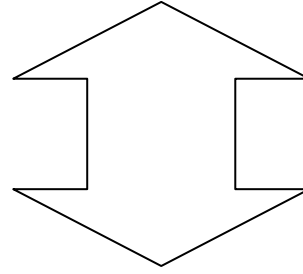
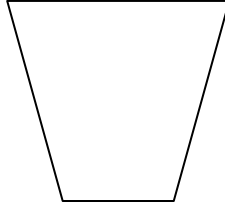
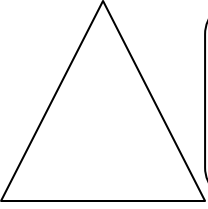
1) Emir, 5 yaşında ve abisi Emir'den 2 yaş büyük olduğuna göre ikisinin yaşlarının toplamı kaçtır?

2-) 14'ün 12 eksiği kaçtır?

4-) 24'ün 11 fazlası kaçtır?

5-) 55'in 12 eksiği kaçtır?

Aşağıdaki şekillerin **yarısını** gösterip boyayınız.



Büyükse b,

küçükse k

harfi yazınız

65 13

49 54

46 25

89 42

57 52

98 9

12 64

37 28

27 38

35 45

6 78

57 49

7 83

56 54

79 75

83 53

Rakamları verilen sayıları, yazı ile yazınız.

93

62

74

46

23

77

$$\begin{array}{r} 37 \\ + 26 \\ \hline \end{array}$$

$$\begin{array}{r} 47 \\ + 37 \\ \hline \end{array}$$

$$\begin{array}{r} 47 \\ + 36 \\ \hline \end{array}$$

$$\begin{array}{r} 48 \\ + 09 \\ \hline \end{array}$$

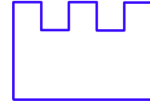
$$\begin{array}{r} 39 \\ + 39 \\ \hline \end{array}$$

$$\begin{array}{r} 49 \\ + 35 \\ \hline \end{array}$$

$$\begin{array}{r} 29 \\ + 29 \\ \hline \end{array}$$

Düzgün ve Doğru Yaparız, Adam Gibi Adam Olacağız.

Adı Soyadı:



KALE EĞİTİM
KALE GİBİ EĞİTİM
kaleegitim

Sınıf: No:

Dilbilgisi yanlışlarını bul, işaretle.

Canım Annem

Mercan: Canım Annem.

Annesi: Buyur canım Kızım.

Mercan: Duymayı Sevdiğin en güzel Kelime nedir?

Annesi: Sana, 'Seni seviyorum Kızım.' cümlesini çok Seviyorum.

Mercan: Annem, ben de Seni çok Seviyorum.

Annesi: Ben seni Daha çok Seviyorum Kızım.

TUZ

bir yanım tuz,

bir yanım şeker,

tuzdan yanayım.

Bir yanım deniz,

bir yanım toprak,

denizden yanayım.

bir yanım sen,

bir yanım ben,

Senden yanayım.

Bedri rahmi eyüpoğlu

Kelimelerden cümleler yazalım.

ördek: Suda yüzen ördeklere yem attım.

yağmur:

ağaç:

1 Bir sınıftaki 25 öğrencinin 15 tanesi kızdır. Bu sınıfta kaç erkek öğrenci vardır?

Bilgi:

İşlem:

Sonuç:

2 Ayşe'nin 14 tane kalemi vardı. Annesi 14 kalem daha hediye etti. Ayşe'nin kaç kalemi oldu?

Bilgi:

İşlem:

Sonuç:

3 Burak'ın 12 tane boya kalemi ile 11 tane kurşun kalemi vardır. Burak'ın kaç tane kalemi vardır?

Bilgi:

İşlem:

Sonuç:

4 Ahmet Hotamış diyor ki, 28 ile 11'in farkı kaçtır?

Bilgi:

İşlem:

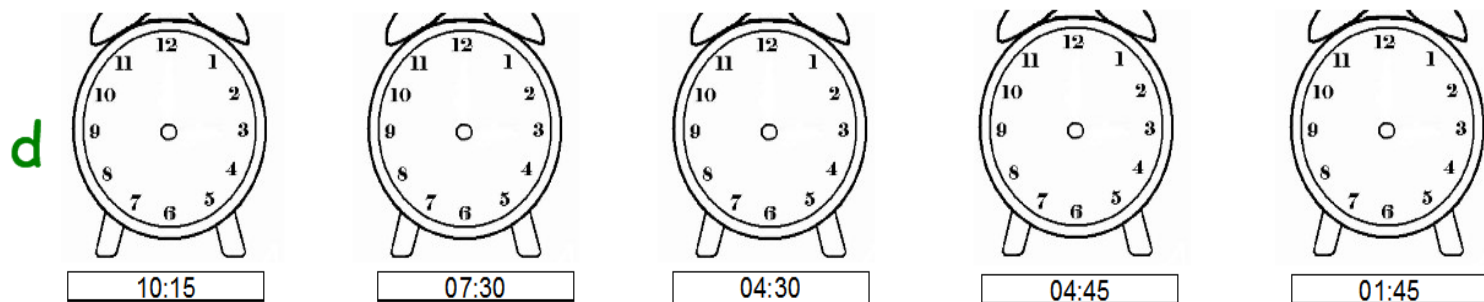
Sonuç:

Düzgün ve Doğru Yaparız, Adam Gibi Adam Olacağız.

a $\begin{array}{r} 24 \\ + 96 \\ \hline \end{array}$ $\begin{array}{r} 84 \\ + 60 \\ \hline \end{array}$ $\begin{array}{r} 97 \\ + 33 \\ \hline \end{array}$ $\begin{array}{r} 71 \\ + 76 \\ \hline \end{array}$ $\begin{array}{r} 10 \\ + 31 \\ \hline \end{array}$

b $\begin{array}{r} 11 \\ + 28 \\ \hline \end{array}$ $\begin{array}{r} 26 \\ + 89 \\ \hline \end{array}$ $\begin{array}{r} 62 \\ + 88 \\ \hline \end{array}$ $\begin{array}{r} 27 \\ + 55 \\ \hline \end{array}$ $\begin{array}{r} 24 \\ + 44 \\ \hline \end{array}$

c $\begin{array}{r} 56 \\ + 39 \\ \hline \end{array}$ $\begin{array}{r} 36 \\ + 78 \\ \hline \end{array}$ $\begin{array}{r} 41 \\ + 21 \\ \hline \end{array}$ $\begin{array}{r} 38 \\ + 67 \\ \hline \end{array}$ $\begin{array}{r} 64 \\ + 74 \\ \hline \end{array}$



e

$$\begin{array}{r} 27 \\ + 5 \\ \hline \end{array} \begin{array}{r} \\ + 3 \\ \hline \end{array} \begin{array}{r} \\ + 2 \\ \hline \end{array} \begin{array}{r} \\ + 0 \\ \hline \end{array} \begin{array}{r} 37 \\ + 3 \\ \hline \end{array} \begin{array}{r} \\ + 3 \\ \hline \end{array} \begin{array}{r} \\ + 0 \\ \hline \end{array} \begin{array}{r} \\ + 4 \\ \hline \end{array}$$

1 $\begin{array}{r} 59 \\ - 47 \\ \hline \end{array}$ $\begin{array}{r} 67 \\ - 64 \\ \hline \end{array}$ $\begin{array}{r} 66 \\ - 66 \\ \hline \end{array}$ $\begin{array}{r} 24 \\ - 21 \\ \hline \end{array}$ $\begin{array}{r} 46 \\ - 31 \\ \hline \end{array}$

2 $\begin{array}{r} 86 \\ - 71 \\ \hline \end{array}$ $\begin{array}{r} 23 \\ - 21 \\ \hline \end{array}$ $\begin{array}{r} 97 \\ - 42 \\ \hline \end{array}$ $\begin{array}{r} 77 \\ - 75 \\ \hline \end{array}$ $\begin{array}{r} 57 \\ - 36 \\ \hline \end{array}$

3 $\begin{array}{r} 96 \\ - 83 \\ \hline \end{array}$ $\begin{array}{r} 18 \\ - 11 \\ \hline \end{array}$ $\begin{array}{r} 92 \\ - 71 \\ \hline \end{array}$ $\begin{array}{r} 38 \\ - 34 \\ \hline \end{array}$ $\begin{array}{r} 83 \\ - 31 \\ \hline \end{array}$

4 $\begin{array}{r} 69 \\ - 67 \\ \hline \end{array}$ $\begin{array}{r} 84 \\ - 34 \\ \hline \end{array}$ $\begin{array}{r} 15 \\ - 12 \\ \hline \end{array}$ $\begin{array}{r} 53 \\ - 21 \\ \hline \end{array}$ $\begin{array}{r} 94 \\ - 74 \\ \hline \end{array}$

Düzgün ve Doğru Yaparız, Adam Gibi Adam Olacağız.