



TOPLAMA PROBLEMLERİ

PROBLEM -1: Yere düşen kurabiyenin üzerine önce 43, daha sonra 8 karınca toplandı. Kurabiyenin üzerinde toplam kaç karınca var?



ÇÖZÜM-1:

CÖZÜM-1:



PROBLEM-2: Kirpinin dikenleri dökülmeye başlamış. Dün 56, bugün ise 6 tane diken dökülmüş. Kirpinin toplamda kaç diken dökülmüştür?



ÇÖZÜM-2:

[illegible]


PROBLEM-3: Aslan bu sene 35 ceylan, 8 tane de zebra avladı. Aslan bu sene toplam kaç hayvan avladı?



ÇÖZÜM-3:

[illegible]

PROBLEM-4: Su aygırının üstüne önce 14, sonra 9 kuş kondu. Su aygırının üstünde kaç tane kuş var?



ÇÖZÜM-4:

ÇÖZÜM-4:

