


TOPLAMA PROBLEMLERİ

PROBLEM -1: Yan yana iki buzdağından birincisinde 24, ikincisinde ise 8 penguen vardır. Bu iki buzdağında kaç penguen vardır?



ÇÖZÜM-1:




PROBLEM-2: Arı Maya bal yapmak için 35 güle, 5 papatyaya konmuş. Arı Maya toplamda kaç çiçeğe konmuştur?



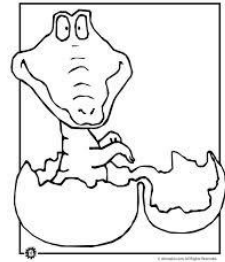
ÇÖZÜM-2:



PROBLEM-3: Timsahın yumurtalarından önce 27, daha sonra 7 yavrusu çıktı. Bu timsahın kaç yavrusu vardır?



ÇÖZÜM-3:



PROBLEM-4: Panda sabah 16, akşam ise 9 bambu yaprağı yedi. Panda toplamda kaç bambu yaprağı yedi?



ÇÖZÜM-4:

