


TOPLAMA PROBLEMLERİ


PROBLEM -1: Bahçedeki ağaçta 14 kuş vardı. Bu ağaca 6 tane kuş gelirse ağaçta kaç kuş olur?




<u>ÇÖZÜM-1:</u>																			



PROBLEM-2: Bir çiftlikte 13 koyun, 4 keçi vardır. Bu çiftlikte toplam kaç hayvan vardır?



<u>ÇÖZÜM-2:</u>																			




PROBLEM-3: Kutup ayısının 15 balığı vardı. Bunlar yetmez dedi ve ava çıktı. 7 tane daha balık tuttu. Şimdi kutup ayısının kaç tane balığı oldu?



<u>ÇÖZÜM-3:</u>																			



PROBLEM-4: Yarasa gece ava çıktı. Bir ağaçtan 9, başka bir ağaçtan da 8 tane böcek yedi. Bu gece yarasa kaç böcek yedi?



<u>ÇÖZÜM-4:</u>																			

