

1. Sınıf Matematik Toplama ve Çıkarma Problemleri - 12


1) Ablam kuruyemişçiden 5 TL'lik fıstık, 3 TL'lik leblebi, 6 TL'lik çiğdem, 8 TL'lik fındık aldı. Toplam kaç lira öderiz?

Cevap

.....

.....

.....




2) 1/A sınıfı olarak, okulumuzu güzelleştirmek için okul bahçesine 5 erik, 7 söğüt, 8 çam ve 6 servi ağacı diktik. Bahçemize toplam kaç ağaç diktik?

Cevap

.....

.....

.....



3) Öğretmenimiz sınıfımızda ilk dönem 8, ikinci dönemse 9 deney yaptırdı. Toplam kaç deney yaptırmıştır?

Cevap

.....

.....

.....



4) Babamla pazardan kilosu 4 TL olan elmalardan 5 kilogram aldık. Ne kadar para ödememiz gerekir?

Cevap

.....

.....

.....




5) Bir elde 5 parmak varsa 3 elde kaç parmak olur?

Cevap

.....

.....

.....



6) Bir ekmekte 9 dilim varsa, 3 ekmekte kaç dilim vardır?

Cevap

.....

.....

.....



7) Abim 18 yaşında ehliyet aldı. Şu anda abim 23 yaşındadır. Abimin kaç yıldır ehliyeti vardır?

Cevap

.....

.....

.....



8) Bir kasa üzümünden 3 litre pekmez çıkmaktadır. 5 kasa üzümünden kaç litre pekmez çıkar?

Cevap

.....

.....

.....



9) Tanesi 8 TL olan dönerden 3 tane yedim. Ne kadar para ödemem gerekir?

Cevap

.....

.....

.....



10) Manavdan kilosu 3 TL olan domatesten 6 kilogram aldık. 20 TL verdik. Üste kaç TL almamız gerekir?

Cevap

.....

.....

.....

