

1. Sınıf Matematik Toplama ve Çıkarma Problemleri - 10

1) İsmail müsabakada önce 7 puan daha sonra 5 puan daha aldı. İsmail müsabakada kaç puan kazandı?

Cevap

.....

.....




2) Yumaktaki 20 metre ipin 3 metresini el işi için, 12 metresini uçurtma için ve 4 metresini hediye paketi için kullandık. Geriye ne kadar ip kaldı?

Cevap

.....

.....




3) Bir inek günde 4 litre süt veriyorsa bir haftada kaç litre süt verir?

Cevap

.....

.....



4) Hatice'nin doktoru ona iyileşmesi için ilaç verdi. Sabah 2, öğle 4, akşam 2 ilaç içiyor. Hatice iki günde toplam kaç ilaç içer?

Cevap

.....

.....




5) Bahçemizdeki horoz sabah 7'de kalkıyor. Hiç durmadan 3 saat ötüyor ve duruyor. Horoz saat kaçta duruyor?

Cevap

.....

.....




6) Koşucu tavşan yarışta 25 metrelik yolun 13 metresini koştu. Yarışın bitimi için geriye kaç metre yol kaldı?

Cevap

.....

.....

.....



7) Hindimiz 20 kilogramlık yemin 18 kilogramını bitirdi. Geriye kaç kilogram yem kaldı?

Cevap

.....

.....

.....



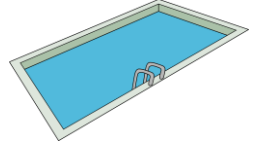
8) Saat 13'de havuza girdik. 8 saat yüzdük ve çıktık. Havuzdan saat kaçta çıktık?

Cevap

.....

.....

.....



9) Kilogramı 5 TL olan havuçtan 2 kilogram aldık. Manava 20 TL verdik. Bize para üstü kaç TL verir?

Cevap

.....

.....

.....



10) Abim spor yaparken önce 10 kg ile çalışmaya başladı. Sonra 3 kg ekledi. En son 6 kg daha ekledi. Abim en son eklediği kg ile beraber kaç kg ile çalıştı?

Cevap

.....

.....

.....

