




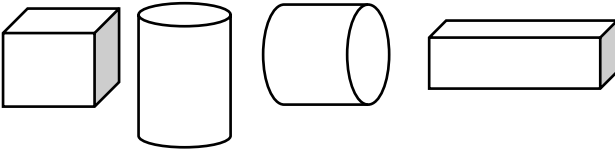
MATEMATİK TESTİ

- 1-  Yandaki şekilde kaç tane kare vardır?
A-1 B-2 C-5

- 2-  Yandaki şekilde kaç tane üçgen vardır?
A-1 B-2 C-3

- 3-  Yandaki kare yarıya bölünerek hangi şekil elde edilmiştir?
A-Kare B-Dikdörtgen C-Koni

- 4-  Yandaki şekil nedir?
A-Silindir B-Çember C-Koni

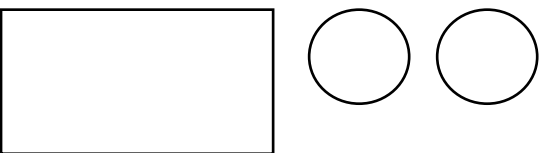
- 5- 

Yukarıda verilen şekillerin sıralanışı nasıldır?

A-Küp-Silindir-Çember-Prizma

B-Küp-Silindir-Silindir-Prizma

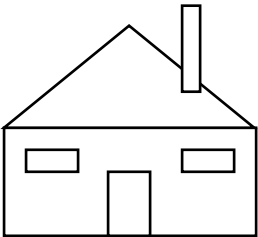
C-Küp-Silindir-Koni-Prizma

- 6-  Yandaki şekilleri bir araya getirirsek hangi şekli elde edebiliriz?

A-Silindir

B-Prizma

C-Çember

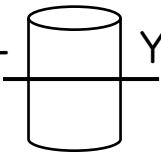
- 7-  Yandaki ev de hangi geometrik şekil daha çok kullanılmıştır?

A-Üçgen

B-Dikdörtgen

C-Kare

8- Yandaki silindir ekildeki gibi yarıya bölünürse hangi ekil elde edilir?

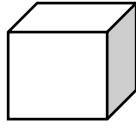


A-Çember

B-Silindir

C-Koni

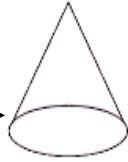
9-Aağıdaki eşleřtirmelerden hangisi yanlıřtır?



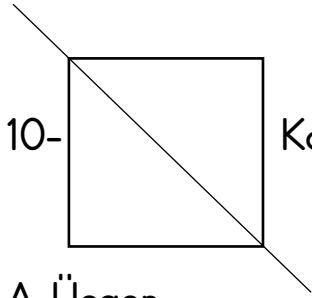
A-



B-



C-



10-

Kareyi ekildeki gibi ortadan kesersek hangi ekli elde ederiz?

A-Üçgen

B-Prizma

C-Kare

11-Aağıdaki eşleřtirmelerden hangisi yanlıřtır?

A-Portakal küreye benzer

B-Su bardağı silindire benzer

D-Buzdolabı küpe benzer

12-Aağıdaki bilgilerden hangisi yanlıřtır?

A-Karenin dört köřesi vardır

B-Çemberin içi doludur

C-Üçgenin üç kenarı vardır

Uzm.Öğrt.AÇS