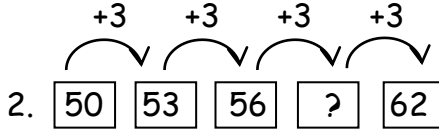


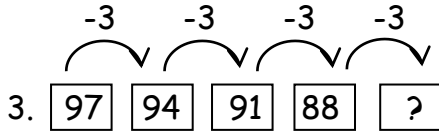
Yukarıda verilenlere göre ? yerine hangi sayı gelmelidir?

- A) 11 B) 13 C) 14



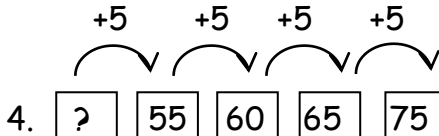
Yukarıda verilenlere göre ? yerine hangi sayı gelmelidir?

- A) 59 B) 60 C) 61



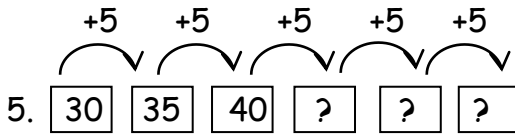
Yukarıda verilenlere göre ? yerine hangi sayı gelmelidir?

- A) 87 B) 86 C) 85



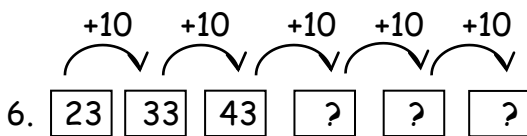
Yukarıda verilenlere göre ? yerine hangi sayı gelmelidir?

- A) 45 B) 50 C) 65



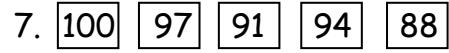
Saymaya aşağıdakilerden hangisinde doğru devam edilmiştir?

- A) 45-50-55 B) 55-60-65 C) 60-65-70



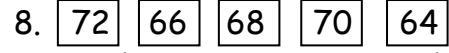
Saymaya aşağıdakilerden hangisinde doğru devam edilmiştir?

- A) 53-63-83 B) 53-63-73 C) 73-83-93



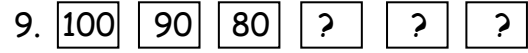
Yukarıdaki ritmik saymanın doğru olması için hangi sayılar yer değiştirmeli?

- A) 91-94 B) 97-91 C) 94-88



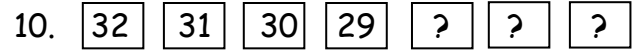
Yukarıdaki ritmik saymanın doğru olması için hangi sayılar yer değiştirmelidir?

- A) 66-64 B) 68-66 C) 70-66



Boş bırakılan yerlere hangi sayılar yazılmalıdır?

- A) 60-50-40 B) 70-60-50 C) 40-30-20



Boş bırakılan yerlere hangi sayılar yazılmalıdır?

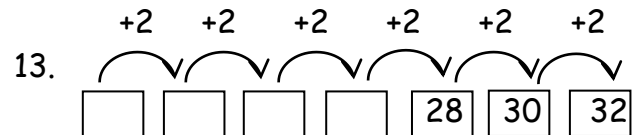
- A) 30-31-32 B) 27-26-25 C) 26-25-24

11. 40'dan geriye doğru 3'er 3'er sayarken hangisini **söylemeyiz**?

- A) 37 B) 31 C) 29

12. 10'dan ileriye doğru 2'şer 2'şer sayarken aşağıdakilerden hangisini **söyleriz**?

- A) 15 B) 22 C) 33



Boş bırakılan yerlere sırasıyla hangi sayılar yazılmalıdır?

- A) 22-24-26-28
B) 20-22-24-26
C) 18-20-22-24