

Adı:.....
Soyadı:.....








ETKİNLİK

-1-

1. Sınıf Matematik

" sayılar etkinliği "

Aşağıdaki papatyalarda kaç yaprak varsa altına yazınız.



Aşağıdaki başta belirtilen sayı kadar elma çiziniz.

SALİH ÖZENÇ ETKİNLİKLERİ

5	
3	
8	
2	
6	
4	
7	
1	
9	
10	

Adı:.....
Soyadı:.....

ETKİNLİK

-1-



1. Sınıf Matematik

" sayılar etkinliği "

Aşağıdaki sayılara karşılık gelen çoklukları eşleştiriniz.

