













## 1. Sınıf Matematik Paralarla Alışveriş Çalışması

Burcu, Can, Yeşim, Sena, İlknur ve Hilal ile birlikte alışveriş yapmışlar. Ancak paralarını öderlerken karıştırmışlar. Siz bu karışıklığı örnekteki gibi düzeltin.

|                 |   |  |
|-----------------|---|--|
| Burcu<br>6 TL   |    |    |
| Can<br>8 TL     |    |    |
| Yeşim<br>7 TL   |   |   |
| Sena<br>16 TL   |  |  |
| İlknur<br>35 TL |  |  |
| Hilal<br>12 TL  |  |  |