























## 1. Sınıf Matematik Para Problemleri

Aşağıda alınan ürünler ile ilgili soruları çözünüz.

					
1 TL	3 TL	2 TL	6 TL	4 TL	5 TL

					
2 TL	10 TL	7 TL	8 TL	3 TL	7 TL

1. Sibel satın aldıkları için ne kadar ödemelidir? <u>Çözüm:</u>	 5 Adet
2. Eren satın aldıkları için ne kadar ödemelidir? <u>Çözüm:</u>	 2 Adet
3. Semih satın aldıkları için ne kadar ödemelidir? <u>Çözüm:</u>	 3 Adet
4. Mustafa satın aldıkları için ne kadar ödemelidir? <u>Çözüm:</u>	 5 Adet

5. İsmail satın aldıkları için ne kadar ödemelidir? <u>Çözüm:</u>	 3 Adet
6. Sakin satın aldıkları için ne kadar ödemelidir? <u>Çözüm:</u>	 3 kg
7. Alperen satın aldıkları için ne kadar ödemelidir? <u>Çözüm:</u>	 3 kg
8. Burcu'nun cebinde 20 TL vardır. Satın aldıkları için ne kadar ödemelidir? Kaç TL parası eksik kalır? <u>Çözüm:</u>	 3 Adet
9. Can cebinde 6 TL vardır. Satın aldıkları için ne kadar ödemelidir? Kaç TL parası eksik kalır? <u>Çözüm:</u>	 2 kg
10. Yeşim'in cebinde 10 TL vardır. Satın aldıkları için ne kadar ödemelidir? Kaç TL parası eksik kalır? <u>Çözüm:</u>	 4 Adet