

1. SINIF 5. DEĞERLEME SINAVI



ADI SOYADI

SINIFI: 1/.....

NO :

HAZIRLAYAN
SALİH ÖZENÇ

TÜRKÇE


1) Aşağıdaki hayvanlardan hangisinin ismi altı harflidir?



A)



B)



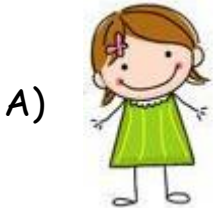
C)

Babam bana bayramda giymem için aldı.

2) Yukarıdaki cümle aşağıdaki hangi kelime ile tamamlanırsa **anamlı bir cümle olur?**

A) Ayakkabı B) Oyuncak C) Kalem

3) Aşağıdaki çocuklardan hangisinin cümlesinde **yazım yanlış**ı vardır?



A)

Arda, Adana'ya gitmeye karar verdi.



B)


Esra'nın eline sıcak çay döküldü.



C)


betül ödevini erken bitirdi.

4) Aşağıdaki resimlerden hangisinin ismi hecelerine **doğru** ayrılmıştır?



por tak al

A



şef ta li

B



çil ek

C

5) Aşağıdaki hayvanlardan hangisinin ismi sözlükte en **önce** gelir?



A)



B)



C)

Hediye

Vatan

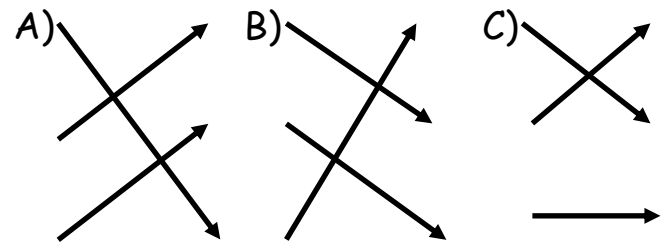
Temiz

Armağan

Yurt




Pak

6) Yukarıdaki kelimeler eş anlamlıları ile aşağıdaki hangi şekilde eşleştirilir?



Eda sınıfın en çalışkan öğrencisidir.

7) Öğretmen yukarıdaki altı çizili kelimenin zıt anlamlısı olan kelimeyi sormuştur. Buna göre hangi öğrenci **doğru** cevabı vermiştir?

- A)  ⇒ Başarılı
- B)  ⇒ Tembel
- C)  ⇒ Bilgili

elini

Melis

öptü

dedesinin

8) Yukarıdaki karışık olarak verilmiş kelimelerin düz cümle hali hangisidir?

- A) Melis dedesinin elini öptü.
B) Melis dedesinin öptü elini.
C) Dedesinin elini öptü Melis.



9) Aşağıdakilerden hangisi yukarıdaki resme ait **olamaz**?

- A) Hava sıcak olduğu için çocuklar ince elbiseler giymişler.
B) Ağaçlar yapraklarını dökmüşler.
C) Çocuklar rüzgarda uçurtma uçuruyorlar.

10) "Ayşegül, salıncakta sallanmaktan korkan; ama ip atlamayı çok seven, hep gülümseyen bir çocuktur."

Buna göre aşağıdaki çocuklardan hangisi Ayşegül **olabilir**?



A)



B)



C)

11) "Canan kalın camlı, mavi saplı bir gözlük aldı."

Aşağıdakilerden hangisi Canan'ın gözlüğünün özelliği değildir?

- A) Renkli camlı B) Mavi saplı
C) Kalın camlı

HAFTA SONU

Yiğit yemek yemeyi çok sevmeyen zayıf yapılı bir çocuktur. Bu sabah sınıf arkadaşı ile evlerinin karşısındaki parkta akşama kadar oyuncak arabaları ile oynayıp, kaydırakta kaydılar. Akşam eve gittiğinde yemeği yer yemez hemen uyuya kaldı.

(12.,13.,14.,15. Soruları yukarıdaki parçaya göre cevaplayınız.)

12) Yiğit arkadaşı ile nerede oyun oynadı?

- A) Kendi odasında.
B) Evlerinin karşısındaki parkta.
C) Bahçelerinde.


13) Aşağıdakilerden hangisi Yiğit'e ait bir özellik değildir?

- A) Yemek yemeyi sevmez.
B) Zayıf yapılı bir çocuktur.
C) Arkadaşları ile anlaşamayan biri.


14) Yiğit parka kim ile gitti?

- A) Sınıf arkadaşı ile
B) Tek başına
C) Annesi ile

15) Aşağıdaki resimlerden hangisi okuma parçasına ait olamaz?

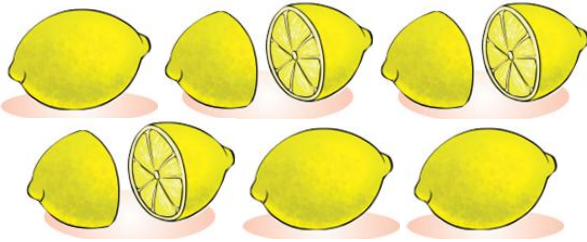


MATEMATİK



1) Yukarıda Ali Baba'nın çiftliğindeki bazı hayvanlar verilmiştir. Buna göre aşağıdaki bilgilerden hangisi **yanlıştır**?

- A) Koyun zürafadan daha kısadır.
- B) Zürafa kazdan daha uzundur.
- C) Kaz koyundan daha uzundur.



2) Yukarıdaki limonlardan kaç tane yarım limon elde edebiliriz?

- A) 9
- B) 12
- C) 6

$$\text{Tomato} + \text{Tomato} + \text{Tomato} = 12$$

$$\text{Strawberry} + \text{Strawberry} = 12$$

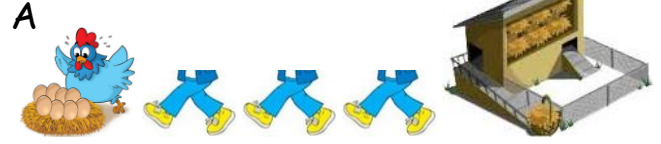
3) Yukarıdaki verilene göre

$$\text{Strawberry} + \text{Tomato} = \text{toplamı kaç eder?}$$


- A) 8
- B) 9
- C) 10

4) Aşağıdaki çocuklardan hangisi uzunluğu **yanlış** ölçmüştür?

Ali kümeden tavuğun yanına altı adım atmış.



Ece bisiklete altı ayak atarak ulaşmış.



Akif çitleri beş kulaç ölçmüştür.

5) Aşağıdaki çocuklardan hangisi en uzundur?



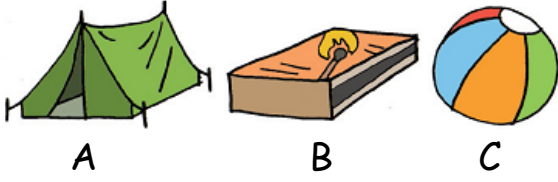
Ahmet
A)

Mehmet
B)

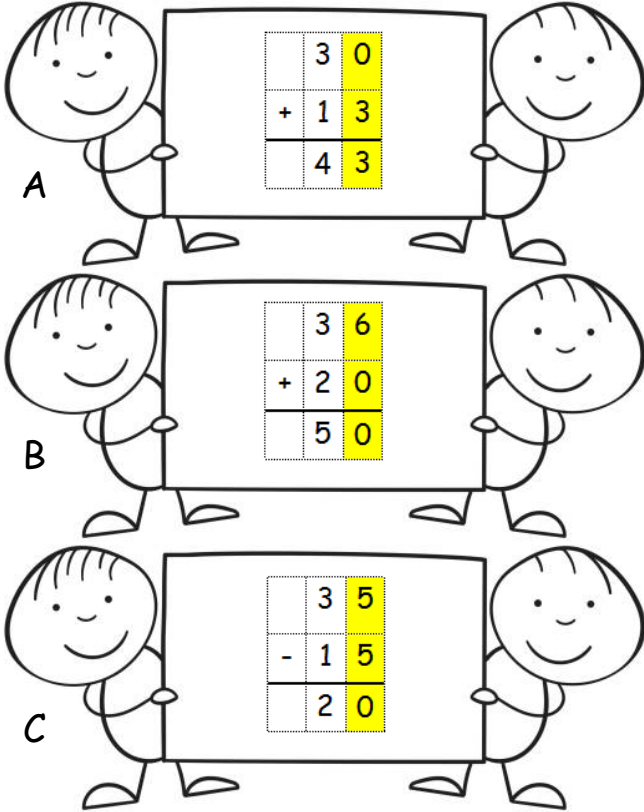
Salih
C)

1. SINIF 5. DENEME SINAVI

6) Aşağıdaki geometrik şekillerden hangisinin köşesi yoktur?



7) Aşağıdaki işlemlerden hangisinin sonucu yanlıştır?



8) Arda yukarıdaki saatte yola çıkıp 3 saat sonra gideceği yere varmıştır. Arda gideceği yere vardığında saat kaçtır?

A) 10:30 B) 07:30 C) 10:00



9) Mine yukarıda hayalindeki ev resmini yaparken hangi geometrik şekli kullanmamıştır?

A) Üçgen B) Kare C) Küre



10) Yukarıdaki örüntünün kuralını aşağıdaki hangi öğrenci doğru bilmiştir?

1 üçgen
2 kare
2 çember



Okan
A)

1 üçgen
1 kare
2 çember



Onur
B)

1 üçgen
1 kare
1 çember



Salih
C)

8Lira



5Lira



.....



11) Burcu yukarıdaki oyuncakları alıp 20 Lira verdiğine göre helikopter kaç liradır?

A) 13 B) 6 C) 7

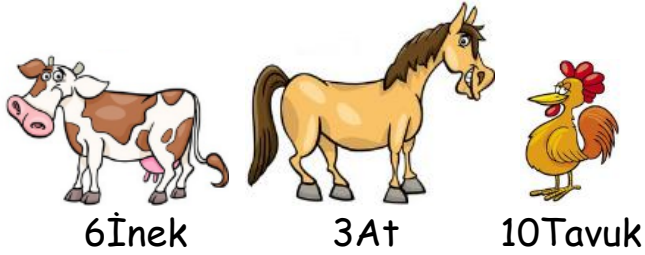
1. SINIF 5. DENEME SINAVI

12) Aşağıdaki çocuklardan hangisi 17 lira olan oyuncak ayıyı almak için gerekli parayı **doğru** vermiştir?


SEMİHA					
A  17 lira	X		X	X	

SARE					
B  17 lira	X	X	X	X	

SALİH					
C  17 lira	X	X	X	X	X



13) Çiftçi Ömer'in hayvan sayısı yukarıda verilmiştir. Buna göre Ömer'in toplam kaç hayvanı vardır?
A) 9 B) 13 C) 19



14) Beyza'nın yediği ve kalan elmaları yukarıda verilmiştir. Buna göre Beyza başlangıçta toplam kaç elma toplamıştır?
A) 17 B) 12 C) 5



Handan'dan
9 elma faz
la topladım

Semiha'dan
5 elma daha
az topladım.



Handan



Semiha



Melis

15) Yukarıdaki verilere göre Melis kaç tane elma toplamıştır?

A) 15

B) 10


C) 11

HAYAT BİLGİSİ

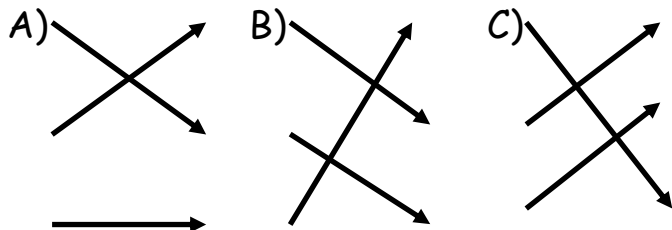


1) Yukarıdaki yuvada yaşayan hayvanlar hangi seçenekte **doğru** olarak verilmiştir?

- A) Balık - Tavuk - Hindi
- B) Tavuk - Hindi - Ördek
- C) Tavuk - Hindi - Tilki



2) Yukarıdaki hayvanlar ve yedikleri besinler aşağıdaki hangi şekilde eşleştirilir?




3) "Hülya arabası ile yolda giderken kaza yapan bir aracın içinde sıkışan birini görünce.....numarayı aradı." Hülya hangi numarayı aramıştır?

- A)
- B)
- C)

4) Aşağıdaki hangi bayramda büyüklerimiz elini **öpmeyiz**?

- A) Ramazan Bayramı
- B) Kurban Bayramı
- C) Cumhuriyet Bayramı

5) Aşağıdakilerden hangisi suda yaşayan bir hayvandır?



1. SINIF 5. DENEME SINAVI

Atatürk 'te doğmuş.
..... sarayında hayata
gözlerini kapamıştır.

6) Yukarıdaki boşluklara aşağıdakilerden hangileri yazılmalıdır?

A) Anıtkabir Dolmabahçe

B) Selanik Anıtkabir

C) Selanik Dolmabahçe

7) Atatürk Bandırma adlı gemi ile aşağıdaki hangi şehrimize gelmiştir?
A) Ankara B) Samsun C) İstanbul



8) Yukarıdaki resim ile ilgili hangi ifade söylenemez?

- A) Çocuk bitkileri seven biridir.
B) Çocuk fidanı koparmaya gelmiş.
C) Çocuk fidana su vermeye gelmiş.

1)



Güneş

2)



Gübre


3)



Su

9) Bitki yetiştirirken yukarıdakilerden hangilerini kullanırsınız?

- A) 1 - 2 B) 2 - 3 C) 1 - 2 - 3



10) Yukarıda bir bitkinin yetiştirme aşamaları verilmiştir. Doğru sıralama aşağıdakilerden hangisidir?

- A) 1 - 2 - 3 - 4
B) 4 - 2 - 1 - 3
C) 4 - 1 - 2 - 3

"BAŞARILAR DİLERİM"