



7. DENEME SINAVI

TÜRKÇE BÖLÜMÜ



Güzel ülkem Türkiye’de dört mevsim var. Bunlar:

Sonbahar, Kış, İlkbahar, Yaz.

Sonbaharda ağaçların yaprakları sararır ve dökülür. Okullar da Sonbaharda açılır. Kışın hava çok soğuk olur. Yağmur yağar, kar yağar. İlkbaharda ağaçlar çiçek açar, kuşlar cıvıldaşır. Yazın ise sıcak olur.

İlk 3 soruyu parçaya göre cevaplayınız.

1) Hangi mevsimde ağaçlar çiçek açıyor?

- a) Sonbahar
- b) Yaz
- c) İlkbahar

2) Okullar hangi mevsimde açılır ?

- a) Sonbahar
- b) Yaz
- c) İlkbahar

3) Aşağıdakilerden hangisi bu metnin başlığı olabilir ?

- a) Mevsimler
- b) Dedemin Madalyası
- c) Yağmur

4) Aşağıdaki cümlelerden hangisinde topluluk ismi vardır ?

- a) Bisikletimi dün tamir ettim.
- b) Haftaya okul açılacak.
- c) Kitaplarımı ciltledim.

5) Aşağıdaki cümlelerin hangisinde sonda verilen noktalama işareti yanlıştır ?


- a) Sınıfa gelmeyen kim (?)
- b) Bahçeden çiçekleri topladım (.)
- c) Parka gidelim mi (.)

6) Aşağıdaki kelimelerden hangisi topluluk ismi değildir ?

- a) Millet
- b) Ağaçlar
- c) Sürü

7) Aşağıda verilen kelimelerden hangisinin harf sayısı en fazladır ?

- a) Bataklık
- b) Fenerbahçe
- c) Salatalık



8) Yukarıdaki resme göre aşağıdakilerden hangisi söylenemez ?

- a) Denizdeki çocuklardan ikisi top oynuyorlar.
- b) Kumsaldaki çocuklar , kumla oynuyorlar.
- c) Kumsalda , basketbol oynayan çocuklar var.

9) Aşağıdaki cümlelerden hangisinde yazım yanlışı yapılmıştır ?

- a) ablam neden gelmedi ?
- b) Buraya yeni bir park yapılacak.
- c) Yağmur iyice hızlandı.

10)

Ben vatanım için canımı seve seve veririm.

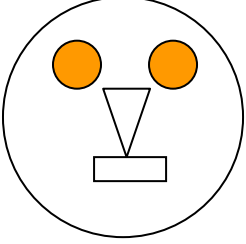
Yukarıdaki cümlede altı çizili kelimenin yerine hangi kelime gelirse cümlenin anlamı değişmez?

- a) Mektep
- b) Yurt
- c) Bayrak

MATEMATİK BÖLÜMÜ

1) 4 birlik 3 onluktan oluşan sayının 4 fazlası kaçtır ?

- a) 47 b) 38 c) 43



2) Yukarıdaki şekilde hangisinin örneği yoktur?

- a) Üçgen
b) Kare
c) Çember

3) 6 bütün elmadan kaç yarım elma çıkar ?

- a) 9 b) 12 c) 10

4) Bir tırın 10 tekeri varsa , 3 tırın kaç tekeri olur ?

- a) 30 b) 13 c) 14



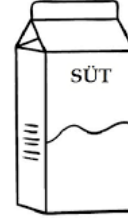
8 TL



5TL



4 TL



3 TL



2TL

5. ve 6. soruları yukarıdaki bilgilere göre cevaplayınız.

5) Beyza , marketten bir diş macunu ve bir diş fırçası alırsa ne kadar ödeme yapması gerekir ?

- a) 3 TL b) 13 TL c) 14 TL

6) Markete 12 TL para ile giren Berat Efe , bir çikolata ve bir de süt alırsa geriye kaç lira parası kalır ?

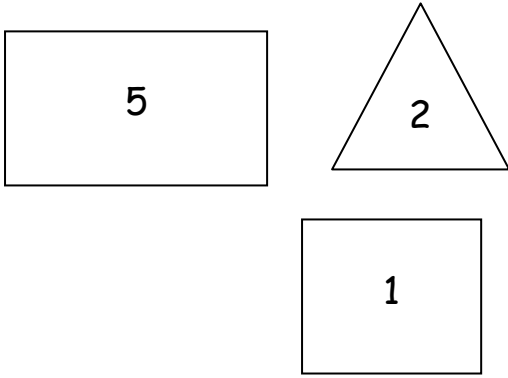
- a) 9 TL b) 25 TL c) 15 TL

7) Ali , 12 yaşındadır. Ablası , Ali'den 3 yaş büyük olduğuna göre her ikisinin yaşları toplamı kaçtır ?

- a) 15 b) 9 c) 27

8) Sepette 45 tane elma vardı. 25 tanesini sattım. Sepette kaç tane elma kaldı?

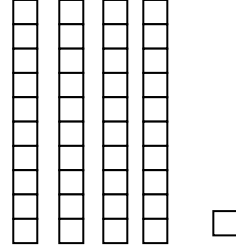
- a) 20 b) 19 c) 60



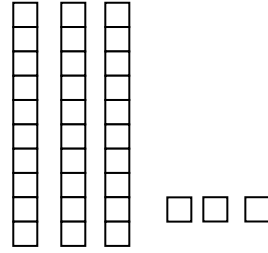
9) Yukarıdaki geometrik şekillerden dikdörtgen olanın içinde hangi sayı yazmaktadır ?

- a) 1
b) 5
c) 2

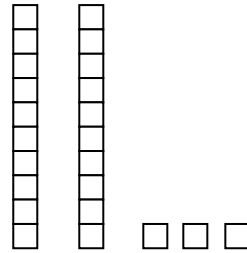
10) Aşağıda onluk taban blokları gösterilen sayılardan hangisi yanlıştır ?



- a) 41




- b) 33



- c) 32

HAYAT BİLGİSİ BÖLÜMÜ

1) Aşağıdaki resimlerden hangisi il (şehir) yerleşimini gösterir ?



2) Aşağıdaki şehirlerden hangisi ülkemiz Türkiye Cumhuriyeti'nin yönetim merkezidir ?

- a) İstanbul
- b) Ankara
- c) İzmir

3) Aşağıdakilerden hangisi secimle göreve gelmez ?

- a) Muhtar
- b) Vali
- c) Belediye Başkanı

4) İnsanlar aşağıdaki durumlardan hangisinde ülkelerinden göç etmezler ?

- a) Bayram kutlamak için
- b) Eğitim almak için
- c) Ülkesinde savaş çıktığı için

5) Aşağıdakilerden hangisi değişik ülkelerde yaşayan insanların farklılıklarından olamaz ?

- a) Konuştukları diller
- b) Boyları
- c) Yedikleri yemekler



6) Yukarıda görülen böyle bir durumda hangi acil durum numarasını aramalıyız ?

a) 155 b) 177 c) 112

7) Aşağıda verilen bilgilerden hangisi doğrudur ?

- a) Farklı kültürlerle saygılı ve hoşgörülü olmalıyız.
- b) Farklı dinlere inanan insanlarla dostluk kurmamalıyız.
- c) Farklı renklerden insanlarla arkadaşlık kurmamalıyız.

8) Aşağıda verilen bilgilerden hangisi yanlıştır ?

- a) Bayrağımız bağımsızlığımızın sembolüdür.
- b) İstiklal Marşımız , Mehmet Akif Ersoy tarafından yazılmıştır.
- c) Sınıfta yer alan şeref köşesinde İstiklal Marşımız yoktur.

9) Aşağıda Türk Bayrağı ile ilgili verilen bilgilerden hangisi yanlıştır ?

- a) Bayrağımızın renkleri kırmızı ve beyazdır.
- b) Bayrağımızda ay ve güneş sembolleri bulunur.
- c) Bayrağımız kırmızı rengini , vatanımız için canlarını seve seve veren şehitlerimizden alır.

10) Aşağıdakilerden hangisi bitkisel bir besindir ?

- a) Peynir
- b) Ekmek
- c) Tereyağ

VATANINI EN ÇOK SEVEN
GÖREVİNİ EN İYİ YAPANDIR.
BAŞARILAR DİLERİM .