



İLKOKULU 1-A SINIFI 3. DENEME SINAVI

TÜRKÇE BÖLÜMÜ



OYUNCAK BEBEKLER

Elvan'ın 7 oyuncak bebeği vardı. Elvan oyuncak bebeklerine tokalar takar. Halasına oturmaya giderken bebeklerini de götürdü. Halasının kızı Songül'ün de 5 oyuncak bebeği vardı. Birlikte bebeklerle oynadılar.

İlk 5 soruyu yukarıdaki metne göre cevaplayınız.

1- Elvan'ın kaç oyuncak bebeği vardı?

a) 5 b) 7 c) 8

2- Kimin bebeği daha fazladır?

a) Elvan'ın b) Suna'nın
c) Songül'ün

3- Elvan bebeklerine neler takıyor?

a) şapka b) kolye c) toka

4- Elvan kimlere gezmeye gidiyor?

a) dedesine b) eltisine
c) halasına

5- Aşağıdakilerden hangisi bu metne uygun bir başlık olamaz ?

a) Elvan ve Bebekleri
b) Elvan ile Songül
c) Elvan Hayvanat Bahçesinde

6- Aşağıdaki kelimelerden hangisi yanlış yazılmıştır ?

a) Mustafanın
b) Eslem'in
c) Nevşehir' de

7- Aşağıdaki cümlede () gösterilen yere hangi noktalama işareti gelmelidir ?

Babam bana () ablama ve kardeşime hediye aldı.

- a) , virgül
- b) . nokta
- c) ! ünlem işareti

8- Aşağıdaki cümlelerin hangisinde yanlışlık yapılmıştır ?

- a) Dayım bana kocaman bir pasta aldı .
- b) kemal ve ben maça gideceğiz.
- c) Haftaya sınav var.

9- Bu sınav benim için çok kolay olacak .

Yukarıdaki cümlede altı çizili olan kelimenin zıt anlamısı aşağıdakilerden hangisidir ?

- a) Başarılı b) Zor c) Tembel



10 - Aşağıdaki cümlelerden hangisi bu resimde anlatılmamaktadır ?

- a) Fare , aslana yardım ediyor.
- b) Sincaplar da aslana yardım etmeye geliyorlar.
- c) Aslan , tuzağa yakalanmış.

MATEMATİK BÖLÜMÜ

20	18	16	?	12
----	----	----	---	----

1- Yukarıdaki ritmik saymada ? işaretli yere hangi rakam gelmelidir ?

- a) 15 b) 14 c) 13

2- Aşağıdaki toplama işleminin sonucunu bulunuz .

$$8 + 2 + 8 = \boxed{}$$

- a) 10 b) 18 c) 16

3- Aşağıdaki toplama işlemlerinden hangisinin sonucu 20 olamaz ?

- a) $14 + 6$
b) $15 + 5$
c) $19 + 2$



4- Yukarıdaki resme göre yarışmayı kim 3. olarak tamamlamıştır ?

- a) Alper b) Atakan c) Görkem

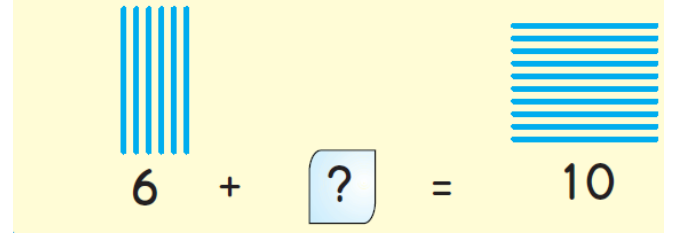


5- Minibüs , duraktan önce 3 yolcu ile hareket ediyor. Önce 4 yolcu , sonra 3 yolcu daha biniyor. Minibüste toplam kaç yolcu olmuştur ?

- a) 7 b) 9 c) 10

6- 5 kişilik bir aileydik. Bir ay önce ikiz kardeşlerim oldu. Şimdi ailem kaç kişi oldu ?

- a) 7 b) 9 c) 6



7- Yukarıdaki işlemde ? yerine hangi sayı gelmelidir ?

- a) 16 b) 4 c) 3

$5 + 5$	$6 + 4$	$4 + 4$	$3 + 9$
$3 + 7$	$2 + 8$	$4 + 5$	$6 + 6$

8- Yukarıdaki toplama işlemlerinin kaçının toplamı 10 olur ?

- a) 3 b) 4 c) 5



9 - Annem , bir tepsi böreği 16 eş parçaya ayırdı. 6 eş parçasını yedik . Geriye kaç eş parça börek kaldı ?


- a) 22 b) 10 c) 11



10 - Elimde 6 balonum vardı . 2 tanesi uçtu. Geriye kaç balonum kaldı ?

- a) 4 b) 5 c) 8

HAYAT BİLGİSİ BÖLÜMÜ



1- Yukarıda resmi verilen aile hakkında hangisi söylenilebilir ?

- a) Bu ailede kimse birbirine yardım etmiyor.
b) Bu ailede tüm işleri anne yapıyor.
c) Bu aile de yardımlaşma vardır.

2 - Aşağıda verilen acil telefon numaraları eşleştirmelerinden hangi yanlıştır ?

- a)  156


- b)  112

- c)  155

3- Hangisinin trafikte önceliği vardır ?



4- Aşağıdaki besinlerden hangisi sağlıklı değildir ?



5- Aşağıdaki besinlerden hangisi bitkisel gıdadır ?



6- Aşağıdaki davranışlardan hangisi doğrudur ?





7 - Esmâ , okul çıkışında tanımadığı biri ile karşılaşmıştır .Bu kişi Esmâ'ya babasını tanıdığını söylemiştir. Esmâ , hangi davranışı yaparsa doğru bir davranış yapmış olur ?

- a) Esmâ , teklifi kabul etmemelidir.
- b) Esmâ , teklifi kabul edip adamlarla birlikte gitmelidir.
- c) Esmâ , teklifi kabul edip , adamdan şeker de istemelidir.



8- Ali Bey , telefonu ile yukarıdaki numarayı aradığına göre hangi acil durum yaşanmaktadır ?

- a) Yangın
- b) Doğalgaz Kaçağı
- c) Hırsızlık

9- Aşağıdaki davranışlardan hangisini yapmak sağlığınıza zarar verir ?



10 - Aşağıdakilerden hangisini kişisel bakım için kullanmayız ?

