

1. SINIF 2. DENEEME SINAVI



ADI SOYADI

SINIFI: 1/.....


NO :

HAZIRLAYAN
SALİH ÖZENÇ

TÜRKÇE

1) Aşağıdaki hayvanların isimlerinden hangisi hecelerine doğru ayrılmıştır?


A)




B)



C)



2) "Esra şarkı söylemeyi çok seven bir çocuktur." Buna göre hangisi Esra olabilir?



3) "Özel isimlere gelen ekler kesme işareti ile ayrılır." Buna göre hangisi doğru yazılmıştır?

A)

İlknurun

B)

İlknur'un

C)

İlknu'run

4) Aşağıdaki hayvanlardan hangisinin 3. Harfi farklıdır?



5) "Yücel çantasının izinsiz olarak açılıp eşyalarının dağıtıldığını görünce çok sinirlendi." Buna göre hangisi Yücel'in yüz ifadesidir?



6) Aşağıdaki resimlerden hangisinin ismi doğru yazılmıştır?

A



B



C





- Cümleye büyük harf ile başlanır.
- Özel isimler büyük harf ile başlar.

7)

Yukarıdaki bilgiye göre aşağıdaki cümlelerden hangisi yanlış yazılmıştır?

- A) Yağmur yağınca Ömer ıslandı.
- B) Buket bakkaldan iki ekmek al.
- C) Sarışın semiha saçını kesmiş.



8)

Aşağıdaki cümlelerden hangisi bu resme ait olamaz?

- A) Tavşan elinde makasla kumaşı kesiyor.
- B) Kaplumbağa elinde ayakkabılar dışarı çıkıyor.
- C) Kaplumbağa dikiş makinesine oturmuş.

9) "Melis anneannesinin kendisine masal okumasını çok seviyor." Buna göre aşağıdaki resimlerden hangisi Melis'e aittir?



A)



B)



C)

Ö-E-K-D-R

10)

Yukarıdaki harfler ile aşağıdaki kelimelerden hangisi yazılabilir?

- A) BÖREK
- B) DİREK
- C) ÖRDEK

11) "Güzel bir hafta sonu Burak ve arkadaşları parka oynamaya gitti. Burak yaylı ata bindi, Ece ve Esra ise kaydırakta kaydılar. Çiçekler açmış tabiat şarkı söylüyordu."

Hangi resim bu parçaya ait olabilir?


A)



B)



C)



KARNE HEDİYESİ

Salih 1. sınıfı bitirmenin sevinci ile eve gelmişti. Karnesi çok güzeldi. Amcası karne hediyesi olarak ona kırmızı bir bisiklet almıştı. Bütün yaz onu sürmüş ve çok eğlenmişti. Babası da onu karne hediyesi olarak lunaparka götürmüştü. Salih orda en çok çarpışan arabaya binmeyi sevmişti.

(12,13,14,15. Soruları yukarıdaki parçaya göre cevaplayınız.)

12) Amcası Salih'e karne hediyesi olarak ne almıştı?

- A) Tablet bilgisayar
- B) Kumandalı araba
- C) Bisiklet

13) Salih'in amcasının aldığı hediye ne renktir?

- A) Sarı
- B) Kırmızı
- C) Yeşil

14) Babası Salih'i karne hediyesi olarak nereye götürmüştür?

- A) Lunapark
- B) Deniz kenarına
- C) Köye

15) Salih lunaparkta en çok neye binmeyi sevmişti?

- A) Atlı karıncaya
- B) Dönme dolap
- C) Çarpışan araba

MATEMATİK

$$\begin{array}{r} 7 \\ + \square \\ \hline 13 \end{array}$$


1) Yukarıdaki toplama işleminde bilinmeyen sayı kaçtır?

- A) 20 B) 6 C) 5



2) Yukarıdaki futbol oynayan çocukların arasına 8 çocuk daha katılırsa oynayan çocuk sayısı kaç olur?

- A) 3 B) 11 C) 13



3) Çoban Ahmet yukarıdaki koyunlarından 5 tanesini sattı geriye kaç koyunu kalır?

- A) 13 B) 3 C) 10



4)

Yukarıdaki durumları sıraya koyarsak, sıralama nasıl olmalıdır?

- A) 2-4-3-1 B) 1-2-3-4 C) 2-3-4-1




5) Yukarıdaki çamaşırlar belli bir kurala göre numaralanmıştır. Buna göre pantolona kaç yazılmalıdır?

- A) 13 B) 14 C) 15

18

6) Yukarıda gösterilen sayının okunuşu aşağıdakilerden hangisidir?

- A) Sekiz B) Bir sekiz C) On sekiz



7) Yukarıdaki hayvanların büyükten küçüğe sıralanışı hangisidir?

- A) uğur böceği - tavuk - fil
- B) fil - tavuk - uğur böceği
- C) fil - uğur böceği - tavuk



8) Aşağıdakilerden hangisi doğrudur?

- A) Yumurtalar sepetin içindedir.
- B) Yumurtalar sepetin yanındadır.
- C) Yumurtalar sepetin dışındadır.



9) Beyza süslediği yukarıdaki yumurtalardan 6 tanesini yolda düşürdü ve kırıldı. Geriye kaç yumurta kalmıştır?

- A) 6
- B) 9
- C) 12



10) Ebru ile Akif'in aklından tuttıkları sayıların toplamı kaç eder?

- A) 18
- B) 7
- C) 19

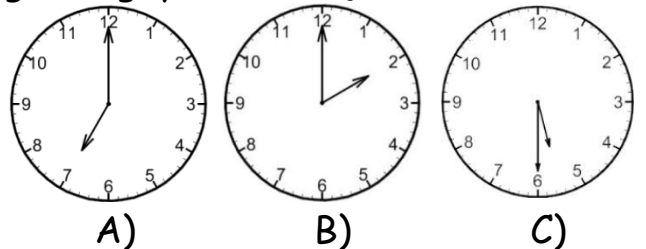
Perşembe	Cuma	Pazar
----------	------	-------	-------

11) Yukarıdaki noktalı yere hangisi yazılmalıdır?

- A) Pazartesi
- B) Çarşamba
- C) Cumartesi



12) Melis yukarıdaki saatte yola çıkıp üç saat sonra gideceği yere varmıştır. Buna göre Melis saat kaçta gideceği yere varmıştır?




$$\begin{array}{r} 12 \\ - 4 \\ \hline \end{array}$$

13) Yukarıdaki çıkarma işleminin sonucu kaçtır?

- A) 16 B) 8 C) 10

14) Aşağıdaki kalemlerden en kısa olanı işaretleyiniz?



$$\begin{array}{r} 13 \\ + 5 \\ \hline \end{array}$$

15) Yukarıdaki toplama işleminin sonucu kaçtır?

- A) 8 B) 18 C) 15

HAYAT BİLGİSİ

1) Aşağıdakilerden hangisi güvenli geçiş yerlerinden birisi değildir?



A)



B)



C)

2) Aşağıdaki çocuklardan hangisi kibar bir davranış örneği göstermiştir?



A)




B)



C)

3) "Üç arkadaş lokantada yemek siparişi vermiştir." Hangisi sağlıklı beslenmektedir?



4) Aşağıdaki çocuklardan hangileri yanlış bir davranış örneği göstermektedirler?




A)

B)

C)

5) Aşağıdakilerden hangisi bir öğrencinin sınıfta bulundurması gereken eşyalardan değildir?

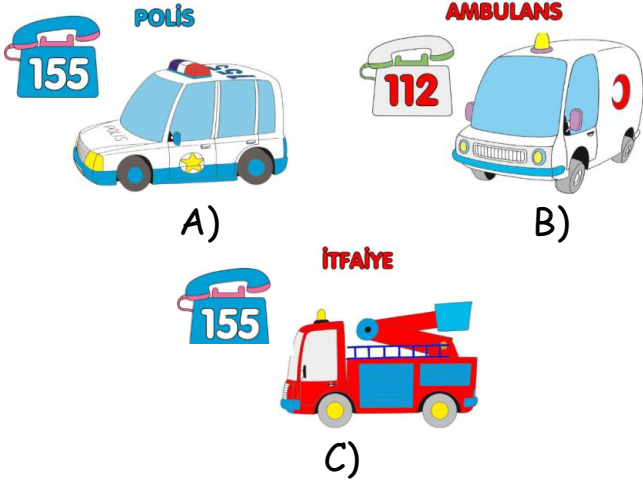


A)

B)

C)

6) Aşağıdaki acil durum numaralarından hangisi yanlış verilmiştir?



A)

B)

C)

7) Hangisi kişisel bakımımız için kullandığımız eşyalarımızdandır.



A)

B)

C)

8) Aşağıdaki durumlardan hangisini gün içinde en son yaparız?



A)

B)



C)

9) "Trafik ışıklarında bekleyen arabalar renkli ışık yanınca hareket ederler." Bu bilgiye göre boşluğa hangisi yazılmalıdır?

Sarı

Kırmızı

A)

B)

Yeşil

C)

10) Bayramda uzaktaki bir akrabamızın sesini duymak için hangisini kullanırız?



A)

B)

C)