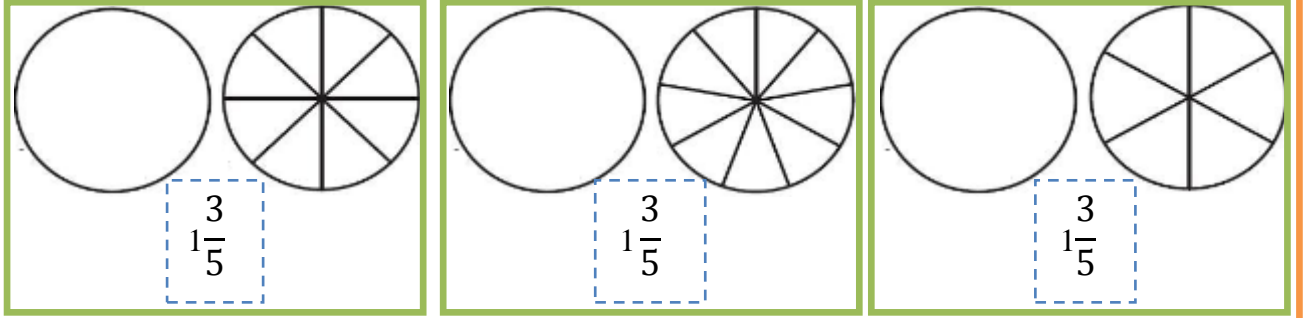
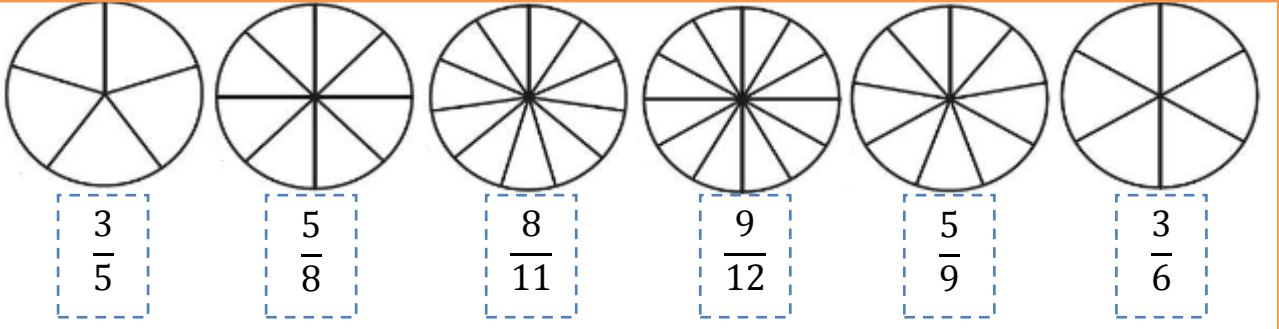


Adı:.....
Soyadı:.....

4. SINIF MATEMATİK
"Kesirler Değerlendirme"

ETKİNLİK
-1-



Yukarıda verilen kesirleri boyayarak gösteriniz.

Aşağıdaki kesirlerin okunuşlarını yazınız.

$$\frac{5}{7}$$

$$\frac{11}{13}$$

$$5\frac{4}{8}$$

$$4\frac{5}{7}$$

$$3\frac{4}{9}$$

$$6\frac{10}{12}$$

$$\frac{5}{6}$$

$$2\frac{2}{4}$$

Aşağıdaki kesirleri kendi gruplarına yazınız.

Basit kesirler:

Bileşik kesir:

Tam sayılı kesir:

$$5\frac{4}{8}$$

$$\frac{4}{8}$$

$$\frac{9}{8}$$

$$3\frac{4}{8}$$

$$\frac{13}{8}$$

$$5\frac{4}{5}$$

$$\frac{4}{3}$$

$$1\frac{4}{7}$$

$$\frac{3}{9}$$

$$\frac{14}{11}$$

$$2\frac{4}{5}$$

$$\frac{6}{14}$$

$$6\frac{4}{7}$$

$$\frac{8}{4}$$

$$7\frac{3}{10}$$

$$\frac{13}{17}$$

Adı:.....
Soyadı:.....

4. SINIF MATEMATİK
"Kesirler Değerlendirme"

ETKİNLİK
-1-

Aşağıdaki kesirleri sayı doğrusunda gösteriniz.

$$2\frac{4}{5}$$



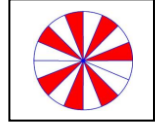
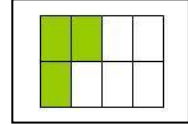
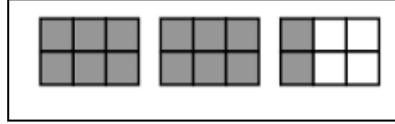
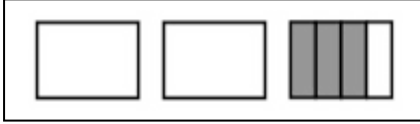
$$\frac{4}{6}$$



$$\frac{5}{4}$$



Şekille verilmiş kesirleri rakamla yazınız.



Aşağıdaki sayı doğrusunda verilen şekillerin hangi kesre denk geldiğini yazınız.

