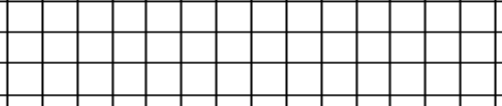

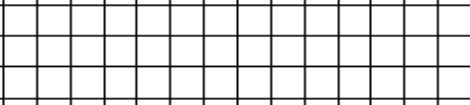






A blank 10x10 grid for graphing. The grid consists of 10 columns and 10 rows of squares, totaling 100 squares. It is intended for plotting a graph of a function.

The image shows a large rectangular grid consisting of 10 columns and 20 rows. Within this large grid, there is a smaller rectangular grid that is 10 columns wide and 10 rows high. The smaller grid is positioned such that it covers the first 10 rows of the larger grid, leaving the remaining 10 rows of the large grid empty.

Mini Menü	Orta Menü	Büyük Boy Menü
 <p>14 TL 75 Krş</p>	 <p>19 TL 25 Krş</p>	 <p>23 TL 50 Krş</p>

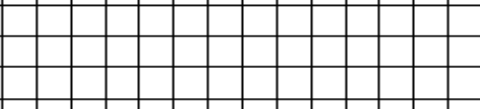
**7-** Sema'nın annesi, babası ve kardeşi ile birlikte alışveriş merkezine gidip yemek yediler. Sema'nın kardeşi Mini Menüü, Sema Orta menüü, anne ve babasıda Büyük Boy Menüü sipariş ettiler.

Sema'nın babası kaç TL hesap ödeyecektir?




8- Menüden 2 tane mini menü 1 tane orta menü alan biri 100 TL verince kaç TL para üstü alır?

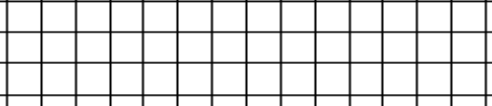
9- Zeynep Aysima Büyük Boy Menüden, Gözde, Ortaboy menüden, Defne ve Öznur ise Mini Menüden alırsa kaç lira ödeme yapmaları gerekir?



**10-** Annem bana 73 TL verdi. Bu paranın 21 TL'si ile kitap aldım. Kalan paranın yarısını kardeşime verdim. Kaç TL param kaldı?



**11-** 227 TL olan bir paten takımını para toplayarak almak istiyorum. 122 TL param var. Günde 5 TL biriktirirsem paten takımını kaç gün sonra alabilirim.

A large, empty 10x10 grid of squares, intended for drawing a picture.

12- 126 sayısının 3 katının 25 fazlası kaç eder?

A large empty grid consisting of 10 columns and 10 rows of squares, intended for drawing a picture.

**13-** Tanesi 52 liradan bir düzüne forma alsam lkaç TL ödemem gerekir?

**14-** Bir toplama işleminde toplananlardan biri 256 toplam ise 573'dür. Diğer toplana kaçtır?

A blank grid of 10 columns and 10 rows, intended for drawing a picture.