

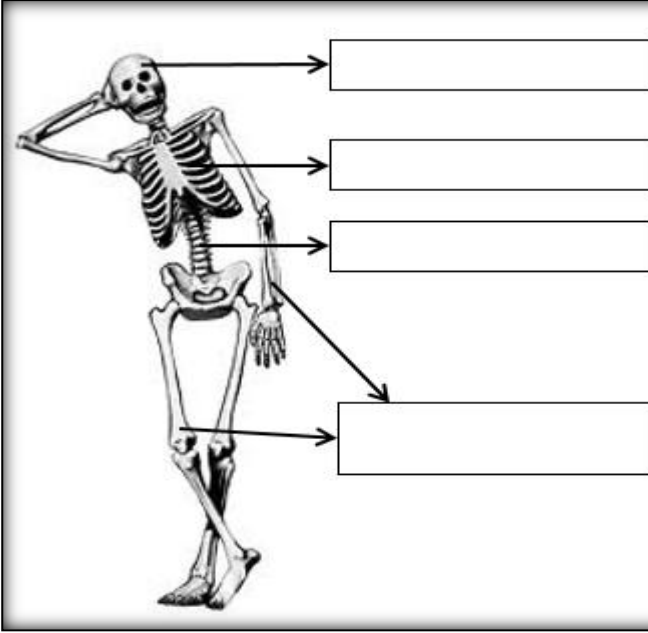
Adı:.....
Soyadı:.....
Sınıfı ve No:.....

2016-2017 HOPURLU ŞEHİT EYÜP GEYİK İLKOKULU
4.SINIF FEN VE TEKNOLOJİ 1. DÖNEM 1. YAZILI

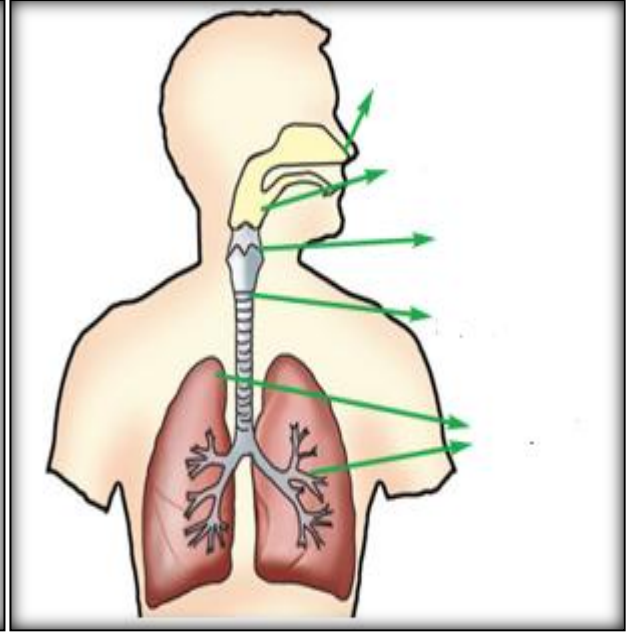
PUAN

.....

İskeletin bölümlerini yazınız. (10 P)



Solunum organlarını yazınız. (10 P)



Aşağıda verilen kavramlarla bilgileri eşleştirin.(10 P)

Lifli yapıya sahiptir.

Kemiklerin birleşme yeridir.

Kemiklerin bir araya gelmesiyle oluşur.

Kanı vücudumuza pompalar.

İskelet

Kalp

Eklem

Kas

Boşlukları kutucuktaki uygun sözcüklerle tamamlayın.(20 P)

**KIRMIZI – BESİN – GEVŞEME – SOLUK BORUSU – GİRTLAK – NABİZ – OKSİJEN –
AKCİĞERLERDE – MAVİ – KAFATASIMIZ - EKLEM**

1. Kaslarımız kasılıp _____ hareketi yapar..
2. Gırtlaktan sonra gelen, oksijeni akciğerlere ileten bölüm _____ dur.
3. Vücudumuzun en önemli organı olan beynimizi _____ korur.
4. Kalp atışının damarlarda hissedilmesine _____ denir.
5. Temiz kan taşıyan damarlar _____ renkli damarlardır.
6. Oksijen ve karbondioksit _____ yer değiştirir.
7. Kemiklerimizin birbirine eklendikleri yerlere _____ denir.
8. Havanın soluk borusuna, besinlerin yemek borusuna geçmesini _____ sağlar.
9. Soluk alırken vücudumuza _____ gazı girer.
10. Kanımız vücuda oksijen ve _____ taşır.

Adı:.....
Soyadı:.....
Sınıfı ve No:.....

2016-2017 HOPURLU ŞEHİT EYÜP GEYİK İLKOKULU
4.SINIF FEN VE TEKNOLOJİ 1. DÖNEM 1. YAZILI

PUAN

.....

Aşağıdaki test sorularını cevaplayınız. (Her test sorusu 5 puandır.)

1) Hangi davranış biçimi iskeletimiz için zararlı değildir?



2) "Aşağıda verilen durumlarda ve etkinlikler sırasında çocukların nabız sayısı ölçülüyor." Bu durumda nabız sayısı **en düşük** olan çocuk hangisidir?



A) Eren B) Ahmet C) Kerem D) Mehmet

3) Aşağıdakilerden hangisi iskeletin görevlerinden biri **değildir**?

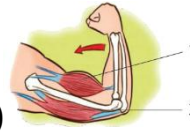
- A) Hareket etmemizi sağlamak.
- B) Vücudumuza besin sağlamak.
- C) Vücudumuzu dik tutmak.
- D) İç organlarımızı dış etkilere korumak.

4) İskeletin bölümleriyle ilgili aşağıdakilerden hangisi **yanlıştır**?

- A) Kafatası: Beyni korur.
- B) Göğüs kafesi: Kalbi ve akciğerleri korur.
- C) omurga: Omiriliği korur ve 33 tanedir.
- D) kol ve bacaklar : Yassı kemiklerdir ve en yavaş hareket eden bölümdür.

5) Çiğdem, iskeletin görevlerini sıralarken bir seçeneği yanlış işaretliyor. **Çiğdem'in yaptığı yanlış aşağıdakilerden hangisidir?**

- A) Vücudun dik durmasını sağlamak
- B) Vücudun hareket etmesine yardımcı olmak
- C) İç organları dış etkilere korumak
- D) Kan dolaşımına yardımcı olmak.



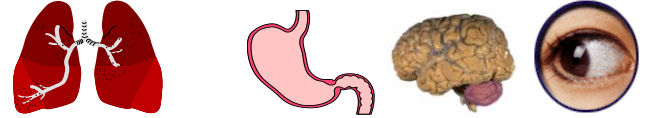
6) Yandaki görselde verilen kaslarla ilgili bilgilerden hangisi doğrudur?

- A) 1. kas gevşemiştir.
- B) 2. kas kasılmıştır
- C) Her iki kas gevşemiştir.
- D) 1. Kas kasılırken, ikinci kas gevşemiştir.

7) Hangisi yassı kemiklere örnektir?

- A) Kürek kemiği
- B) Bilek kemiği
- C) Uyluk kemiği
- D) Pazu kemiği

8) Oksijen ve karbondioksit değişiminin gerçekleştiği organ aşağıdakilerden hangisidir?



A. akciğerler B. mide C. Beyin D. Göz

9) Vücudumuz için gerekli olan **besin** ve **oksijen** gibi maddeler tüm yapı ve organlara ne ile taşınır?

- A. Beyin B. Kan C. Hava D. Kas

10) Kalbimizin, kanı her pompalayışında damarlarda meydana gelen harekete ne denir?

- A. Kalp B. Kas C. Damarlar D. Nabız