

# 4. SINIF 1. DÖNEM 2. DENEME SINAVI

ADI : .....  
SOYADI : .....  
SINIFI : .....  
NO : .....

- Bu sınav 20 Türkçe, 15 Fen ve Teknoloji, 15 Sosyal Bilgiler, 15 Matematik, 10 İngilizce ve 5 Din Kültürü ve A. Bil. sorularından olup toplam 80 sorudan oluşmaktadır.
- Bu sınavda yanlış doğruyu götürmemektedir.
- Her sorunun sadece bir tane doğru cevabı vardır.
- Sınav süresi en az 80 dakika olmalıdır.

HAZIRLAYAN

SALİH ÖZENÇ  
2016-2017

**TÜRKÇE**

Trendeyim. Çok sevinçliyim. Bir trene bindiğim için böyle sevinçli olabileceğimi sanmazdım.

Her yer diz boyu kar. Dün kalkması gereken uçak kalkmadı. O uçak bugün de kalkmadı. Otobüsler yollarda çakılı kaldı. Devletin ekipleri araçlarını homurdatarak ve gıcırdatarak karla savaşmaya gittiler. Önce yakınlardan başladılar. Sonra daha uzaklara gittiler.

Bu trene bir doğu ilimizden bindim. Trende bile yer bulma olanağı neredeyse tümünden ortadan kalkmıştı. Sonunda kendimi bu yolcu treninin bir köşesine atmayı becerince, derin bir soluk aldım.

(Adalet Ağaoğlu'nun "Yol." adlı hikâyesinden)

(1.,2.,3.,4. Soruları hikayeye göre cevaplayınız.)

1)Yazar neden trene binmiştir?

- A)Uçakta yer olmadığından dolayı
- B)Trene binmeyi sevdiğinden dolayı
- C)Uçağı kalkmadığından dolayı
- D)Otobüslerde yer olmadığından dolayı

2)Yazar trene nereden binmiştir?

- A)Bir doğu ilinden
- B)Tren garından
- C)Uzak bir ilden
- D)Ankara'dan

3) Hikayemiz hangi mevsimde geçmektedir?

- A) sonbahar
- B) kış
- C) ilkbahar
- D) yaz

4) Yazar hikayede hangi duyguları yaşamamıştır

- A) mutluluk
- B) sevinç
- C) rahatlama
- D) korku

5) "adayı - elmayı - örtü" sözcükleri sırasıyla adın hangi hâlinedirler?

- A) "-i" durumu, "-i" durumu, "-i" durumu
- B) "-i" durumu, yalın durumu, "-i" durumu
- C) "-i" durumu, "-i" durumu, "-de" durumu
- D) "-i" durumu, "-i" durumu, yalın durumu

**İsmet:**Kumlardan kale yaptık.

**Ertan:**Türkçe sınavına çalışıyorum.

**Birgül:**Yaz tatilinde Kıbrıs'a gideceğiz.

**Ecem:**Okulun son günleri çok sıkıcı geçer.

6) Hangi çocuğun söylediği cümlede **devam eden bir eylem** yer almaktadır?

- A) Ertan
- B) İsmet
- C) Ecem
- D) Birgül

7) Aşağıdaki tümcelerın hangisinde altı çizili sözcük gerçek anlamında kullanılmıştır?

- A) Bu söze çok bozuldum.
- B) Öğretmen zamandan çalmayın, diye uyardı.
- C) Kolu kırılınca doktora gitti.
- D) Yine sözümü kesti.

8) Aşağıdaki cümlelerden hangisinde sebep sonuç ilişkisi yoktur?

- A) Çok üşüdüğü için eldivenlerini giydi.
- B) En sevdiği ayakkabılarını bir türlü bulamadı.
- C) Elektrikler kesilince ödevi yarım kaldı.
- D) Okula gidemedi çünkü hasta olmuştı.

9) " Kimi, dost, arkadaş edinirseniz zamanla ona benzersiniz." Sözü en iyi anlatan atasözü hangisidir?

- A) Üzüm üzüme baka baka kararır.
- B) Damlaya damlaya göl olur.
- C) Sakla samanı gelir zamanı
- D) Bakarsan bağ; bakmazsan dağ olur.

10) Aşağıdaki cümlelerin hangisinde "konuk" kelimesiyle eş anlamlı bir kelime vardır?

- A) Dostlarımızla yolda karşılaştık.
- B) Sizi akrabamla görüştüreceğim.
- C) Az sonra misafirimiz gelecek.
- D) Geziye tanıdıklarımızla çıkarız.

11) "Annem, her sabah çantasını özenle yerleştirirdi."

Bu cümlede sırasıyla aşağıdaki sorulardan hangilerinin karşılığı vardır?

- A) Kim? Nasıl? Niçin? Neyi?
- B) Ne? Ne zaman? Neyi? Nasıl?
- C) Kim? Nasıl? Ne? Ne zaman?
- D) Kim? Ne zaman? Neyi? Nasıl?

12) Aşağıdaki cümleyi en anlamlı şekilde tamamlayan kelime çifti hangisidir?

... ucunu o tarafa çevirip, ... fıskırtmaya başladılar.

- A) kalemin - çiçeklere B) Musluğun - yola  
C) İbriğin - saksılara D) Hortumun - suyu

13) "katlanır - gülü - dikenine - seven" sözcükleri ile anlamlı bir cümle oluşturulursa sondan ikinci sözcük aşağıdakilerden hangisi olur?

- A) Seven B) Dikenine C) Gülü D) Katlanır

14) Aşağıdaki cümlelerin hangisinde imla (noktalama) hatası yapılmıştır?

- A) Yusuf yarın okula gitmeyecek.  
B) Mehmet'in kitabı yırtılmış mı?  
C) Doğrunun yardımcısı Allah'tır.  
D) El eli yıkar, iki el de yüzü.

15) Aşağıdaki cümlelerin hangisi olumlu bir cümledir?

- A) Çantama kattığım kitap yoktur.  
B) Yarın okula gelmeyeceğim.  
C) Senin arkadaşın burada değil.  
D) Babamla birlikte pazara gittik.

16) " kırmızı , keklik , kurabiye , kedi " Sözcükleri sözlük sırasına konulduğunda üçüncü sözcük hangisi olur?

- A) Kırmızı B) Kedi C) Kurabiye D) Keklik

17) I. Kötülüklerle savaşmaktır  
II. elimizden geldiğince  
III. en büyük iyilik  
IV. insanlara yapabileceğimiz

Yukarıdaki kelime gruplarıyla anlamlı ve kurallı bir cümle oluşturulduğunda sıralama nasıl olur?

- A) II - IV - I - III B) IV - III - II - I  
C) IV- I- III- II D) II-III-I-IV

18) Yurdumdan ayrılalı tam iki yıl olmuştu, artık ailem ve arkadaşlarım gözümde tutuyor.

Bu cümledeki altı çizili deyim, cümleye hangi anlamı katmıştır?

- A) Çok özlemek B) Merak etmek  
C) Ayrılmak istemek D) Üzülme

19) "Ahmet, Sıla gibi hızlı kitap okuyamıyor." Tümcesinde Ahmet ile Sıla hangi yönden karşılaştırılmışlardır?

- A) Kitap sevgileri B) Okuma hızları  
C) İyi arkadaş olmaları D) Çalışkanlıkları

20) Aşağıdaki cümlelerin hangisinde abartılı bir anlatım yapılmamıştır?

- A) Yapılacak dünya kadar işim var!  
B) O kadar hızlı koşuyordu ki, yarışta 1. oldu.  
C) Ağlamaktan gözyaşlarım sel oldu.  
D) Bir fırın ekmek yedi, yine doymadı.

### MATEMATİK

1) Bir kırtasiyedeki ataşlar, 10'luk ve 100'lük paketlerde satılmaktadır. 3 tane 10'luk, 7 tane 100'lük paket ataş alan Mutlu, toplam kaç tane ataş almış olur?

- A) 307 B) 370 C) 730 D) 703

2) "708.100" doğal sayısının 10 fazlasının okunuşu aşağıdakilerden hangisidir?

- A) Yedi yüz sekiz bin yüz on  
B) Yetmiş sekiz bin yüz on  
C) Yedi yüz sekiz bin on  
D) Yetmiş bin sekiz yüz on

3) Aşağıdaki toplama işlemlerinden hangisinin sonucu en büyüktür?

a)

$$\begin{array}{r} 3968 \\ + 2707 \\ \hline \end{array}$$

b)

$$\begin{array}{r} 3616 \\ + 5393 \\ \hline \end{array}$$

c)


$$\begin{array}{r} 3724 \\ + 5138 \\ \hline \end{array}$$

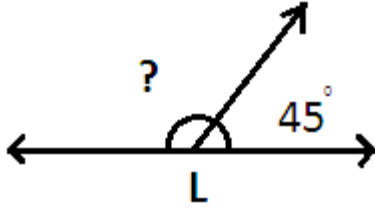
d)

$$\begin{array}{r} 3701 \\ + 3985 \\ \hline \end{array}$$

4) Saat 9.00'u gösterirken akrep ve yelkovan arasındaki açı kaç derecedir?

- A) 15 B) 90  
C) 120 D) 180





5)

Yukarıdaki açının ölçüsü kaç derecedir?

A)135 B)45 C)120 D)145

6)

1	5	0	3	7
---	---	---	---	---

Yukarıdaki rakamlar birer defa kullanılarak oluşturulabilecek dört basamaklı en büyük ve en küçük sayıların farkı kaçtır?

A) 6396 B) 6485 C) 6495 D) 6496

7) Aşağıdaki doğal sayılardan hangisi çift doğal sayıdır?

A) 1003 B) 2889 C) 4681 D) 3518

8)

	3	6	0
x		4	5

İşleminin sonucu kaçtır?

A)12240 B) 16200 C) 16205 D) 405

9)

	yaş	kilo
Ali	29	89
Ahmet	38	109
Ayşe	28	56

Yukarıdaki bilgilere göre Ahmet' in kilosu ile Ayşe' nin kilosunun çarpımına Ali' nin yaşı eklenirse sonuç kaç bulunur?

A) 6123 B) 6033 C) 6133 D) 6233

10) Basamak değerleri  $400\ 000 + 3000 + 100 + 4$  olan sayı aşağıdakilerden hangisidir?

A)43 104 B)430 104 C)403 014 D)403 104

11) Bir trende 352 kadın, kadınlardan 152 fazla erkek yolcu vardır. Acaba bu trende toplam kaç yolcu vardır?

A) 756 B) 456 C) 856 D) 956

12) "845020, 84210, 965347, 4301" sayılarının büyükten küçüğe doğru sıralanışı hangi seçenekte doğru olarak verilmiştir?

A) 965347 &gt; 84210 &gt; 845020 &gt; 4301

B) 965347 &gt; 845020 &gt; 84210 &gt; 4301

C) 4301 &gt; 84210 &gt; 845020 &gt; 965347

D) 845020 &gt; 965347 &gt; 84210 &gt; 4301

13) Bir fırında; birinci 1256, ikinci gün 2214, üçüncü gün 1784 ve dördüncü gün 1100 ekmek üretilmiştir.

Buna göre bu fırında dört günde kaç adet ekmek üretilmiştir?

A) 6342 B) 6354 C) 6412 D) 6454

14) On binler basamağında 6, binler basamağında 3, onlar basamağında 7 olan sayı aşağıdakilerden hangisidir?

A) 63070 B) 637 C) 6307 D) 60307

15) 1, 3, 7, 15, ....., 63

Yukarıda verilen sayı örüntüsünde boş bırakılan yere gelmesi gereken sayı aşağıdakilerden hangisidir?

A)31 B)35 C)38 D)44

### SOSYAL BİLGİLER

1) Gece yolunu devam etmek zorunda kalan Burak kafasını çevirip geriye doğru gökyüzüne baktığında Kutup yıldızının arkasında kaldığını görüyor. Buna göre Burak'ın sol kolu hangi yönü gösterir?

A) Güney B) Doğu C) Kuzey D) Batı

2) Aşağıdakilerden hangisi doğal unsurlardan değildir?

A) Ağaçlar

B) Tepeler

C) Barajlar

D) Denizler

3) Ailemize ait geçmişten kalan eşyaları inceleyerek ..... oluşturmamıza yardımcı olacak bilgiler elde edebiliriz.

Cümlesinde boş bırakılan yere aşağıdaki seçeneklerden hangisi gelmelidir?

A) Milli kültürümüzü

B) Aile tarihimizi

C) Okul tarihimizi

D) Mahalle tarihimizi

4)Aşağıdakilerden hangisi deprem çantasında yer almaz?

- A)El feneri B)Radyo  
C)Düdük D) Oyuncak araba

5)Aşağıdakilerden hangisi milli kültürümüzü oluşturan öğeler arasında yer almaz?

- A) Sünnet düğünü B) Yılbaşı kutlaması  
C) Kına gecesi D) Asker uğurlama

- I- Cirit atma II- Voleybol  
III- Güreş IV- Futbol

9)Verilenlerden hangileri tarihte Türklerin yaygın olarak oynadıkları oyunlardandır?

- A)I ve III B)II ve IV  
C)I ve II D)III ve IV

- 10) I. Sivas Kongresi  
II. TBMM açıldı  
III. Amasya Genelgesi  
IV. Erzurum Genelgesi

Yukarıda verilen olayların kronolojik sıralaması hangisidir?

- A)III- IV-I -II B) II-I-III-IV  
C)I- II -IV- III D)II-III-I-IV

11) .. Atatürk, Milli Mücadeleyi başlatmak üzere 19 Mayıs ...I.... tarihinde ....II vapuruyla ....III.... çıkmıştır.

Cümlesinde boş bırakılan yerlere sırasıyla seçeneklerden hangisi gelmelidir?

	1	2	3
A)	1920	Bandırma	Samsun
B)	1920	Samsun	Bandırma
C)	1919	Bandırma	Samsun
D)	1919	Samsun	Bandırma

- 12) *Sena, kalemini yere düşürdü. Berat, görmeden Sena'nın kalemine bastı ve kalem kırıldı. Sena bağırmağa başladı. Berat, Sena'dan özür diledi. Sena bağırmağı sürdürdü.*

Yukarıdaki olaya göre aşağıdaki ifadelerden hangisi yanlıştır?

- A. Sena, anlayışsız biridir.  
B. Berat, kibar biridir.  
C. Sena, öfkesini kontrol edemeyen biridir.  
D. Sena, hoşgörülü biridir.

### Sakarya Meydan Muharebesi

	Türk	Yunan
Er	96.326	120.000
Tüfek	54572	75.900
Mak.tüfek	825	2.768
Top	169	286
Hayvan	32.137	3.800
Uçak	2	18

13) Aşağıdaki seçeneklerden hangisi doğrudur?

A)Türk ordusunun cephanesi Yunan ordusununkinden fazladır.

B)Yunan ordusunun asker sayısı. Türk ordusunun üç katıdır.

C)Askerlere birer tane tüfek düşmektedir.

D)Yunan ordusunun sahip olduğu uçak daha fazladır.

14) \*Mevlana; "Ne olursan ol, yine gel." demiştir.

\*Emre sadece kendi isteklerine öncelik verir.

\*Füsun Hanım ve Melda Hanım her türlü farklılıklarını anlayışla karşılar.

\*Serdar tüm arkadaşlarıyla iyi geçinmektedir.

Yukarıda verilen bilgilere göre kimin hoşgörülü olduğu söylenemez.

- A)Mevlana B) Füsun ve Melda Hanım  
C) Emre D) Serdar

- 15) I- köprüler  
II- tarihsel binalar  
III- yollar  
IV- müzeler  
V- tüneller

Yukarıdaki yapılardan kaç tanesi doğal unsurdur?

- A)1 B)3 C)5 D) hiçbir

### FEN VE TEKNOLOJİ

1) Aşağıdakilerden hangisi saf madde değil-dir?

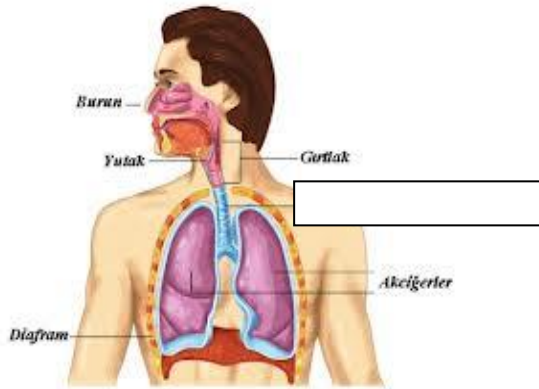
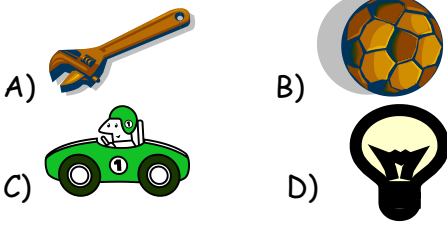
- A) şeker B) süt C) tuz D) ayran



2) Aşağıdakilerden hangisi maddenin hal değiştirmesine örnek değildir?

- A) Tuzun suda görünmez hale gelmesi  
B) Buharı su haline gelmesi  
C) Demirin erimesi  
D) Buzluktaki suyun buz olması

3) Aşağıdaki maddelerden hangisi saydam bir maddedir?



4) Yukarıdaki resimde kutu içine hangisi yazılmalıdır?

- A) yutak  
B) gırtlak  
C) akciğer  
D) soluk borusu

5) Aşağıdakilerden hangisi vücudumuzda bulunan kemik çeşitlerinden birdir?

- A) ince kemikler  
B) uzun kemikler  
C) orta kemikler  
D) düz kemikler

6) Isıtılan bir buz ..... hale dönüşür. Boş bırakılan yere hangisi gelmelidir?

- A) sıvı  
B) gaz  
C) katı  
D) jel

7) Soluk alırken havanın izlediği yol aşağıdaki seçeneklerden hangisinde doğru olarak verilmiştir?

- A) burun - soluk borusu - gırtlak - yutak - akciğer  
B) burun - yutak - gırtlak - soluk borusu - akciğer  
C) ağız - yutak - gırtlak - soluk borusu - akciğer  
D) akciğer - soluk borusu - gırtlak - yutak - ağız

8) Aşağıdakilerden hangisi kalp atış sayısını ve nabızı hızlandıran sebeplerden biri değildir?

- A) Korku  
B) Heyecan  
C) Koşmak  
D) Uyku

9) Doğal maddelerin insanlar tarafından işlenmesiyle elde edilen maddelere işlenmiş madde denir. Aşağıdakilerden hangisi işlenmiş madde değildir?

- A) Tahta masa  
B) Ağaç sandalye  
C) Defter  
D) Ağaç

10) Aşağıda verilen maddelerden hangisi bir kaba konulursa, konulduğu kabın şeklini alır?

- A) Kalem  
B) Taş  
C) Ekmek  
D) Tuz

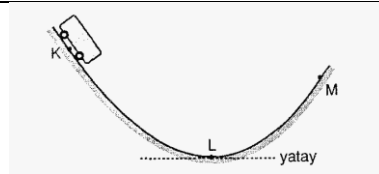
11) Bazı maddeler mıknatıs tarafından çekilir, bazıları ise çekmez. Bu olay mıknatısın yapısal özelliğinden kaynaklanan görünmez gücüdür.

Buna göre aşağıdakilerden hangisi mıknatıs tarafından çekilmez?

- A) Un  
B) Toplu iğne  
C) Demir masa  
D) Çivi

12) Aşağıda verilen kemik ve kemik çeşidi eşleştirmelerinden hangisi yanlıştır?

- A) Kaburga kemiği - kısa kemik  
B) Parmak kemiği - kısa kemik  
C) Baldır kemiği - uzun kemik  
D) Ön kol kemiği - uzun kemik



13)

Şekildeki düzenekte K noktasından serbest bırakılan oyuncak araba M noktasına ulaşıyor. Oyuncak arabanın KL ve LM yollarındaki hareket çeşitleri için aşağıdakilerden hangisi söylenebilir?

KL yolunda

- A) Hızlanan  
B) Yavaşlayan  
C) Hızlanan  
D) Sabit hızlı

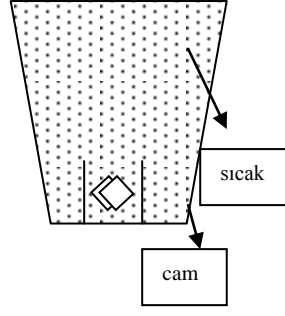
LM yolunda

- Durgun halde  
Hızlanan  
Yavaşlayan  
Hızlanan

14)" Sınıfta yaptığımız etkinlikte bir tel parçasının üzerini oyun hamuru ile kapladık" Bu etkinlikte sırasıyla tel ve oyun hamuru hangi yapımıza karşılık gelir?


- A)İskelet - Eklem B)İskelet - Kas  
C)Kas - Eklem D)El ve ayak - Baş

15) İçinde sıcak su bulunan cam kaba içinde buz bulunan porselen bardak şeklindeki gibi konuyor. Bir süre sonra aşağıdakilerden hangisinin olması beklenmez?



- A)cam kabın sıcaklığının artması  
B)buzun erimesi  
C)suyun soğuması  
D)bardağın ısı alması

### İNGİLİZCE

1)  yandaki resmin adı nedir?  
a)car b)pen c)dog d)egg

2)  resimdeki Ece hangi sporu yapıyor.

- A)play football B)play voleyball  
C)play basketbal D)play golf

3) Eşleştirmeden hangisi yanlıştır?  
A) yellow-sarı B) pink-pembe  
C) red-mavi D) green-yeşil

13

4) What is this?  
A) Fifteen B) Seventeen  
C) Thirty D) Thirteen



5) What is this?

- A) Fifty-seven B) Seventy-seven  
C) Fifty-five D) Seventy-five



6) I am from.....?

- A) Turkish B) Spanish  
C) Japanese D) Italian



7) I like.....?

- A) Playing football B) Playing table tennis  
C) Playing chess D) Playing with marbles



8) .....!

- A) Open the door B) Turn off the lights  
C) Sit down D) Clean the board



9) Where are you from?

- A) I am Turk. B) I am Turkish.  
C) I am from Turkey. D) I am Turkey.



10) What is this?

- A) Ruler B) Pencil  
C) School bag D) Pencil case

**DİN KÜLTÜRÜ VE AH. BİL.**

1) Aşağıdakilerden hangisi günah olan davranışlara örnektir?

- A) Helal kazanç sağlamak
- B) İzin isteyerek bir şey yemek
- C) Kumar oynamak
- D) Arkadaşlarına selam vermek

2) Aşağıdakilerden hangisi dinimizin temizliğe verdiği önemi gösterir?

- A) Kurban kesmek
- B) Abdest almak
- C) Hacca Gitmek
- D) Sadaka

3) " Eşhedü en lâ ..... illallah Ve Eşhedü ..... Muhammeden abdühû ve ....."

Yukarıdaki boşluklara sırasıyla hangi kelimeleri yazarsak Kelime-i Şehadet'i doğru yazmış oluruz?

- A) ilâhi - resûlüh - enne
- B) enne - ilâhe - resûlüh
- C) ilâhe - ve - enne
- D) ilâhe - enne - resûlüh

4) Aşağıdakilerden hangisi ahlaklı kişilerin özelliklerinden değildir?

- A) terbiyeli
- B) efendi
- C) küfürbaz
- D) güvenilir

5) "Dinimizce hoş karşılanmayan söz ve davranışlara" ne denir?

- A) Helal
- B) Sevap
- C) Sünnet
- D) Günah