

BAYRAĞIMIZ

Bayrağımız bağımsızlığımızın sembolüdür. Türkiye Cumhuriyeti Devleti'ni temsil eder. Dikdörtgen şeklindedir. Rengi kırmızıdır. Üzerinde beyaz renkte ay ve yıldız vardır. Biz bayrağımızı çok sever, onu her şeyden üstün tutarız. Saygıyla taşır ve koruruz. Atalarımız bayrağımız için savaşmışlar, bu yolda çok şehit vermişlerdir. Bayrağımız rengini atalarımızın kanından almıştır.



Ulusal bayramlar ve resmi tatiller bayrak töreniyle başlar. Tören sırasında İstiklal Marşı'mızı coşkuyla söyler, hazır ol duruşunda bekleriz.

Her bağımsız ülkenin bir bayrağı vardır. Aşağıdaki bayrakların hangi ülkelere ait olduğunu yazın.



Bayrak konulu akrostiş çalışması yapınız.

B.....
A.....
Y.....
R.....
A.....
K.....



BAYRAK ÇİĞNENMEZ

Atatürk İzmir'de İplikçizade Köşkü'nde konaklayacaktı. Bu köşkün güzelliği dillere destandı. Girişte kadınlı, erkekli büyük bir topluluk birikmişti. Atatürk onları selamlayarak köşke yöneldiğinde yüzü asıldı. Kaşlarını çatı. Çünkü, geçeceği yerde boylu boyunca bir Yunan bayrağı seriliydi. Karşılıycılara bunun nedenini sordu. Onlar da, "Yunan Kralı Konstantin'in 1921 yılında İzmir'e geldiğinde bu köşkte ağırlandığını; yere serilen Türk Bayrağını çiğneyerek içeri girdiğini" anlattılar.

Atatürk'ün yanıtı kısa ve kesindi: "Yunan Kralı hata etmiş. Çünkü, bayrak bir milletin onurudur. Ben bu hatayı tekrarlamam" diyerek, yerdeki bayrağı kaldırttı. Köşkün bembeyaz mermerlerinde ilerleyerek, içeri girdi."

1-Olay nerede olmuştur?

2-Atatürk'ün neden yüzü asıldı?.....

3-Karşılıycılar neden yere Yunan bayrağı sermişlerdi?.....

4-Atatürk neden bayrağın yerden kaldırılmasını istemiştir?.....

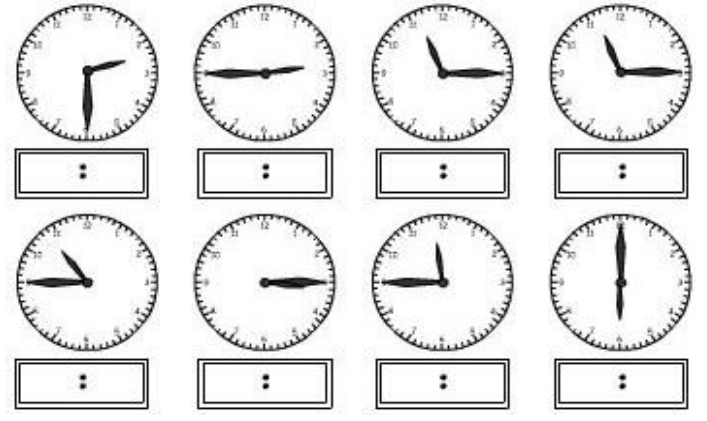
5-Bu olay Atatürk'ün hangi özelliğini gösterir?.....



Aşağıdaki tabloda sözcüklerin büyük ünlü uyumu kuralına uyup uymadıklarını yazınız.

cumhuriyet	u,u,i,e	UYMAZ	beyaz			sportif		
bağımsızlık	a,i,i,i	UYAR	kraliçe			yazıcı		
sembol			futbolcu			kitapçı		
görgüsüzlük			döküman			duygusal		

10 dk önce	saat	10 dk sonra	1 saat sonra
	15.20		
	11.00		
	07.15		
	03.50		
	21.35		
	22.10		
	12.40		




Aşağıdaki çevirmeleri yapınız.

2 m 65 cm	265 cm	2 sa 10 dk	130 dk	2 kg	4 yarım kg	2 litre	8 çeyrek litre
7 m 9 cm		1 sa 40 dk		5 kg		3 L	
12m10 cm		4 sa 5 dk		3 kg		5 L	
4 m 55 cm		3 sa 20 dk		7 kg		4 L	
3 m 11 cm		5 sa 15 dk		9 kg		7 L	
10m 10cm		2 sa 35 dk		10 kg		8 L	

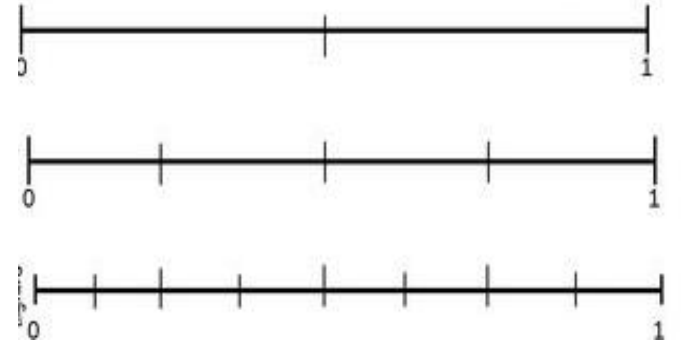
67	46	73	35	12	48	56	49	28	69	57
x 48	x 53	x 96	x 24	x 43	x 42	x 32	x 66	x 43	x 43	x 39

Aşağıdaki kesirleri büyükten küçüğe sıralayın

$\frac{4}{6}, \frac{1}{6}, \frac{5}{6}$
 $\frac{2}{5}, \frac{2}{7}, \frac{2}{6}$
 $\frac{2}{4}, \frac{1}{4}, \frac{3}{4}$
 $\frac{3}{7}, \frac{3}{5}, \frac{3}{6}$



Aşağıdaki sayı doğrularında belirtilen kesirleri yazın



Aşağıdaki problemleri matematik defterine yazın ve çözün.

- 1-Cebimde 6 tane 25 kr, 8 tane 50 kuruş ve 8 tane 10 kr var. Cebimdeki paranın $\frac{3}{7}$ ünü harcadım. Geriye kaç lira kaç kuruşum kaldı?
- 2- Kilogramı 43 lira olan fındıktan 17 kg aldık. Kaç lira ödemeliyiz?
- 3-Eda saat 7.30 da evden çıktı. 5 saat 20 dakika sonra eve döndü. Döndüğünde saat kaç olmuştur?
- 4-Bir üretici 256 litre sütün $\frac{3}{4}$ ünü peynir yaptı. Kalan sütün litresini 3 liradan sattı. Üretici kaç lira alır?
- 5-Annem 3 metrelik kumaşın 1 m 65 cm'sini kullandı. Geriye kaç cm kumaş kaldı?
- 6-Yol yapan işçiler birinci gün 3m 50 cm, ikinci gün 4 m 15 cm, üçüncü gün 2 m 60 cm yol yaptılar. İşçiler toplam kaç m kaç cm yol yapmışlardır?