

DOĞAL AFETLER

Dünya üzerinde sel felaketleri, kasırgalar, toprak kaymaları ve deprem gibi birçok **doğal afet** olayları yaşanmaktadır. Ciddi şekilde can ve mal kayıplarına sebep olan bu doğal afetleri ne yazık ki önlemek mümkün değildir. Ancak alınan tedbirlerle en az düzeyde zarar görmeye çalışılmaktadır. Bu doğal afetlerden biri de zelzele olarak da adlandırılan depremlerdir.


Deprem, yer kabuğunun ani ve şiddetli sallanmasıdır. Kendiliğinden oluşan depremin ne zaman olacağı önceden tahmin edilemez, olması engellenemez. Deprem sebebiyle binalar yıkılabilir, canlılar zarar görebilir.

Deprem zararlarından korunabilmek için deprem öncesi, deprem sırası ve deprem sonrasında yapılması gerekenleri bilmeliyiz.

Deprem öncesinde yapılması gerekenler

Depremden önce deprem çantası hazırlamak gerekir.

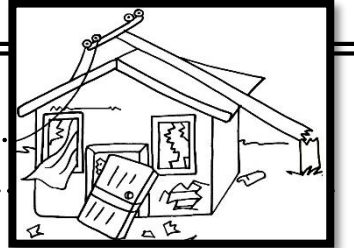
Deprem çantasında neler olmalıdır? Yazınız



DEPREM

Köyde korkunç bir deprem olmuştu. Evler, ahırlar, kümesler yıkılmış, köy odası, cami, hamam ve okul içine girilemeyecek şekilde çökmüştü. Deprem sırasında köylülerin çoğu bahçede, tarladaydı. Bu nedenle ölü ve yaralı sayısı azdı. Sokaklarda kalan halk, kısa sürede Kızılay'ın çadırlarına yerleştirildi. Köy meydanında aş kazanları kuruldu. Köylülere yiyecek dağıtımına başlandı.

İlk günler çadırlardaki yaşam çocukların hoşuna gidiyordu. Kış bastırınca, işler değişti. Kar, yağmur, rüzgar, soğuk onları bezdirdi. Hepsi de sıcak odalarını özlemle anıyorlardı. Bir süre sonra köyün karşı-sındaki yamaca tek katlı beton evler yapıldı. İlkbaharın başlarında kura çekildi. Köylüler kendilerine düşen evlere taşındılar. Suna'nın Serçeleri



Aşağıdaki sözcüklerin anlamını sözlükten bulup, yazın, öğrenin,

Aş:.....

Yamaç:.....

1-Köydeki deprem sırasında nereler yıkılmış?.....

2-Deprem sırasında neden fazla can kaybı olmamış?.....

3-Kızılay köy halkına nasıl yardımcı olmuş?.....

4- Çadır yaşamı neden zorlaşmış?.....

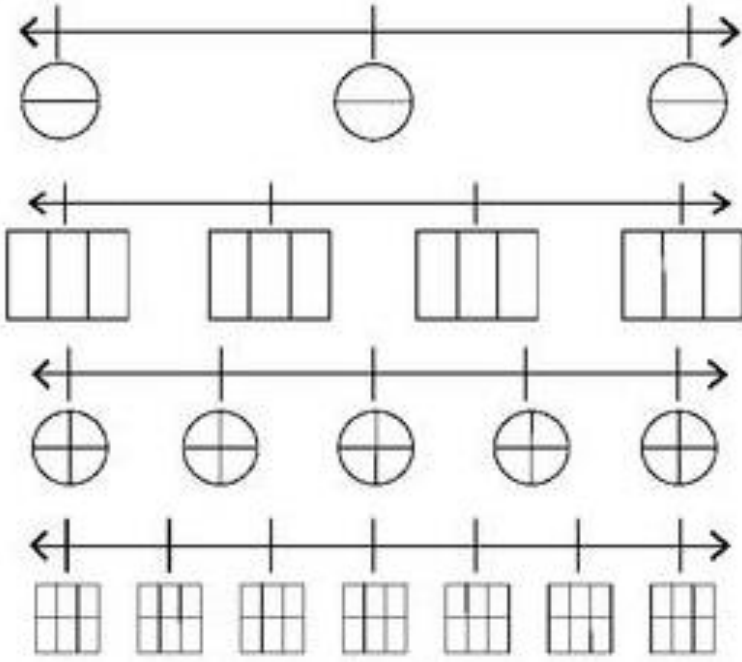
5- Köylülerin yeni evleri nereye yapılmış?.....

6- Yeni evleri hangi malzeme ile yapılmış?.....

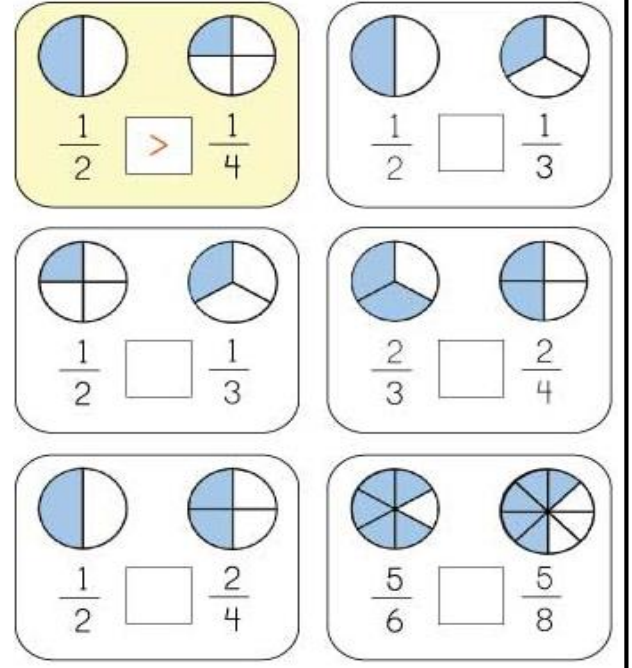
755 + 15	163 + 58	839 + 79	985 + 49
606 + 53	792 + 66	972 + 45	665 + 30
993 + 91	513 + 17	706 + 97	319 + 39

5 × 5 = ____	9 × 9 = ____	4 × 4 = ____
5 × 7 = ____	9 × 2 = ____	6 × 6 = ____
5 × 1 = ____	9 × 8 = ____	5 × 5 = ____
5 × 6 = ____	9 × 1 = ____	7 × 7 = ____
5 × 4 = ____	9 × 6 = ____	9 × 9 = ____
5 × 8 = ____	9 × 3 = ____	8 × 8 = ____
5 × 3 = ____	9 × 7 = ____	3 × 3 = ____
5 × 9 = ____	9 × 5 = ____	1 × 1 = ____
5 × 2 = ____	9 × 4 = ____	2 × 2 = ____

Sayı doğrusunda belirtilen kesirleri boyayarak gösterin



<, >, = sembolleri ile karşılaştırın.



Aşağıdaki problemleri matematik defterine yazın ve çözün

- 1- Bir kırtasiyedeki 84 kalemın $\frac{2}{4}$ si satıldı. Geriye satılmayan kaç kalem kaldı?
- 2- $\frac{5}{9}$ i 240 olan sayının tamamı kaçtır?
- 3- Simitçi 60 simitin $\frac{3}{4}$ ü sattı. Geriye kaç simit kaldı?
- 4- Evdeki 70 cevizin yarısı ile pasta yaptık. Kalan cevizin $\frac{4}{7}$ ünü yedik. Geriye kaç ceviz kaldı?
- 5- 90 sayfalık kitabımın $\frac{6}{9}$ sını okudum. Okunmamış kaç sayfa kaldı?
- 6- $\frac{3}{5}$ ü 87 olan soruların tamamı kaç tanedir?

Toplananlardan biri verilmediğinde

236 + <u> </u>	383 + <u> </u>	679 + <u> </u>	281 + <u> </u>	478 + <u> </u>	392 + <u> </u>	288 + <u> </u>	579 + <u> </u>	156 + <u> </u>	622 + <u> </u>
705	699	800	423	712	400	601	888	322	811

