


## DUYU ORGANLARIMIZIN SAĞLIĞI




Nefes almamızı, kokuları algılamamızı sağlayan duyu organı .....  
Maddelerin sertliğini, sıcaklığını anlamamızı sağlayan duyu organı.....  
Besinlerin tadını almamızı sağlayan duyu organı .....  
Çevremizi görmemizi sağlayan duyu organı .....  
Sesleri işitemimizi sağlayan duyu organı .....

Aslı annesinin sesiyle uyandı. Mutfığa geldi. Kahvaltı hazırdı. Masaya baktı. Tabaktaki yumurtanın tadına baktı. Tam istediği gibiydi. **Aslı hangi duyu organlarını kullandı? Sırasıyla yazınız.**

Ekin ders çalışıyordu. Kitap ve defterlerini masaya koydu. Alt kattan gelen müzik seslerini duydu, biraz rahatsız oldu. Annesi kurabiye pişirmişti. Kokusu odasına kadar geldi. **Ekin hangi duyu organlarını kullandı? Sırasıyla yazınız.**

**Aşağıda verilen cümlelerden doğru olanın başına D, yanlış olanın başına Y yazınız.**

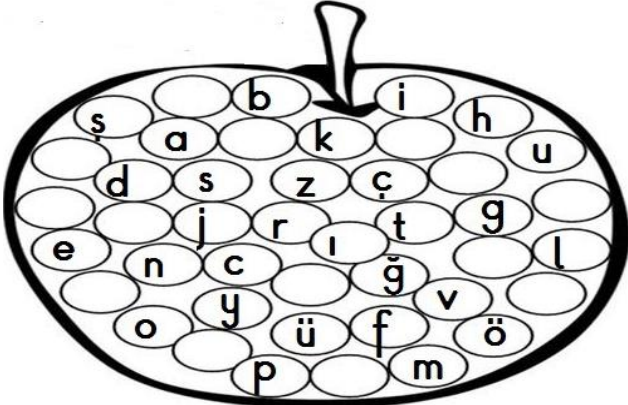
- (.....) Midemiz işitme organıdır.
- (.....) Konuşmamıza yardımcı olan duyu organımız burundur.
- (.....) Aşırı sıcak ya da soğuk besinleri tüketmek dilimize zarar verir.
- (.....) Gözlerimizi tozlu ortamlardan korumalıyız.
- (.....) Yazın güneşli günlerde Güneş'ten korunmalıyız.
- (.....) Kulağımızı kulak temizleme pamuklarıyla temizlemeliyiz.
- (.....) Çok gürültülü ortamlarda uzun süre durmalıyız.
- (.....) Burnumuzu temiz tutmalıyız.
- (.....) Bilgisayar ekranına uzun süre bakmamalıyız.



Aşağıdaki sözcükleri hecelerine ayırınız. Hece sayısını ve sesli harfleri belirtiniz.

sözcük	heceleme	Hece sayısı	Sesli harfler
kütüphanemizde	kü-tüp-ha-ne-miz-de	6	ü,ü,a,e,i,e
bahçesindeki			
yapraklarını			
sporcu			
Atatürk			
ceketlerimizden			

**Sesli harfleri kırmızı, sessiz harfleri yeşil boyayın. Noktalı yerlere yazınız.**



**Sesli harfler:**

.....

**Sessiz harfler:**

.....

.....

.....

## doğru parçası, nokta, ışın, doğru

Su damlası, yüzümüzdeki ben .....ya örnektir.

.....başlangıç ve bitiş noktası yoktur.

Başlangıç ve bitiş noktası belli olan doğruya .....denir.

Başlangıç noktası belli, bitiş noktası belli olmayan doğruya .....denir.

Annemizin örgü şışı..... örnektir.

İki ucundan çekilen lastik ..... örnektir.

Uzayan saçım ..... örnektir.

İki ucu açılmış kalem ..... örnektir.

Çubuk makarna ..... örnektir.






Yol, elektrik telleri ..... örnektir.


← → doğru

• → ışın

← • doğru parçası

## Aşağıdaki geometrik cisimlerin açılımlarını çiziniz.



### Resimdeki geometrik şekillerden;

Dikdörtgensel bölgeleri kırmızı

Üçgensel bölgeleri yeşil,

Daireleri sarı,

Karesel bölgeleri mavi boyayın

25	34	39	58	25	20	45	34	70	85
<u>+27</u>	<u>+19</u>	<u>+26</u>	<u>+32</u>	<u>+75</u>	<u>+47</u>	<u>+23</u>	<u>+68</u>	<u>+27</u>	<u>+45</u>

90	61	41	57	81	43	63	74	70	80
<u>-15</u>	<u>-25</u>	<u>-13</u>	<u>-39</u>	<u>-35</u>	<u>-17</u>	<u>-29</u>	<u>-58</u>	<u>-29</u>	<u>-69</u>

17	25	44	25	36	41	15	13	18	28	32
<u>x 4</u>	<u>x 3</u>	<u>x 2</u>	<u>x 2</u>	<u>x 3</u>	<u>x 0</u>	<u>x 5</u>	<u>x 6</u>	<u>x 2</u>	<u>x 3</u>	<u>x 5</u>

30   5	27   3	16   2	9   3	40   5	32   4	20   5	24   4
<u>    </u>	<u>    </u>	<u>    </u>	<u>    </u>	<u>    </u>	<u>    </u>	<u>    </u>	<u>    </u>