

Adı:.....
Soyadı:.....

Sınıfı:.....
No:.....

...../...../.....
.....




SAAT PROBLEMLERİ-1

Sorularımız dikkatlice okuyalım. Saatlerimizi başlama bitiş zamanlarına göre tamamlayalım.(akrepleri mavi kalem, yelkovanları kırmızı kalem ile çiziniz)

Başlama saati		Bitiş saati
		
<p>Saat 7'de oturduğum kahvaltı masasından 25 dakika sonra kalktım. Acaba kalktığımda saat kaç olmuştu?</p> <p>Cevap:.....</p> <p>.....</p>		

Başlama saati		Bitiş saati
		
<p>Annemin saat 10:00'da başladığı temizlik tam iki buçuk saat sürdü. Acaba annem işini bitirdiğinde saat kaç gösteriyordu?</p> <p>Cevap:.....</p> <p>.....</p>		





Başlama saati		Bitiş saati
		
<p>Saat 21'de başladığım kitabı yarım saat okudum ve bıraktım. Kitabı bıraktığımda saat kaçtı?</p> <p>Cevap:.....</p> <p>.....</p>		

Başlama saati		Bitiş saati
		
<p>Saat 17:00'da başlayan maç tam 1 saat 45 dakika sürdü. Acaba maç saat kaçta bitmiştir?</p> <p>Cevap:.....</p> <p>.....</p>		

Başlama saati		Bitiş saati
		
<p>20:00'da bulaşıklara başlayan annem çeyrek saat içinde işini bitirdi. Annem işini bitirdiğinde saat kaçtı?</p> <p>Cevap:.....</p> <p>.....</p>		

Başlama saati		Bitiş saati
		
<p>7'yi çeyrek geçe sabah koşusuna başlayan Nagihan, 45 dakika sonra koşusunu tamamladı. Acaba Nagihan koşuyu saat kaçta tamamladı?</p> <p>Cevap:.....</p> <p>.....</p>		

Başlama saati		Bitiş saati
		
<p>Saat 14:30'da alışverişe çıkan annem tam 4 buçuk saat sonra eve döndü. Annem saat kaçta eve dönmüştür?</p> <p>Cevap:.....</p> <p>.....</p>		

Başlama saati		Bitiş saati
	 	
<p>Akşam 21:30'da uykuya dalıp 9 saat uyursam acaba saat kaçta uyanırım?</p> <p>Cevap:.....</p> <p>.....</p>		