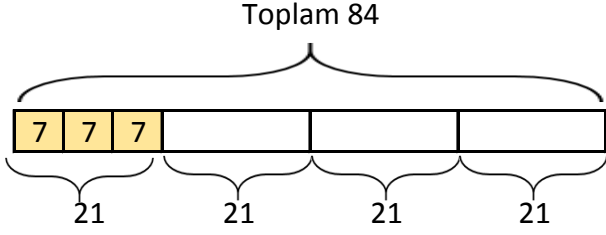


Adı Soyadı:

KESİR PROBLEMLERİ

1. 84'ün $\frac{1}{4}$ inin $\frac{1}{3}$ i kaçtır?



$$84 \div 4 = 21 \text{ birim kesir değeri}$$
$$21 \div 3 = 7 \text{ dir.}$$

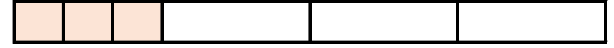
2. 12'nin $\frac{1}{3}$ nin $\frac{1}{2}$ i kaçtır?



3. 24'ün $\frac{1}{6}$ inin $\frac{1}{2}$ i kaçtır?



4. 36'nin $\frac{1}{4}$ inin $\frac{1}{3}$ i kaçtır?



5. 40'in $\frac{1}{2}$ inin $\frac{1}{4}$ i kaçtır?



6. 48'in $\frac{1}{3}$ inin $\frac{1}{2}$ i kaçtır?



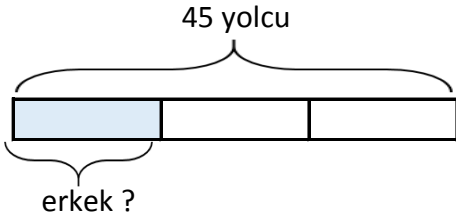
7. 72'nin $\frac{1}{3}$ inin $\frac{1}{4}$ i kaçtır?



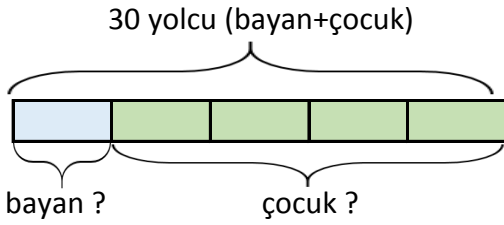
8. 20'nin $\frac{1}{2}$ inin $\frac{1}{2}$ i kaçtır?



9. Bir otobüste bulunan 45 yolcunun $\frac{1}{3}$ i erkek, $\frac{1}{5}$ i bayan yolcu ve geriye kalanda çocuktur. Otobüste kaç tane çocuk vardır?

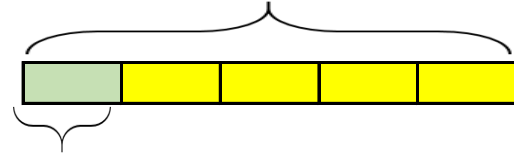
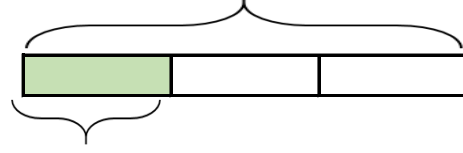


$$45 \div 3 = 15 \text{ erkek yolcu sayısı}$$
$$45 - 15 = 30 \text{ kalan yolcu (bayan+çocuk)}$$



$$30 \div 5 = 6 \text{ bayan yolcu sayısı}$$
$$30 - 6 = 24 \text{ çocuk yolcu sayısı}$$

10. Elif 75 sayfalık kitabının 1.gün $\frac{1}{3}$ ini, 2.gün ise $\frac{1}{5}$ ini okudu. Okunacak kaç sayfa kitap kalmıştır?



11. Sınıf kitaplığımızda bulunan 96 kitabın $\frac{1}{3}$ i masal ve $\frac{1}{4}$ i şiir kitabıdır. Geriye kalanlar hikaye kitabıdır. Kitaplığımızda kaç tane hikaye kitabı vardır?

12. Damla 72 cevizin $\frac{3}{4}$ ünü arkadaşlarına dağıttı. Kalan cevizlerin $\frac{2}{3}$ ini yedi. Geriye kaç cevizi kalmıştır?