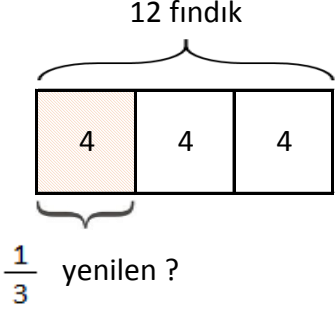


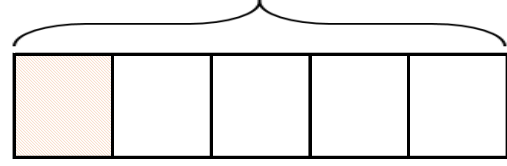
TAMAMI VERİLEN BİR ÇOKLUĞUN İSTENEN KESİR KADARINI BULMA

1. Ahmet 12 fındığın $\frac{1}{3}$ ini yedi. Ahmet kaç fındık fındık yemiştir?

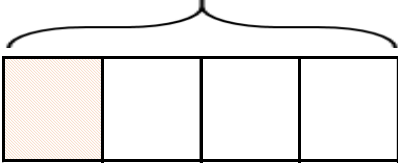


$$12 \div 3 = 4 \text{ fındık yemiştir (Birim kesir değeri)}$$

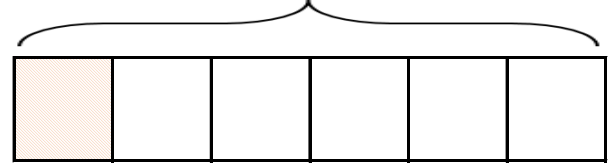
2. 20 kalemin $\frac{1}{5}$ ni kardeşine veren Bahattin, kardeşine kaç kalem vermiştir?



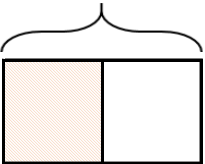
3. Sınıfımızdaki 20 öğrencinin $\frac{1}{4}$ kız öğrencidir. Sınıfımızda kaç kız öğrenci vardır?



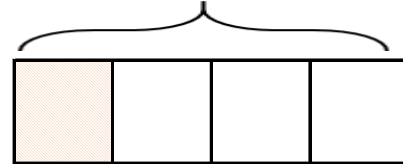
4. Berat 18 TL parasının $\frac{1}{6}$ ini kantinde harcadı. Berat ne kadar para harcamıştır?



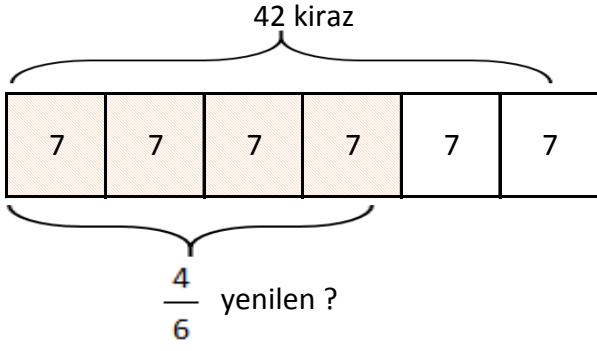
5. Abim 18 yaşındadır. Benim yaşı, abimin yaşının $\frac{1}{2}$ i kadardır. Benim yaşı kaçtır?



6. 32 tavuğun $\frac{1}{4}$ i yumurtladı. Yumurtlayan kaç tavuktur?



7. 42 kirazın $\frac{4}{6}$ ünü yiyen Nisa kaç kiraz yemiştir?

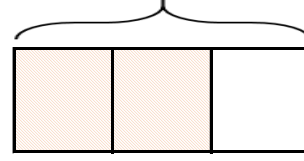


$$42 \div 6 = 7 \text{ birim kesir değeri}$$

$$7 \times 4 = 28 \text{ kiraz yemiştir.}$$

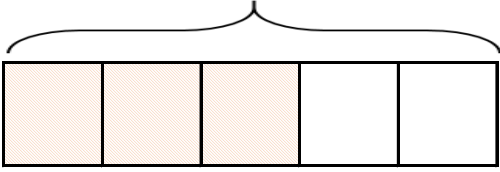
8. 15 elmanın $\frac{2}{3}$ sini arkadaşlarıma verdim.

Arkadaşlarıma kaç elma verdim?



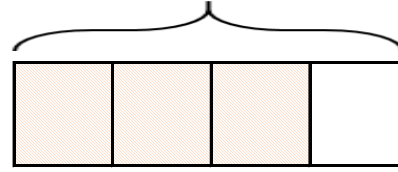
9. 35 cevizin $\frac{3}{5}$ ünü akşamdan yedik.

Akşam kaç ceviz yedik?



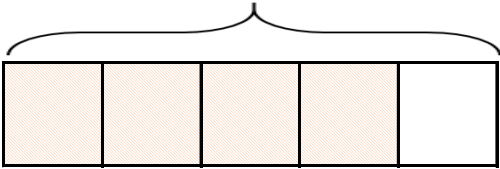
10. Bahçemizde ki 24 ağacın $\frac{3}{4}$ meyve ağacıdır.

Bahçemizde kaç meyve ağacı vardır?



11. 25 bilyenin $\frac{4}{5}$ ünü arkadaşlarıma dağıttım.

Arkadaşlarıma kaç bilye dağıttım?



12. Kitaplığımdaki 52 kitabın $\frac{2}{6}$ i kaplıdır. Kaplı olan kaç kitabım vardır?

