

## GEOMETRİK CİSİMLER VE DÜZLEMLER TESTİ

1. Aşağıdakilerden hangisi küpe örnektir?

A.



B.



C.



2. Aşağıdakilerden hangisi küreye örnektir?

A.



B.



C.




3. Aşağıdakilerden hangisi dikdörtgenler prizmasına örnektir?

A.



B.



C.

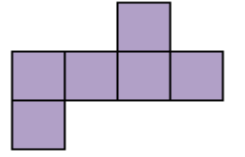


4. Alta açınımı verilen geometrik cisim aşağıdakilerden hangisidir?

A. Küp

B. Silindir

C. Üçgen Pirizma

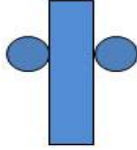


5. Yanda açınımı verilen geometrik cisim aşağıdakilerden hangisidir?

A. Küp

B. Silindir

C. Koni

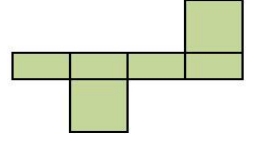


6. Yanda açınımı verilen geometrik cisim aşağıdakilerden hangisidir?

A. Kare prizma

B. Dikdörtgen prizma

C. Üçgen Prizma

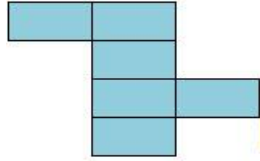


7. Alta açınımı verilen geometrik cisim aşağıdakilerden hangisidir?

A. Kare prizma

B. Dikdörtgen prizma

C. Üçgen Prizma

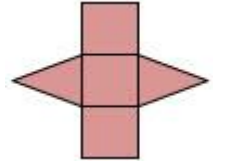


8. Yanda açınımı verilen geometrik cisim aşağıdakilerden hangisidir?

A. Kare prizma

B. Dikdörtgen prizma

C. Üçgen Prizma



9. Yanda açınımı verilen geometrik cisim aşağıdakilerden hangisidir?

A. Silindir

B. Kare

C. Koni



10. Aşağıdaki geometrik cisimlerden hangisi diğerlerinden farklıdır?

A. Koni

B. Silindir

C. Küre

11. Aşağıdaki geometrik cisimlerden hangisinin düzlemleri diğerlerinden daha azdır?

- A. Koni
- B. Silindir
- C. Kare Pirizma


13. Aşağıdaki geometrik cisimlerden hangisinin tamamı karesel bölgelerden oluşur?

- A. Küp
- B. Kare Pirizma
- C. Dikdörtgenler Pirizması

15. Aşağıdaki geometrik cisimlerden hangisinin tamamı dikdörtgensel bölgelerden oluşur?


- A. Küp
- B. Kare Pirizma
- C. Dikdörtgenler Pirizması

17. Altındaki düzlemlerin oluşturduğu geometrik cisim aşağıdakilerden hangisidir?



- A. Küp
- B. Koni
- C. Silindir

19. Altındaki düzlemlerin oluşturduğu geometrik cisim aşağıdakilerden hangisidir?



- A. Dikdörtgenler Pirizması
- B. Küp
- C. Üçgen Pirizma

12. Aşağıdaki geometrik cisimlerden hangisinin düzlemleri diğerlerinden daha fazladır?

- A. Küp
- B. Üçgen Pirizma
- C. Silindir

14. Aşağıdaki geometrik cisimlerden hangisinin tamamı dikdörtgensel bölgelerden oluşur?


- A. Küp
- B. Kare Pirizma
- C. Dikdörtgenler Pirizması

16. Altındaki düzlemlerin oluşturduğu geometrik cisim aşağıdakilerden hangisidir?




- A. Küp
- B. Koni
- C. Silindir

18. Altındaki düzlemlerin oluşturduğu geometrik cisim aşağıdakilerden hangisidir?



- A. Dikdörtgenler Pirizması
- B. Küp
- C. Üçgen Pirizma

20. Altındaki düzlemlerin oluşturduğu geometrik cisim aşağıdakilerden hangisidir?



- A. Dikdörtgenler Pirizması
- B. Küp
- C. Üçgen Pirizma